



TNPSC GROUP II TEST BATCH 2024

TEST XVIII PREMODEL IV

GENERAL ENGLISH, CURRENT EVENTS (TN) INDIAN POLITY, UNIT VIII, UNIT IX, APTITUDE AND MENTAL ABILITY

1. Slowly consuming the earth,
Identify the figure of speech in the above line.
a. Imagery b. Synecdoche c. Hyperbole
d. All the above e. Answer not known
2. Match the poetic lines from column A with the correct poetic devices from column B
Column A
A. She is a lioness
B. Every soul that touches yours
C. I told my wrath my wrath did end.
D. I'm sure you must be weary, dear,
with soaring up so high.
Column B
1. Assonance
2. Repetition
3. Synecdoche
4. Metaphor

	A	B	C	D
a.	1	2	3	4
b.	4	3	2	1
c.	3	4	1	2
d.	4	1	2	3
e.	Answer not known			
3. "Louder, faster, brawling, leaping
Over rock, by rose-bank, sweeping"
Which stage of man is compared here?
a. Youth b. Child c. Mortal prime
d. Old age e. Answer not known
4. It just "sits there, never getting small or ever growing tall"
What does 'It' refer to?
a. Land b. House c. Daffodil
d. Tree e. Answer not known
5. According to Caroline Ann Bowles, the sea is like _____
a. sail b. line c. eternity
d. river e. Answer not known

6. Find the figure of speech mentioned
 "To watch his wood fill up with snow"
 a. Assonance b. Hyperbole c. oxymoron
 d. personification e. Answer not known
7. Says he, "The mystery I've found
 Says he, "The mystery I've found
 Who wrote the above lines?
 a. John Masefield b. Edger Albert Guest c. R L Stevenson
 d. William Makepeace Thackeray e. Answer not known
8. "The River" by Caroline Ann Bowles is a poem of
 a. 4 stanza, 5 lines each b. 5 stanza, 7 lines each
 c. 6 stanza, 2 lines each d. 10 stanza, 6 lines each
 e. Answer not known
9. Here is a tramp who stands and gazes;
 And there is the green for stringing the daisies
 What is the meaning for the word "Tramp"
 a. Person who travels from place to place on foot
 b. Regretting the objects
 c. The objects that seen through the Window
 d. Speed of the brain
 e. Answer not known
10. "My computer has always been so brainy and smart"
 Who is referred to here as "my"
 a. Shanthini Govindhan b. Rudyard Kipling c. Nadia Bush
 d. Mary Botham Howitt e. Answer not known
11. What does the poet equate killing trees with?
 a. Killing dogs b. Killing insects c. Killing worms
 d. Killing Human beings e. Answer not known
12. Match the Following:
- | | Column A | | | | Column B |
|----|--------------------------|---|---|---|----------------|
| | A | B | C | D | |
| | A. Rudyard Kipling | | | | 1. 1865 - 1936 |
| | B. Henry Van Dyke | | | | 2. 1874 - 1968 |
| | C. James Falconer Kirkup | | | | 3. 1918 - 2009 |
| | D. Robert Frost | | | | 4. 1852 - 1933 |
| a. | 1 | 4 | 3 | 2 | |
| b. | 2 | 1 | 4 | 3 | |
| c. | 3 | 2 | 1 | 4 | |
| d. | 4 | 3 | 2 | 1 | |
| e. | Answer not known | | | | |

13. Which poet is came to be known as "The poet laureate of Michigan?"
 a. William Shakespeare b. Edgar Albert Guest c. William Blake
 d. John Masefield e. Answer not known
14. "It's part of a man when his skies are blue"
 Identify the title of the above poem
 a. Team Work b. Courage c. Your Space
 d. Making Life Worthwhile e. Answer not known
15. In the poem "Sea Fever" the poet wants to lead a life at sea like
 a. The penguins and sharks b. The gulls and whales
 c. the pelicans and dolphins d. None
 e. Answer not known
16. Identify the figure of speech
 "It's the old home roof that shelters all the charm that life can give"
 a. Alliteration b. Imagery c. Personification
 d. Hyperbole e. Answer not known
17. "He wished only to borrow
 He'd repay it tomorrow"
 The word "He" refers to
 a. Ant b. Spider c. fly
 d. Cricket e. Answer not known
18. Identify the poem
 "They, too, aware of sun and air and water"
 a. Special hero b. A Poison Tree c. On Killing a Tree
 d. No men are foreign e. Answer not known
19. What is the theme observed in the poem 'life'?
 a. Death of life b. Torture of life c. Misery of life
 d. Journey of life e. Answer not known
20. Find out the figure of speech of the following line:
 A flowery band to bind us to the earth
 a. Assonance b. Anaphora c. Hyperbole
 d. Imagery e. Answer not known
21. 'Down you dash into the sea
 Sea that line hath never sounded'
 Find out the figure of speech:
 a. Anaphora b. Simile c. Apostrophe
 d. Personification e. Answer not known
22. Identify the figure of speech in the following lines:
 Keeping me safe from harm
 a. Alliteration b. Anaphora c. Metaphor
 d. Oxymoron e. Answer not known

23. The poems 'West Running Brook' and 'Road Not Taken' were written by
 a. Caroline Ann Bowles b. Dr. Gieve Patel c. Robert Frost
 d. William Blake e. Answer not known
24. Let me but live my life from year to year,
 With forward face and unreluctant soul.
 What does the phrase 'unreluctant soul' mean here?
 a. willing b. unwilling c. prompt
 d. loth e. Answer not known
25. 'Through the flowers and foliage glancing'
 What is meant by 'glancing' in the above line?
 a. brief look b. hitting c. running
 d. damaging e. Answer not known
26. 'Come hither hither, pretty Fly, with the _____.'
 Complete the line from the poem 'The Spider and the Fly'
 a. Gold and silver wing b. guzzy silver wing c. Pearl and silver wing
 d. diamond silver wing e. Answer not known
27. "Alas! Still faithful to his back"
 Identify the poem:
 a. The Spider and the Fly b. A Poison Tree c. A Tragic Story
 d. On Killing a Tree e. Answer not known
28. When elements were in fierce strife,
 Said to them, "Peace, be still".
 What is the meaning of the word, 'Strife'?
 a. Disappointment b. Disagreement c. Disobedience
 d. Displacement e. Answer not known
29. Match the following
- | | |
|-----------------|--|
| A. Consonance | 1. Repetition of similar consonant sounds in the neighbouring words. |
| B. Assonance | 2. Repetition of similar vowel sounds in the neighbouring words. |
| C. Anaphora | 3. Repetition of a word or a phrase at the beginning of a sequence of sentences, paragraphs and lines. |
| D. Alliteration | 4. Repetition of consonant sounds at the beginning of words. |
- | | | | | |
|----|------------------|---|---|---|
| | A | B | C | D |
| a. | 4 | 3 | 2 | 1 |
| b. | 3 | 4 | 1 | 2 |
| c. | 2 | 1 | 4 | 3 |
| d. | 1 | 2 | 3 | 4 |
| e. | Answer not known | | | |

30. John Masfield was appointed as poet laureate in the year _____.
a. 1950 b. 1903 c. 1930 d. 1901 e. Answer not known
31. The first catch of the young seagull's older brother was
a. Dog fish b. Mackerel c. Herring
d. Shark e. Answer not known
32. The villagers mended the hole with _____.
a. Sand b. Branches of trees c. Shovels
d. Brick e. Answer not known
33. The dikes kept the _____ from rushing in and flooding the land.
a. South sea b. North sea c. East sea
d. West sea e. Answer not known
34. Identify which is the character of prospero's brother.
a. Sebastian b. Antonio c. Gonzalo
d. Ariel e. Answer not known
35. He sprang a couple of yards in the air as he had a teaspoonful of the pain killer.
He refers to:
a. Tom b. Sid c. Peter d. rat e. Answer not known
36. Who is the king of Naples?
a. Prospero b. Sebastian c. Alonso
d. Antonio e. Answer not known
37. Identify who called the narrator as he hurried to school.
a. Walter the blacksmith b. William the blacksmith
c. Watcher, the blacksmith d. Hamel – the teacher
e. Answer not known
38. He was the first Indian born Governor-general of India after independence.
a. Dr. Ambedkar b. Dr. Radhakrishnan c. Dr. Rajendra Prasad
d. Dr. Rajagopalachari e. Answer not known
39. Raman was awarded a noble prize for his work in the field _____.
a. Radium light b. Light scattering c. Tube light
d. Floating light e. Answer not known
40. The female sparrow said with disdain.
Find the meaning of the underlined word.
a. Scorn b. Mercilessly c. Sympathy
d. Admiration e. Answer not known
41. Who is the author of "The Stories from History and Biography"?
a. Nathaniel Hawthorne b. Ruskin Bond c. Tom sawyer
d. Samuel L Clemens e. Answer not known

42. Isaac created the Three laws of
a. Gravity b. Motion c. Movement
d. Texting e. answer not known
43. Choose the correct antonym for the underlined word from the options given:-
He pried into its internal machinery.
a. abstained from looking b. Snooped c. gazed
d. examined e. Answer not known
44. Choose the correct answer:-
The people on the platform began ____ when the bell clanged.
a. to sit down b. to gather their bags c. running to the track
d. hustling about e. Answer not known
45. What is the added embarrassment to sachin?
a. Kitbag b. Dirty clothes c. Poverty
d. Conductor's scolding e. Answer not known
46. Name the Bengali poet and author who wrote 'Gitanjali'.
a. Shamim Azad b. Swami Vivekananda c. Ruskin Bond
d. Rabindranath Tagore e. Answer not known
47. Isaac Newton was born in
a. Canada b. France c. England
d. Italy e. answer not known
48. What is the name of the children's magazine conducted by Mary Mapes Dodge?
a. Hans Brinker b. Ranger Rick c. St. Nicholas
d. Carpet Bag e. Answer not known
49. 'The Discovery of India' was written by Nehru in the prison of
a. Almora Jail b. Bareilly District Jail c. Central Prison, Naini
d. Ahmednagar Fort Prison e. Answer not known
50. "True morality consists, not in following the beaten track, but in finding out the true path for ourselves and in fearlessly following it".
Who said the above statement?
a. Jawaharlal Nehru b. Mahatma Gandhi c. Dr. Salim Ali
d. Nelson Mandela e. Answer not known
51. "That's one small step for a man, one giant leap for mankind"
This famous phrase was said by _____
a. Kalpana Chawla b. Neil Armstrong c. Tenzing
d. Hillary e. Answer not known

52. Regard to battle for Jhansi, which of the following true:
 Assertion [A]: In the Jokhun Bagh massacre, the Rani of Jhansi did not play an active role at the beginning but in the due course of time, she decided fight-preferring an honourable death in the battle field from a hangman's rope.
 Reason [R]: Rani of Jhansi convinced that the British Government held her responsible for the mutiny and massacre and that she would have to face a trial on this charge.
- [A] is true [R] is false
 - [A] is false and [R] is true
 - [A] and [R] are true and reasons correctly
 - [A] and [R] are true [R] has no relation with [A]
 - Answer not known
53. Rani of Jhansi was associated with _____.
 a. Battle of Plassey b. Sepoy Mutiny c. Battle of Buxar
 d. Battle of Panipat e. Answer not known
54. Anne Sullivan came to teach Helen Keller at the age of
 a. 11 b. 20 c. 21 d. 12 e. Answer not known
55. "Democracy is for the people by the people and of people" Who said this?
 a. Abraham Lincoln b. Mandela c. Gandhiji
 d. Nehru e. Answer not known
56. Choose the correct answer:
 Subhash Chandra Bose's efforts were recognised by the Government of India which awarded him _____.
 a. Param Vir Chakra b. Padma Bhushan c. Bharat Ratna
 d. Bharat Ratna posthumously e. Answer not known
57. Choose the correct answer:
 Bharat Ratna was awarded to Mandela in
 a. 1996 b. 2001 c. 1999 d. 1990 e. Answer not known
58. Select the statement which matches with the correct question tag.
 a. We saw no one there, didn't we? b. We saw no one there, do we?
 c. We saw no one there, don't we? d. We saw no one there, did we?
 e. Answer not known
59. Choose the correct matches
 1. Coimbatore - Centre for Ornithology and Natural History
 2. Goa - The Salim Ali Bird Sanctuary
 3. Kerala - Salim Ali School of Ecology and Environment Science
 4. Pondicherry - Thattakad Salim Ali Bird Sanctuary

- a. 2 and 4 are correct b. 1, 2 and 3 are correct c. 1 and 2 are correct
d. 2 and 3 are correct e. Answer not known
60. Who said these words?
"A nation without a vision is like a ship cruising on high seas without aim or direction".
a. Gandhiji b. Rajiv Gandhi c. Jawaharlal Nehru
d. Indira Gandhi e. Answer not known
61. Give the suitable order of articles in the blanks of the given passage.
Write the correct code given below:
It is generally said that _____ cow is _____ useful animal and _____ cat is _____ animal of comfort.
a. the, an, the, an b. the, a, the, an c. a, a, the, an
d. the, an, an, an e. Answer not known
62. Find out the passive voice from the options.
a. He has finished the task b. He was found guilty
c. He was correcting the cadets d. He was a well - known RJ
e. Answer not known
63. Fill up the blanks with suitable tenses.
To their horror, they _____ that, all the work they _____ the previous day _____ in vain.
a. discovered, had done, had been b. discover, had done, had been
c. discovering, had done, had been d. discovered, have done, have been
e. Answer not known
64. The right American English equivalent of the word, 'Chemist' is
a. druggier b. drapier c. druggist
d. narcissist e. Answer not known
65. Read the two sentences and select the correct pair.
1. Why do you come here to appeal to my humanity?
2. Go to the war department.
a. Declarative and Interrogative b. Interrogative and Imperative
c. Interrogative and Exclamatory d. Interrogative and Assertive
e. Answer not known
66. Identify the sentence with adverb:
a. That day he arrived late.
b. Generally speaking, we receive what we deserve.
c. The sweet mango is fit to eat.
d. Everybody wished to enjoy life.
e. Answer not known

67. Match the patterns under Column A with the corresponding sentences under Column B and select the answer from the codes given below.

Column A

A. S V C A

B. S V IO DO

C. S V C

D. S V DO IO

Column B

1. She sent me a parcel

2. He gave prizes to the winners

3. The weather is hot in Chennai

4. She is an English teacher

	A	B	C	D
a.	3	2	4	1
b.	4	2	3	1
c.	3	1	4	2
d.	4	1	3	2
e.	Answer not known			

68. Identify the simple sentence from the options given below :

a. Having completed my homework, I set out to play

b. I completed my homework and I set out to play

c. After I had completed my homework, I set out to play

d. I had to complete my homework but I set out to play

e. Answer not known

69. Find the sentence which conveys the same meaning.

Majority of the students achieved success in their examination.

a. Very few students failed in their English paper.

b. Very few students achieved success in their examination.

c. Very few students failed in their examination.

d. Very few passed in their examination.

e. Answer not known

70. Identify the sentence which is not of the same pattern as the others.

a. Solomon was wise

b. She was excited

c. He became the president

d. He wore new uniform

e. Answer not known

71. Blend the following words and select the correct codes given below.

A. Lecture

1. Broadcast

B. Technology

2. Music

C. News

3. Wizard

D. Pop

4. Demonstration

	A	B	C	D
a.	3	1	4	2
b.	2	4	3	1
c.	4	3	1	2
d.	1	4	2	3
e.	Answer not known			

72. The teacher wanted me to submit my work within a week.

How do grammarians call the underlined verb in the above sentence?

a. concord

b. intransitive verb

c. finite verb

- d. infinitive e. Answer not known
73. Match the following and choose correct code:
 A. Noun + Noun 1. in sight
 B. Adverb + Noun 2. dry clean
 C. Noun + adjective 3. star light
 D. Adjective + verb 4. radio-active
- | | A | B | C | D |
|----|------------------|---|---|---|
| a. | 3 | 4 | 1 | 2 |
| b. | 2 | 3 | 4 | 1 |
| c. | 4 | 1 | 3 | 2 |
| d. | 3 | 1 | 4 | 2 |
| e. | Answer not known | | | |
74. Write a word using the prefix given: able
 a. en__ b. mis__ c. sub__ d. ir__ e. Answer not known
75. Choose the suitable plural form of the word 'taxi'.
 a. taxis b. taxes c. taxies
 d. taxius e. Answer not known
76. Fill in the blanks using the correct voice of the verbs given below :
 You cannot meet the captain of the Cricket Team now, as he _____
 by the reporter at the moment.
 a. is being interviewed b. was interviewed c. is interviewing
 d. interviews e. Answer not known
77. Fill in the blanks with the correct preposition.
 Thirukkural has been translated _____ many languages.
 a. into b. to c. of d. on e. Answer not known
78. Choose the correct combination for the given compound words:
 'Verb + Preposition'
 a. outcome b. feedback c. subgoals
 d. seed list e. Answer not known
79. Write a word using the prefix given: prison
 a. dis__ b. in__ c. im__ d. non__ e. Answer not known
80. Fill in the blanks in the following sentences with appropriate prepositions.
 In case _____ difficulty, you should refer _____ a dictionary and then respond
 _____ the question.
 a. of, to, to b. on, to, to c. of, over, before
 d. off, to, to e. Answer not known
81. The antonym of 'Feigned' is
 a. Fake b. Confused c. Genuine
 d. Cried e. Answer not known

82. Fill in the blanks:

1. I _____ basketball every week.
2. I _____ basketball for 3 hours.
3. I _____ basketball before he came.
4. I _____ basketball tomorrow to this time.

I. Will be playing II. Play III. Have been playing IV. Had played

- a. I, II, III, IV b. II, III, IV, I c. III, I, II, IV
d. IV, I, II, III e. Answer not known

83. Consider the following

1. An MLA
2. The Andaman and Nicobar Islands
3. The Arabian Sea
4. An unit

- a. 4 is wrong b. 3 is wrong c. 2 is wrong
d. 1 is wrong e. answer not known

84. Match the words in British English with their equivalents in American English

- | | |
|-----------|-----------------|
| A. blind | 1. hood |
| B. bonnet | 2. crib |
| C. purse | 3. window shade |
| D. cot | 4. wallet |

- | | A | B | C | D |
|----|------------------|---|---|---|
| a | 2 | 4 | 3 | 1 |
| b | 3 | 1 | 4 | 2 |
| c | 1 | 3 | 4 | 2 |
| d | 2 | 4 | 1 | 3 |
| e. | Answer not known | | | |

85. Identify the parts of speech of the words underlined in sequence:

A person with polite manners is always admired by everyone. He gains much fame and appreciation.

- a. Adverb, noun, adverb, adjective b. Adjective, adverb, verb, noun
c. Noun, adjective, verb, adjective d. Adverb, adjective, verb, noun
e. Answer not known

86. Identify the sentence which does not contain an adverb:

- a. He is often late.
- b. It is not usually as cold as this in July
- c. Never busy what you cannot afford
- d. An orderly arrangement of things will be appreciated
- e. Answer not known

87. The subject of a question tag is a / an
 a. Proper noun b. Pronoun c. Adverb
 d. Adjective e. Answer not known
88. Choose the odd one.
 a. He wants to come up in life b. You are invited to attend the party
 c. Painting is taught by artists here d. To err is human
 e. Answer not known
89. Choose the sentence in impersonal passive voice.
 a. Games are played every evening
 b. A meeting will be conducted by them tomorrow
 c. The project has been completed by the students
 d. The orders are to be obeyed by you
 e. Answer not known
90. Spot the error:
 Nail biting /is more/ disgusting than/ many other habit.
 A B C D
 a. A b. B c. C d. D e. Answer not known
91. "If I had won the lottery last week, I would have bought a new car."
 The above sentence is an example for _____ condition.
 a. Open b. Probable c. Hypothetical
 d. None of these e. Answer not known
92. Fill in the blank with the correct word: (Homophone)
 The thief broke open the house and ran away with a huge
 a. haul b. hall c. hole
 d. whole e. Answer not known
93. Select the correct sentence.
 a. The ponni rice is more superior to IR - 20.
 b. My friend and myself study together during holidays.
 c. The conductor asked the passenger why had he not purchased his tickets.
 d. I shall write to you when I shall reach Mumbai.
 e. Answer not known
94. One side of the earth is most fertile, teeming with life and vegetation.
 Choose the correct 'Synonyms' for the underlined word from the option given:
 a. filled b. struggling c. fight
 d. swelling e. Answer not known
95. Select the correct plural form of "Knife"
 a. Knifes b. Knives c. Knive
 d. No plural e. Answer not known

101. Choose incorrect pair regarding Tamil Nadu Congress Committee President.

- a. 1922 - Tiruppur - Periyar b. 1924 - Thiruvannamalai - Rajaji
c. 1925 - Kanchipuram - Thiru. Vi. Ka d. None of the above
e. Answer not known

தமிழ்நாடு காங்கிரஸ் கமிட்டி தலைவர் தொடர்பான தவறான இணையைத் தேர்வு செய்யவும்.

- a. 1922 - திருப்பூர் - பெரியார் b. 1924 - திருவண்ணாமலை - இராஜாஜி
c. 1925 - காஞ்சிபுரம் - திரு.வி.க d. மேற்கூறியவற்றில் எதுவுமில்லை
e. விடை தெரியவில்லை

102. Who among the following were the students of Dravidian Home started by Natesanar?

1. R.K. Shanmugam 2. S. Subramanyam 3. Narayanasamy
a. 1, 2 b. 1, 3 c. 2, 3 d. 1, 2, 3 e. Answer not known

நடேசனாரால் துவங்கப்பட்ட திராவிடர் இல்லத்தின் மாணவர்கள் யார்?

1. R.K சண்முகம் 2. S. சுப்ரமணியம் 3. நாராயணசாமி
a. 1, 2 b. 1, 3 c. 2, 3 d. 1, 2, 3 e. விடை தெரியவில்லை

103. Match the following

- A. Salem 1. Bauxite
B. Yercaud 2. Iron ore
C. Kanjamalai 3. Magnesite
D. Madurai 4. Molybdenum

- | | A | B | C | D |
|----|---|---|---|---|
| a. | 1 | 2 | 3 | 4 |
| b. | 3 | 1 | 2 | 4 |
| c. | 2 | 1 | 3 | 4 |
| d. | 1 | 3 | 2 | 4 |

e. Answer not known

பொருத்துக:

- A. சேலம் 1. பாக்சைட்
B. ஏற்காடு 2. இரும்புத்தாது
C. கஞ்சமலை 3. மேக்னசைட்
D. மதுரை 4. மாலிப்டினம்

- | | A | B | C | D |
|----|---|---|---|---|
| a. | 1 | 2 | 3 | 4 |
| b. | 3 | 1 | 2 | 4 |
| c. | 2 | 1 | 3 | 4 |
| d. | 1 | 3 | 2 | 4 |

e. விடை தெரியவில்லை

104. Periyar was elected as president of justice party in 1938 while he was in ____ Jail.

- a. Vellore b. Bellary c. Belgaum d. Salem e. Answer not known

பெரியார் 1938ல் ____ சிறையில் இருந்தபோது நீதிக்கட்சியின் தலைவராக தேர்ந்தெடுக்கப்பட்டார்?

- a. வேலூர் b. பெல்லாரி c. பெல்காம் d. சேலம் e. விடை தெரியவில்லை

105. The election to the constituent assembly for 296 seats allotted to the British Indian provinces were held in
 a. May to June 1946
 b. March to April 1946
 c. August to September 1946
 d. July to August 1946
 e. Answer not known
 பிரிட்டிஷ் இந்திய மாகாணங்களுக்கு ஒதுக்கப்பட்ட அரசியல் நிர்ணய சபையின் 296 இடங்களுக்கான தேர்தலானது நடைபெற்றது _____.
 a. மே 1946 முதல் ஜூன் 1946 வரை
 b. மார்ச் 1946 – ஏப்ரல் 1946
 c. ஆகஸ்டு 1946 – செப்டம்பர் 1946
 d. ஜூலை 1946 – ஆகஸ்டு 1946
 e. விடை தெரியவில்லை
106. Choose the correct statements about Tamilnadu – Ports.
 i. Chennai, Ennore and Tuticorin are major ports of Tamilnadu.
 ii. The intermediate Port – Tuticorin Port.
 iii. All the minor ports are managed by the Tamilnadu Maritime Board, Chennai Port.
 a. i, ii only
 b. ii, iii only
 c. i, iii
 d. i, ii and iii only
 e. Answer not known
 தமிழ்நாட்டின் துறைமுகங்கள் பற்றி சரியானதைக் தேர்ந்தெடு:
 i. சென்னை, எண்ணூர், தூத்துக்குடி, ஆகியவை தமிழ்நாட்டின் பெரிய துறைமுகங்களாகும்
 ii. தூத்துக்குடி – நடுத்தர துறைமுகமாகும்.
 iii. அனைத்து சிறிய துறைமுகங்களும் - தமிழ்நாடு கடல்சார் மையத்தால் நிர்வகிக்கப்பட்டு வருகிறது.
 a. i, ii மட்டும்
 b. ii, iii மட்டும்
 c. i, iii மட்டும்
 d. i, ii மற்றும் iii மட்டும்
 e. விடை தெரியவில்லை
107. Identify the correct match
 a. Ninth schedule – Division of powers between the union and states
 b. Seventh Schedule – Acts and Regulation of the State legislature dealing with the land reforms
 c. Fifth schedule – Allocation of seats in the Rajya Sabha
 d. Eighth schedule - Language recognized by the constitution
 e. Answer not known
 சரியான இணையைக் கண்டறிக.
 a. ஒன்பதாவது அட்டவணை – மத்திய மற்றும் மாநிலங்களுக்கிடையேயான அதிகாரப் பகிர்வு
 b. ஏழாவது அட்டவணை- நிலசீர்திருத்தத்திற்கான சட்டமன்ற ஒழுங்குமுறைகள் மற்றும் சட்டங்கள்
 c. ஐந்தாவது அட்டவணை - ராஜ்யசபைக்கான இடங்கள் ஒதுக்கீடு
 d. எட்டாவது அட்டவணை – அரசியலமைப்பால் அங்கீகரிக்கப்பட்ட மொழிகள்
 e. விடை தெரியவில்லை
108. Fundamental rights can be suspended during the National emergency except the rights guaranteed in the Articles
 a. Article 19 and 21
 b. Article 14 and 20
 c. Article 19 and 20
 d. Article 20 and 21
 e. Answer not known

தேசிய அவசரநிலையின் போது சரத்து _____ல் உள்ளவற்றை தவிர பிற அடிப்படை உரிமைகள் ரத்து செய்யப்படும்.

- a. சரத்து 19 மற்றும் 21 b. சரத்து 14 மற்றும் 20 c. சரத்து 19 மற்றும் 20
d. சரத்து 20 மற்றும் 21 e. விடை தெரியவில்லை

109. Choose the correct statement about population Growth in Tamil Nadu.

- i. Districts with lower population - Perambalur, The Nilgris, Ariyalur and Theni.
ii. Minimum density districts - The Nilgris, Thiruchirappalli.
iii. District with Higher sex ratio - The Nilgris, Kanniyakumari, Nagapattinam.

- a. i only b. ii only c. ii and iii only
d. i, ii and iii e. Answer not known

தமிழ்நாட்டின் மக்கள் தொகை வளர்ச்சியின் படி சரியான கூற்றைத் தேர்ந்தெடு:

- i. குறைவான மக்கள் தொகையுடைய மாவட்டங்கள் பெரம்பலூர், நீலகிரி, அரியலூர், தேனி.
ii. குறைவான அடர்த்தி உள்ள மாவட்டம் - நீலகிரி, திருச்சிராப்பள்ளி.
iii. அதிக பாலின விகிதம் கொண்ட மாவட்டங்கள் - நீலகிரி, கன்னியாகுமரி, நாகப்பட்டினம்.

- a. i மட்டும் b. ii மட்டும் c. ii மற்றும் iii மட்டும்
d. i, ii மற்றும் iii e. விடை தெரியவில்லை

110. Sathya Dharma Salai was established in ____.

- a. 1865, Vadalur b. 1867, Maruthur c. 1865, Maruthur
d. 1867, Vadalur e. Answer not known

சத்திய தரும சாலை தொடங்கப்பட்டது ____.

- a. 1865, வடலூர் b. 1867, மருதூர் c. 1865, மருதூர்
d. 1867, வடலூர் e. விடை தெரியவில்லை

111. The birth name of Vaikunda Swamikal was ____

- a. Mudichudum Perumal b. Muthukutty c. Vaikundar
d. Ayyavazhi e. Answer not known

வைகுண்ட சுவாமிகளின் இயற்பெயர் ____.

- a. முடிகுடும் பெருமாள் b. முத்துக்குட்டி c. வைகுண்டர்
d. அய்யாவழி e. விடை தெரியவில்லை

112. Which of the following statements are true regarding 'Makkalai Thedi Maruthuvan' Scheme?

1. It is inaugurated by honourable CM MK Stalin in Krishnagiri district.
2. Targeted age group for beneficiaries in this scheme is 45 years (or) above.
3. The scheme objective is to identify communicable disease and address it at an early stage.

- a. 1 and 2 b. 1 and 3 c. 2 and 3
d. 1, 2 and 3 e. Answer not known

‘மக்களைத்தேடி மருத்துவம்’ திட்டம் குறித்த பின்வரும் கூற்றுகளில் சரியானவை எவை?

1. கிருஷ்ணகிரி மாவட்டத்தில் மாண்புமிகு முதல்வர் மு.க.ஸ்டாலின் அவர்களால் திறந்து வைக்கப்பட்டது.

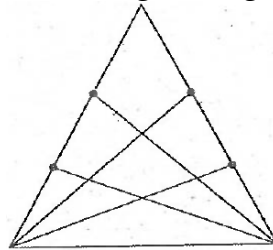
2. இந்தத் திட்டத்தில் இலக்கு நிர்ணயிக்கப்பட்ட பயனாளிகளின் வயதுப் பிரிவு 45 வயது (அல்லது) அதற்கு மேல்.
 3. இத்திட்டத்தின் நோக்கம் தொற்று நோயைக் கண்டறிந்து, அதற்கு ஆரம்ப கட்டத்திலேயே தீர்வு காண்பதாகும்.
- a. 1 மற்றும் 2 b. 1 மற்றும் 3 c. 2 மற்றும் 3
 d. 1, 2 மற்றும் 3 e. விடை தெரியவில்லை

113. Who formed Madras provincial scheduled caste federation?
 a. M.C. Raja b. Iyothee Thasar c. B.R. Ambedhkar
 d. Rettamalai Srinivasan e. Answer not known
 மதராஸ் மாகாண தாழ்த்தப்பட்டோர் கூட்டமைப்பு யாரால் துவங்கப்பட்டது?
 a. M.C. ராஜா b. அயோத்தி தாசர் c. BR அம்பேத்கர்
 d. இரட்டைமலை சீனிவாசன் e. விடை தெரியவில்லை

114. Which of the following is correct about the financial powers of the president?
 1. Money bills can be introduced in parliament only with the recommendations of the president
 2. No demand for grants can be made except on his recommendation
 3. Finance commission is constituted by the president after every 5 years
- a. Only 1 b. Only 2 and 3 c. Only 1 and 2
 d. All of these e. Answer not known
 பின்வருவனவற்றுள் ஜனாதிபதியின் நிதி அதிகாரங்களைப் பொறுத்து சரியானவை எவை?
 1. ஜனாதிபதியின் பரிந்துரையுடன் மட்டுமே பாராளுமன்றத்தில் பண மசோதாவை அறிமுகப்படுத்த முடியும்.
 2. இவரது பரிந்துரையின்றி மானியங்களுக்கான கோரிக்கையை கொண்டுவர முடியாது.
 3. ஒவ்வொரு 5 ஆண்டுக்குப் பிறகும் நிதி ஆணையமானது ஜனாதிபதியால் அமைக்கப்படுகிறது.
- a. 1 மட்டும் b. 2 மற்றும் 3 மட்டும் c. 1 மற்றும் 2 மட்டும்
 d. அனைத்தும் e. விடை தெரியவில்லை

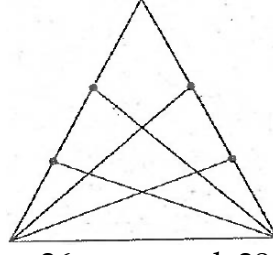
115. Which of the following statements are true according to 2011 census?
 1. Sex ratio of Tamilnadu is 940 female per 1000 males.
 2. The district with least population is Nilgiris.
- a. 1 only b. 2 only c. Both 1 and 2
 d. Neither 1 nor 2 e. Answer not known
 2011 மக்கள் தொகை கணக்கெடுப்பின்படி பின்வரும் கூற்றுகளில் சரியானது எது ?
 1. தமிழ்நாட்டின் பாலின விகிதம் 1000 ஆண்களுக்கு 940 பெண்கள்.
 2. குறைந்தபட்ச மக்கள் தொகை கொண்ட மாவட்டம் நீலகிரி.
- a. 1 மட்டும் b. 2 மட்டும் c. 1 மற்றும் 2 இரண்டும்
 d. 1 மற்றும் 2 இல்லை e. விடை தெரியவில்லை

116. The total number of triangles in the given figure is



- a. 27 b. 25 c. 26 d. 28 e. Answer not known

கொடுக்கப்பட்ட படத்தில் உள்ள முக்கோணங்களின் மொத்த எண்ணிக்கை _____ ஆகும்.



- a. 27 b. 25 c. 26 d. 28 e. விடை தெரியவில்லை

117. Find the difference between simple interest and compound interest on Rs. 1,200 for one year at 10% per annum reckoned half-yearly.

- a. Rs. 2.50 b. Rs. 3 c. Rs. 3.75 d. Rs. 4 e. Answer not known

ஆண்டுக்கு 10% வட்டி வீதம் ஓர் ஆண்டுக்கு ரூ. 1,200 க்கு வட்டி அரை ஆண்டிற்கு ஒரு முறை கணக்கிட்டால் தனிவட்டிக்கும், கூட்டு வட்டிக்கும் உள்ள வித்தியாசம் காண்.

- a. ரூ. 2.50 b. ரூ. 3 c. ரூ. 3.75 d. ரூ. 4 e. விடை தெரியவில்லை

118. The diagonal of a rectangle is $\sqrt{41}$ cm and its area is 20 Sq cm. What is the perimeter of the rectangle?

- a. 9 c b. 18 cm c. 20 cm d. 41 cm e. Answer not known

ஒரு செவ்வகத்தின் மூலைவிட்டம் $\sqrt{41}$ செ.மீ மற்றும் அதன் பரப்பு 20 ச.செ.மீ எனில் செவ்வகத்தின் சுற்றளவு என்ன?

- a. 9 செ.மீ b. 18 செ.மீ c. 20 செ.மீ d. 41 செ.மீ e. விடை தெரியவில்லை

119. A book seller has 220 Maths Books, 380 Tamil Books, 420 English Books. He wants to sell the books in a box, subject-wise in equal numbers. What will be the greatest number of boxes required?

- a. 10 b. 20 c. 30 d. 40 e. Answer not known

ஓர் நூல் விற்பனையாளர் 220 கணித நூல்களையும், 380 தமிழ் நூல்களையும், 420 ஆங்கில நூல்களையும் வைத்துள்ளார். ஒவ்வொரு பெட்டியிலும் பாட வரிசையாகச் சம எண்ணிக்கையில் மூன்று பாட நூல்களையும் வைத்து விற்க விரும்புகிறார். எனில், அதிகபட்சமாக எத்தனைப் பெட்டிகள் தேவைப்படும்?

- a. 10 b. 20 c. 30 d. 40 e. விடை தெரியவில்லை

120. A family went to hotel and spent Rs. 350 for food and paid extra 5% GST. Calculate SGST.

- a. ₹8.25 b. ₹8.75 c. ₹8.20

- d. ₹8.27 e. Answer not known

ஒரு குடும்பம் உணவகம் சென்று Rs.350 ஐச் செலவிட்டு கூடுதலாகச் சரக்கு மற்றும் சேவை வரியாக 5% செலுத்தியது எனில் மாநில சரக்கு சேவை வரியை கணக்கிடுக.

- a. ₹8.25 b. ₹8.75 c. ₹ 8.20

- d. ₹8.27 e. விடை தெரியவில்லை

121. Choose the correct statements with regards to CM-ARISE

1. Implemented through Ministry of MSME
2. Entrepreneurship development of SC/ ST
3. Loan provided up-to 10 lakhs

- a. 1, 2 only b. 2, 3 only c. 1, 3 only
d. 1, 2, 3 e. Answer not known

CM-ARISE தொடர்பாக சரியான அறிக்கைகளைத் தேர்வு செய்யவும்

1. MSME அமைச்சகம் மூலம் செயல்படுத்தப்படுகிறது
2. எஸ்சி/எஸ்டியின் தொழில்முனைவு மேம்பாடு
3. 10 லட்சம் வரை கடன் வழங்கப்படுகிறது

- a. 1, 2 மட்டும் b. 2, 3 மட்டும் c. 1, 3 மட்டும்
d. 1, 2, 3 e. விடை தெரியவில்லை

122. Youngest player from India to be selected for the world chess championship?
a. Gukesh b. Praggnanandhaa c. Vidit Gujrathi
d. Harikrishna e. Answer not known

உலக செஸ் சாம்பியன்ஷிப்பிற்கு இந்தியாவில் இருந்து தேர்ந்தெடுக்கப்பட்ட இளம் வீரர் யார்?

- a. குகேஷ் b. பிரக்யானந்தா c. விதித் குஜராத்தி
d. ஹரிகிருஷ்ணா e. விடை தெரியவில்லை

123. What is the amount allocated to the Tamil Nadu Green Climate fund?
a. 500 crores b. 1000 crores c. 1500 crores
d. 2000 crores e. Answer not known

தமிழ்நாடு பசுமை காலநிலை நிதிக்கு எவ்வளவு தொகை ஒதுக்கப்பட்டுள்ளது?

- a. 500 கோடி b. 1000 கோடி c. 1500 கோடி
d. 2000 கோடி e. விடை தெரியவில்லை

124. Choose the correct Statements

1. Tamil Nadu is the leading state in the start-up eco-system.
2. In the last 3 years 6115 new start-up's were established in TN
3. SIPCOT Industrial Innovation Centre established in Kancheepuram

- a. 1, 2 only b. 2, 3 only c. 1, 3 only
d. 1, 2, 3 e. Answer not known

சரியான கூற்றுகளைத் தேர்ந்தெடுக்கவும்

1. ஸ்டார்ட்-அப் சுற்றுச்சூழல் அமைப்பில் தமிழ்நாடு முன்னணி மாநிலமாக உள்ளது.
2. கடந்த 3 ஆண்டுகளில் 6115 புதிய ஸ்டார்ட் அப்கள் தமிழ்நாட்டில் நிறுவப்பட்டுள்ளன
3. காஞ்சிபுரத்தில் சிப்காட் தொழில்துறை புத்தாக்க மையம் நிறுவப்பட்டது

- a. 1, 2 மட்டும் b. 2, 3 மட்டும் c. 1, 3 மட்டும்
d. 1, 2, 3 e. விடை தெரியவில்லை

125. AJT John Singh who recently passed away is associated with which field?

- a. Wild life conservationist b. Wild life photographer
c. Bird Man of India d. Soil Biologist
e. Answer not known

சமீபத்தில் காலமான AJT ஜான் சிங் எந்த துறையுடன் தொடர்புடையவர்?

- a. வன உயிரின பாதுகாவலர் b. வனவிலங்கு புகைப்படக்காரர்
c. இந்தியாவின் பறவை மனிதன் d. மண் உயிரியலாளர்
e. விடை தெரியவில்லை

126. The Rajya Sabha was first constituted in
 a. 1951 b. 1952 c. 1953
 d. 1954 e. Answer not known
 ராஜ்யசபாவானது முதன்முதலாக _____ல் அமைக்கப்பட்டது
 a. 1951 b. 1952 c. 1953
 d. 1954 e. விடை தெரியவில்லை
127. Which is correct about the Lok Adalats?
 1. An award of a Lok Adalat shall be deemed to be a decree of a civil court
 2. No appeal shall lie to any court against the award of the Lok Adalat
 3. Matrimonial and Family disputes are not covered under Lok Adalat
 a. only 1 is correct b. only 1 and 2 is correct c. only 3 is correct
 d. All the above e. Answer not known
 லோக் அதாலத்தைப் பொருத்து சரியானவை எவை?
 1. லோக் அதாலத்தின் தீர்ப்பானது உரிமையியல் நீதிமன்றத்தின் ஆணைக்கு இணையாகக் கருதப்படும்
 2. லோக் அதாலத்தின் தீர்ப்பிற்கு எதிராக எந்த நீதிமன்றத்திலும் மேல் முறையீடு செய்ய முடியாது.
 3. லோக் அதாலத்தின் கீழ் திருமணம் (ம) குடும்ப வழக்குகள் எடுத்துக்கொள்ளப்படமாட்டாது.
 a. 1 மட்டும் சரி b. 1 மற்றும் 2 மட்டும் சரி c. 3 மட்டும் சரி
 d. மேற்கண்ட அனைத்தும் e. விடை தெரியவில்லை
128. Which of the following statements are true regarding i-Tamilnadu Technology (iTNT) hub?
 1. It was established in the Anna University campus in Chennai.
 2. It would Co-ordinate efforts to use artificial intelligence, machine learning, and blockchain technologies to solve complex challenges in the state.
 3. It is fully funded by state government.
 a. 1 & 2 b. 2 & 3 c. 1 & 3
 d. 1, 2 & 3 e. Answer not known
 தமிழ்நாடு தொழில்நுட்ப மையம் (iTNT) தொடர்பான பின்வரும் கூற்றுகளில் எது சரியானது?
 1. இது சென்னையில் உள்ள அண்ணா பல்கலைக்கழக வளாகத்தில் நிறுவப்பட்டது.
 2. இது மாநிலத்தில் உள்ள சிக்கலான சவால்களைத் தீர்க்க செயற்கை நுண்ணறிவு, இயந்திர கற்றல் மற்றும் பிளாக்செயின் தொழில்நுட்பங்களைப் பயன்படுத்துவதற்கான முயற்சிகளை ஒருங்கிணைக்கும்.
 3. இது மாநில அரசால் முழுமையாக நிதியளிக்கப்படுகிறது.
 a. 1 & 2 b. 2 & 3 c. 1 & 3
 d. 1, 2 & 3 e. விடை தெரியவில்லை
129. Match the following
 A. Bronze tiger 1. Auroville
 B. Bronze vessel 2. keezhadi
 C. Roman coins 3. Arikamedu
 D. Golden Kajal Stick 4. Kodumanal

	A	B	C	D
a.	4	3	2	1
b.	4	2	1	3
c.	4	3	1	2
d.	4	1	3	2

e. Answer not known

பொருத்துக:

- | | |
|----------------------------------|---------------|
| A. வெண்கலத்தாலான புலி | 1. ஆரோவில் |
| B. வெண்கலம் கிண்ணம் | 2. கீழடி |
| C. ரோமானிய நாணயங்கள் | 3. அரிக்கமேடு |
| D. தங்கத்தாலான மை திட்டும்குச்சி | 4. கொடுமணல் |

	A	B	C	D
a.	4	3	2	1
b.	4	2	1	3
c.	4	3	1	2
d.	4	1	3	2

e. விடை தெரியவில்லை

130. A touchstone named "Perumpatankal" used to test the purity of gold was found in

- | | | |
|--------------|---------------------|-----------------------|
| a. Keezhadi | b. Khuan luk pat | c. Quseiral al qadhim |
| d. Sivakalai | e. Answer not known | |

தங்கத்தின் தரத்தை அறிய உதவும் 'பெரும் பத்தன் கல்' என்ற உரைகல் கிடைக்கப்பெற்ற இடம் எது?

- | | | |
|-----------|---------------------|-----------------------|
| a. கீழடி | b. குவான் லூக் பாட் | c. குசேரல் அல் காதிம் |
| d. சிவகளை | e. விடை தெரியவில்லை | |

131. Match the following:

- | | |
|-------------------------|------------------------------|
| A. Block Chain Backbone | 1. Online Services |
| B. TNeGA | 2. Remote Sensing Technology |
| C. e-Sevai | 3. Nambikkai Inaiyam |
| D. TN-GIS | 4. State Nodal Agency |

	A	B	C	D
a.	1	4	2	3
b.	4	3	1	2
c.	3	4	1	2
d.	3	4	2	1

பின்வருவனவற்றைப் பொருத்துக:

- | | |
|-------------------------------|-------------------------------|
| A. பிளாக் செயின் முதுகெலும்பு | 1. ஆன்லைன் சேவைகள் |
| B. TNeGA | 2. தொலை உணர்தல் தொழில்நுட்பம் |
| C. இ-சேவை | 3. நம்பிக்கை இணையம் |
| D. TN-GIS | 4. மாநில நோடல் ஏஜென்சி |

	A	B	C	D
a.	1	4	2	3
b.	4	3	1	2
c.	3	4	1	2
d.	3	4	2	1

e. Answer not known

- | |
|-------------------------------|
| 1. ஆன்லைன் சேவைகள் |
| 2. தொலை உணர்தல் தொழில்நுட்பம் |
| 3. நம்பிக்கை இணையம் |
| 4. மாநில நோடல் ஏஜென்சி |

e. விடை தெரியவில்லை

132. Head of Tamilnadu Khilafat movement was _____
 a. Sowkat Ali b. Abul Kalam Azad c. Yakub Hasen
 d. Quaid-E-Millath e. Answer not known
 தமிழக கிலாபத் இயக்கத்தின் தலைவர் யார்?
 a. செளகத் அலி b. அபுல் கலாம் ஆசாத் c. யாகுப் ஹாசன்
 d. காயிதே மில்லத் e. விடை தெரியவில்லை

133. Match the following

Articles	Provisions
A. Article 245	1. Territorial extent of central and state legislation
B. Article 248	2. Distribution of legislative subjects
C. Article 246	3. Residuary powers of legislation
D. Article 250	4. Power of the parliament to legislate to any matter in state list during emergency

	A	B	C	D
a.	4	2	3	1
b.	1	2	3	4
c.	1	3	2	4
d.	4	3	2	1

e. Answer not known

பொருத்துக:

சரத்துகள்

அம்சங்கள்

- A. சரத்து 245 1. மத்திய மற்றும் மாநில சட்டமன்றங்களுக்கான பிராந்திய எல்லைகள்
 B. சரத்து 248 2. சட்டமன்றங்களுக்கான வகையினங்களைப் பகிர்ந்தளித்தல்
 C. சரத்து 246 3. சட்டமன்றத்திற்கான நிலையான அதிகாரங்கள்
 D. சரத்து 250 4. அவசர நிலையின் போது மாநிலப் பட்டியலிலுள்ள எந்தவொரு பொருளின் மீதும் சட்டமியற்றும் பாராளுமன்றத்தின் அதிகாரம்

	A	B	C	D
a.	4	2	3	1
b.	1	2	3	4
c.	1	3	2	4
d.	4	3	2	1

e. விடை தெரியவில்லை

134. Manamadurai in Sivaganga district is famous for?
 a. Carpets b. Handmade candles c. Pottery
 d. Mango pickles e. Answer not known
 சிவகங்கை மாவட்டத்தில் உள்ள மானாமதுரை எதற்கு புகழ் பெற்றது?
 a. தரைவிரிப்புகள் b. கையால் செய்யப்பட்ட மெழுகுவர்த்திகள்
 c. மட்பாண்டங்கள் d. மாங்காய் ஊறுகாய்
 e. விடை தெரியவில்லை

135. Which commission recommended for the setting up of two special authorities designated as Lokpal and Lokayukta?
 a. Sarkaria Commission (1983 – 1987)
 b. Punchhi Commission (2007 – 2010)

- c. Administrative Reforms Commission of India (1966 – 1970)
- d. Santhanam Committee on Prevention of Corruption (1962 – 1964)
- e. Answer not known

லோக்பால் மற்றும் லோக் ஆயுத்தாவை வடிவமைக்க இரண்டு சிறப்பு அதிகாரிகளை நியமிக்க வேண்டுமென பரிந்துரைத்த குழு எது?

- a. சர்க்காரியா குழு (1983 – 1987)
- b. புன்ச் குழு (2007 – 2010)
- c. இந்திய நிர்வாக சீர்திருத்தக் குழு (1966 – 1970)
- d. ஊழல் தடுப்பிற்கான சந்தானம் குழு (1962 – 1964)
- e. விடை தெரியவில்லை

136. 10 men can complete a piece of work in 15 days and 15 women can complete the same work in 12 days. If all the 10 men and 15 women work together, in how many days will the work get completed?

- a. 6 days
- b. $6\frac{1}{3}$ days
- c. $6\frac{2}{3}$ days
- d. $7\frac{2}{3}$ days
- e. Answer not known

10 ஆண்கள் ஒரு வேலையை 15 நாட்களில் முடிப்பர். 15 பெண்கள் அதே வேலையை 12 நாட்களில் முடிப்பர். 10 ஆண்களும் 15 பெண்களும் சேர்ந்து இவ்வேலையை முடிக்க எத்தனை நாட்கள் ஆகும்?

- a. 6 நாட்கள்
- b. $6\frac{1}{3}$ நாட்கள்
- c. $6\frac{2}{3}$ நாட்கள்
- d. $7\frac{2}{3}$ நாட்கள்
- e. விடை தெரியவில்லை

137. Find the compound interest on Rs. 1,000 at the rate of 10% per annum for 18 months when interest is compounded half yearly

- a. Rs. 1,157.63
- b. Rs. 157.63
- c. 167.73
- d. Rs. 157.36
- e. Answer not known

வட்டி அரை வருடமாக கூட்டப்படும்போது 18 மாதங்களுக்கு ஆண்டுக்கு 10% என்ற வீதத்தில் Rs. 1,000 மீதான கூட்டு வட்டியைக் காண்க.

- a. Rs. 1,157.63
- b. Rs. 157.63
- c. 167.73
- d. Rs. 157.36
- e. விடை தெரியவில்லை

138. Sathish Kumar borrowed Rs.52,000 from a money lender at a particular rate of simple interest. After 4 years he paid Rs. 79,040 to settle his Debt. At what rate of interest he borrowed the money?

- a. 13%
- b. 26%
- c. 23%
- d. 16%
- e. Answer not known

சதிஷ்குமார் என்பவர் ஒரு கடன் வழங்கும் நபரிடமிருந்து 52,000ஐ ஒரு குறிப்பிட்ட தனிவட்டி வீதத்தில் கடனாகப் பெற்றார். 4 ஆண்டுகள் கழித்து சதிஷ்குமார் ரூ. 79,040ஐ மொத்த தொகையாக செலுத்தினார் எனில், வட்டி வீதத்தைக் காண்க.

- a. 13%
- b. 26%
- c. 23%
- d. 16%
- e. விடை தெரியவில்லை

139. If $5^7 + 5^7 + 5^7 + 5^7 + 5^7 = 5^y$ then y

- a. 5
- b. 7
- c. 8
- d. 9
- e. Answer not known

$5^7 + 5^7 + 5^7 + 5^7 + 5^7 = 5^y$ எனில் y ன் மதிப்பு

- a. 5
- b. 7
- c. 8
- d. 9
- e. விடை தெரியவில்லை

140. Find the value of K, if $1^3 + 2^3 + 3^3 + \dots + K^3 = 4356$.
 a. 11 b. 10 c. 12 d. 9 e. Answer not known
 $1^3 + 2^3 + 3^3 + \dots + K^3 = 4356$ எனில், K-ன் மதிப்பைக் காண்க.
 a. 11 b. 10 c. 12 d. 9 e. விடை தெரியவில்லை
141. Article 243D and Art 243T provides for the reservation of not less than
 a. $1/5^{\text{th}}$ of the total number of seats for women
 b. $1/4^{\text{th}}$ of the total number of seats for women
 c. $1/3^{\text{rd}}$ of the total number of seats for women
 d. $1/6^{\text{th}}$ of the total number of seats for women
 e. Answer not known
 சரத்து 243D மற்றும் சரத்து 243T ஆகியவை எதற்கு குறையாத இட ஒதுக்கீட்டை வழங்குகிறது?
 a. பெண்களுக்கான மொத்த இடங்களின் எண்ணிக்கையில் $1/5$ பங்கு
 b. பெண்களுக்கான மொத்த இடங்களின் எண்ணிக்கையில் $1/4$ பங்கு
 c. பெண்களுக்கான மொத்த இடங்களின் எண்ணிக்கையில் $1/3$ பங்கு
 d. பெண்களுக்கான மொத்த இடங்களின் எண்ணிக்கையில் $1/6$ பங்கு
 e. விடை தெரியவில்லை
142. The Mahatma Gandhi community colleges have been opened in Tamil nadu in which among the following?
 a. Districts with lowest education ratio
 b. Districts with highest population of SCs & STs
 c. Small revenue villages
 d. Prisons for vocational training of Prisoners.
 e. Answer not known
 தமிழகத்தில் மகாத்மா காந்தி சமுதாயக் கல்லூரிகள் பின்வருவனவற்றில் எங்கு திறக்கப்பட்டுள்ளன?
 a. குறைந்த கல்வி விகிதம் கொண்ட மாவட்டங்கள்
 b. அதிக SC & ST மக்கள்தொகை கொண்ட மாவட்டங்கள்
 c. சிறிய வருவாய் கிராமங்கள்
 d. கைதிகளின் தொழில் பயிற்சிக்கான சிறைகள்.
 e. விடை தெரியவில்லை
143. The Sathyagraha committee for Neil statue removal was formed under leadership of _____
 a. Somayajulu b. Vaidhyanathar c. N.M.R. Subburaman
 d. Varadharajulu e. Answer not known
 நீல் சிலையை அகற்ற 1927-ல் யாருடைய தலைமையில் சத்தியா கிரகக்குழு அமைக்கப்பட்டது?
 a. சோமயாஜுலு b. வைத்தியநாதர் c. N.M.R. சுப்புராமன்
 d. வரதராஜுலு e. விடை தெரியவில்லை
144. Which day was the Madurai Meenakshi amman temple entry movement headed by Vaidhyanadhar on 1939 held?
 a. June 9 b. July 9 c. June 19
 d. July 19 e. Answer not known

a. ஜீன் 9 b. ஜீலை 9 c. ஜீன் 19
d. ஜீலை 19 e. விடை தெரியவில்லை

- 25 | Page

150. FDI inflow into Tamil Nadu during 2023–24 is _____
 a. 2.17 billion USD b. 2.44 billion USD c. 44.42 billion USD
 d. 46 billion USD e. Answer not known
 2023–24ல் தமிழ்நாடு பெற்ற அன்னிய நேரடி முதலீடு _____
 a. 2.17 பில்லியன் டாலர்கள் b. 2.44 பில்லியன் டாலர்கள்
 c. 44.42 பில்லியன் டாலர்கள் d. 46 பில்லியன் டாலர்கள்
 e. விடை தெரியவில்லை
151. Who was the only women minister in the Madras Province before independence?
 a. Muthulakshmi b. Rukmani Lakshmipathy
 c. Durgabhai Deshmukh d. Vijayalakshmi
 e. Answer not known
 சுதந்திரத்துக்கு முன் சென்னை மாகாணத்தில் அமைச்சர் பதவியேற்ற ஒரே பெண் ____
 a. முத்துலட்சுமி b. ருக்மணி லட்சுமிபதி
 c. துர்காபாய் தேஷ்முக் d. விஜயலட்சுமி
 e. விடை தெரியவில்லை
152. Which one of the following is not a conditions for recognition as a National Party?
 a. If it wins 2% of seats in the Lok Sabha at a general election and these candidates are elected from 3 states
 b. If it is recognised as a state party in four states
 c. If it is recognised as a state party in 3 states
 d. If it secures 6% of valid votes polled in any four (or) more states at a general election to the Lok Sabha and in addition, it wins 4 seats in Lok Sabha from any state (or) states
 e. Answer not known
 பின்வருவனவற்றுள் தேசிய கட்சியாக அங்கீகாரம் அளிப்பதற்கான நிபந்தனைகளில் இல்லாத ஒன்று?
 a. இறுதியாக நடைபெற்ற மக்களவை தேர்தலில் குறைந்தபட்சம் 3 மாநிலங்களில் 2% தொகுதிகளில் வெற்றி பெற்றிருத்தல் வேண்டும்.
 b. 4 மாநிலங்களில் மாநில கட்சியாக அங்கீகாரம் பெற்றிருத்தல் வேண்டும்
 c. 3 மாநிலங்களில் மாநில கட்சியாக அங்கீகாரம் பெற்றிருத்தல் வேண்டும்
 d. மக்களவைத் தேர்தலில் (அ) 4 மாநிலங்களுக்கான சட்டமன்ற தேர்தலில் செல்லத்தக்க மொத்த வாக்குகளில் ஒரு கட்சி 6% வாக்குகளை பெற்றிருத்தல் வேண்டும்.
 e. விடை தெரியவில்லை
153. “Catch the Rain” campaign – related with
 a. To improve ground water level
 b. To create Rain Water Harvesting Structures (RWHS)
 c. To control the flood level in urban areas
 d. To improve dam infrastructure
 e. Answer not known

”மழையை பிடி” பிரச்சாரம் - தொடர்புடையது

- a. நிலத்தடி நீர் மட்டத்தை மேம்படுத்துதல்
- b. மழைநீர் சேகரிப்பு கட்டமைப்புகளை (RWHS) உருவாக்குவதற்கு
- c. நகர்ப்புறங்களில் வெள்ள அளவைக் கட்டுப்படுத்துதல்
- d. அணை உள்கட்டமைப்பை மேம்படுத்துதல்
- e. விடை தெரியவில்லை

154. Match the following

Cases

A. Indira Sawhney Case, 1993

B. SR Bommai Case, 1995

C. Chandrakumar Case, 1997

D. IR Coelho Case, 2006

Judgements

1. 9th Schedule subjected to judicial review

2. Judicial Review is the basic structure of the constitution

3. Federalism is the basic structure

4. Reservation subjected to cap of 50%

	A	B	C	D
a.	1	2	3	4
b.	3	4	1	2
c.	4	3	2	1
d.	2	1	4	3

e. Answer not known

பொருத்துக்:

வழக்குகள்

A. இந்திரா சகானி வழக்கு, 1993

B. SR பொம்மை வழக்கு 1995

C. சந்திரகுமார் வழக்கு, 1997

D. IR கோயல்கோ வழக்கு, 2006

தீர்ப்புகள்

1. 9-வது அட்டவணை நீதி மறு ஆய்வுக்கு உட்பட்டது.

2. நீதி மறு ஆய்வு என்பது அரசியலமைப்பின் அடிப்படை கட்டமைப்பாகும்

3. கூட்டாட்சி முறையே அடிப்படை கட்டமைப்பாகும்

4. இட ஒதுக்கீடு 50% க்கு மிகாமல் இருக்க வேண்டும்.

	A	B	C	D
a.	1	2	3	4
b.	3	4	1	2
c.	4	3	2	1
d.	2	1	4	3

e. விடை தெரியவில்லை

155. The power of the Supreme Court of India to decide disputes between the centre and states falls under its

a. Advisory Jurisdiction

b. Appellate Jurisdiction

c. Original Jurisdiction

d. Writ Jurisdiction

e. Answer not known

மத்திய (ம) மாநில அரசுகளுக்கிடையேயான வழக்குகளில் இந்திய உச்சநீதிமன்றத்தின் அதிகாரமானது அதன் _____ வரம்பின் கீழ் வருகிறது.

a. ஆலோசனை அதிகார வரம்பு

b. மேல்முறையீட்டு அதிகாரவரம்பு

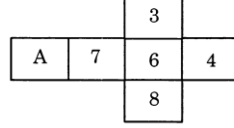
c. முதலேற்பு அதிகார வரம்பு

d. ஆணை பிறப்பிக்கும் அதிகார வரம்பு

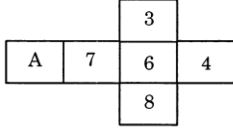
e. விடை தெரியவில்லை

156. Simplify: $\frac{(6.5 \times 4.7) + (6.5 \times 5.3)}{(1.3 \times 7.9) - (1.3 \times 6.9)}$
- a. 50.15 b. 10.5 c. 1.5 d. 50 e. Answer not known
- சுருக்குக: $\frac{(6.5 \times 4.7) + (6.5 \times 5.3)}{(1.3 \times 7.9) - (1.3 \times 6.9)}$
- a. 50.15 b. 10.5 c. 1.5 d. 50 e. விடை தெரியவில்லை

157. On folding the given paper which of the following cube cannot be formed?



1. 2. 3. 4.
- a. 1, 2, 3 and 4 b. 1, 2 and 4 c. 1, 2 and 3
- d. 1, 3 and 4 e. Answer not known
- கொடுக்கப்பட்ட காகிதத்தை மடித்தால் கீழ்க்கண்ட எந்த கனச்சதுரத்தை உருவாக்க முடியாது?



1. 2. 3. 4.
- a. 1, 2, 3 மற்றும் 4 b. 1, 2 மற்றும் 4 c. 1, 2 மற்றும் 3
- d. 1, 3 மற்றும் 4 e. விடை தெரியவில்லை

158. How many frustums can a right circular cone have?

- a. Infinitely b. 3 c. 2
- d. 1 e. Answer not known
- ஒரு நேர்வட்டக் கூம்பில் எத்தனை இடைக்கண்டங்கள் உள்ளன?
- a. எண்ணிலடங்கா b. 3 c. 2
- d. 1 e. விடை தெரியவில்லை

159. A tent is in the shape of a right circular cylinder surmounted by a cone. The total height and the diameter of the base are 13.5 m and 28 m. If the height of the cylindrical portion is 3 m, find the total surface area of the tent.

- a. 1430 m² b. 1403 m² c. 1340 m²
- d. 1034 m² e. Answer not known
- ஒரு கூடாரமானது உருளையின் மீது கூம்பு இணைந்த வடிவில் உள்ளது. கூடாரத்தின் மொத்த உயரம் 13.5 மீ மற்றும் விட்டம் 28 மீ. மேலும் உருளைப் பாகத்தின் உயரம் 3 மீ எனில், கூடாரத்தின் மொத்த பூர்ப்பரப்பைக் காண்க.
- a. 1430 மீ² b. 1403 மீ² c. 1340 மீ²
- d. 1034 மீ² e. விடை தெரியவில்லை

160. Mean of 100 observation is found to be 40. At the time of computation two items were wrongly taken as 3 and 72 instead of 30 and 27. Find the correct Mean.
 a. 39.82 b. 40. 18 c. 41 d. 42. 5 e. Answer not known
 100 எண்களின் சராசரி 40 என்று காணப்பட்டது கணக்கிடும் நேரத்தில் 30 மற்றும் 27 என்ற இரு விவரங்கள் 3 மற்றும் 72 எனத்தவறுதலாக எடுத்துக்கொள்ளப்பட்டது என தெரிய வந்தது எனில் சரியான சராசரியைக் காண்க.
 a. 39.82 b. 40. 18 c. 41 d. 42. 5 e. விடை தெரியவில்லை
161. “Vidiyal” application – related with
 a. To provide better governance
 b. To empower the marginalised section
 c. For organ transplantation
 d. To reduce corruption among politician
 e. Answer not known
 “விடியல்” விண்ணப்பம்” – தொடர்புடையது
 a. சிறந்த நிர்வாகத்தை வழங்குதல்
 b. ஒதுக்கப்பட்ட பிரிவினருக்கு அதிகாரம் அளித்தல்
 c. உறுப்பு மாற்று அறுவை சிகிச்சைக்காக
 d. அரசியல்வாதிகளிடையே ஊழலைக் குறைக்க
 e. விடை தெரியவில்லை
162. Which of the following book was written by Moovalur Ramamirtham about the Devadashi’s situation?
 a. Dasikalin Avalam b. Mathi Petra Minor c. Pottu Kattuthal
 d. Dasikalin Vazhvu e. Answer not known
 “தேவதாசிகளின் அவலநிலையைக் காட்டும் மூவலூர் ராமாமிர்தம் அவர்கள் எழுதிய நூல் _____
 a. தாசிகளின் அவலம் b. மதி பெற்ற மைனர் c. பொட்டு கட்டுதல்
 d. தாசிகளின் வாழ்வு e. விடை தெரியவில்லை
163. Which women leader led the Madras Salt Sathyagraha?
 a. Rukmani Lakshmipathy b. Durgabhai c. Sarojini Naydu
 d. Kittur Rani e. Answer not known
 சென்னை உப்பு சத்தியாகிரகத்திற்கு தலைமையேற்ற பெண் _____
 a. ருக்மணி லட்சுமிபதி b. துர்காபாய் c. சரோஜினி நாயுடு
 d. கிட்டூர் ராணி e. விடை தெரியவில்லை
164. Match the following based on allotment of the houses to the beneficiaries under Periyar Ninaivu Samathuvapuram.

Communal Category	Allotment Proportion
A. Others	1. 25%
B. BC	2. 10%
C. MBC	3. 40%
D. SC	4. 25%

	A	B	C	D
a.	3	2	4	1
b.	2	1	4	3
c.	1	2	3	4
d.	1	2	4	3

e. Answer not known

பெரியார் நினைவு சமத்துவபுரத்தின் கீழ் உள்ள பயனாளிகளுக்கு வழங்கப்பட்ட வீடுகளின் ஒதுக்கீட்டின் அடிப்படையில் பின்வருவனவற்றை பொருத்தவும் வகுப்பறை வகை ஒதுக்கீடு விகிதம்

- A. மற்றவை 1. 25 %
 B. BC 2. 10 %
 C. MBC 3. 40 %
 D. SC 4. 25 %

	A	B	C	D
a.	3	2	4	1
b.	2	1	4	3
c.	1	2	3	4
d.	1	2	4	3

e. விடை தெரியவில்லை

165. When did Pulithevan recaptured Nerkattumseval?

- a. 1764 b. 1765 c. 1766 d. 1767 e. Answer not known
 பூலித்தேவன் நெற்கட்டும் சேவலை மீண்டும் கைப்பற்றிய ஆண்டு
 a. 1764 b. 1765 c. 1766 d. 1767 e. விடை தெரியவில்லை

166. Which of the following is correct about the Comptroller and Auditor General of India?

- a. No Minister can represent the CAG in both houses of Parliament
 b. The CAG can remain in office till the age of 62 years
 c. He can be removed by the President on the recommendation of Parliament by simple majority
 d. He holds office up to the pleasure of the President of India

பின்வருவனவற்றுள் இந்தியத் தலைமை கணக்கு மற்றும் தணிக்கையாளரைப் பொறுத்து சரியானது எது?

- a. பாராளுமன்றத்தின் இரு அவைகளிலும் இந்தியத் தலைமை கணக்கு மற்றும் தணிக்கையாளரை எந்தவொரு அமைச்சரும் பிரதிநிதித்துவப்படுத்த முடியாது.
 b. தலைமை கணக்கு மற்றும் தணிக்கையாளர் 62 வயதுவரை பதவியிலிருப்பார்
 c. எளிய பெரும்பான்மையால் பாராளுமன்றத்தின் பரிந்துரையின் பேரில் இவரை குடியரசு தலைவர் பதவி நீக்கம் செய்ய இயலும்
 d. இவர் இந்திய ஜனாதிபதி விருப்பம் வரை பதவியிலிருப்பார்.
 e. விடை தெரியவில்லை

167. Which is the nodal agency for Organising Global Investors Meet (GIM) in Tamilnadu

- a. TIIC b. TANSIDCO c. TIDCO
 d. Guidance e. Answer not known

தமிழ்நாட்டில் உலகளாவிய முதலீட்டாளர்கள் சந்திப்பை (GIM) ஏற்பாடு செய்வதற்கான நோடல் நிறுவனம் எது?

- a. TIIC b. TANSIDCO c. TIDCO
 d. Guidance e. விடை தெரியவில்லை

168. Consider the following statements about creation of new state and select the correct option

 1. To form a new state, the opinion of the state legislature is not binding on the President
 2. To form a new state, the opinion of the state legislature is binding on the President
 3. To form a new state, the Bill needs to be passed by the Parliament by a simple majority.
 4. To form a new state, the Bill needs to be passed by the Parliament by a Special Majority.

a. 1 only b. 1 & 3 only c. 2 only
d. 1 & 4 only e. Answer not known

புதிய மாநிலங்களின் உருவாக்கம் பற்றிய பின்வரும் வாக்கியங்களைக் கருத்தில் கொண்டு சரியானதைத் தேர்ந்தெடுக்கவும்.

 1. புதிய மாநிலத்தை உருவாக்குவதில் மாநில சட்டமன்றத்தின் கருத்தானது ஜனாதிபதியைக் கட்டுப்படுத்தாது.
 2. புதிய மாநிலத்தை உருவாக்குவதில் மாநில சட்டமன்றத்தின் கருத்தானது ஜனாதிபதியைக் கட்டுப்படுத்தும்
 3. புதிய மாநிலத்தை உருவாக்கும் மசோதாவானது பாராளுமன்றத்தின் எளிய பெரும்பான்மை மூலம் நிறைவேற்றப்படும்.
 4. புதிய மாநிலத்தை உருவாக்கும் மசோதாவானது பாராளுமன்றத்தின் சிறப்பு பெரும்பான்மை மூலம் நிறைவேற்றப்படும்.

a. 1 மட்டும் b. 1 மற்றும் 3 மட்டும் c. 2 மட்டும்
d. 1 மற்றும் 4 மட்டும் e. விடை தெரியவில்லை

169. Which is incorrect about the powers enjoyed by the Prime Minister?

 - a. He advises the President with regard to summoning and proroguing of the sessions of the Parliament
 - b. He can recommend dissolution of the Lok Sabha to President at any time
 - c. He can recommend dissolution of the Rajya Sabha to President at any time
 - d. He announces government policies on the floor of the House
 - e. Answer not known

பிரதமருக்கான அதிகாரங்களைப் பொறுத்து தவறானது எது?

 - a. பாராளுமன்றக் கூட்டத்தை கூட்டவும், நீட்டிப்பதைப் பற்றியும் - ஜனாதிபதிக்கு பரிந்துரை செய்வார்.
 - b. ஜனாதிபதியிடம் எப்பொழுது வேண்டுமானாலும் மக்களவையைக் கலைப்பதற்கான பரிந்துரையை செய்வார்.
 - c. ஜனாதிபதியிடம் எப்பொழுது வேண்டுமானாலும் ராஜ்ய சபையை கலைப்பதற்கான பரிந்துரையை செய்வார்.
 - d. அவையில் அரசாங்கத்தின் கொள்கைகளை அறிவிப்பவர்
 - e. விடை தெரியவில்லை

170. The original name of Dheeran Chinnamalai is _____

 - a. Sevathaiah b. Theerthagiri c. Sivgiri
d. Vellaiyappan e. Answer not known

தீரன் சின்னமலையின் இயற்பெயர் _____.

 - a. செவத்தையா b. தீர்த்தகிரி c. சிவகிரி
d. வெள்ளையன் e. விடை தெரியவில்லை

171. Choose the correct statement regarding the "We-SAFE Scheme"?
1. Women Employment and Safety Programme
 2. Funded by World Bank
 3. Scheme will be implemented at Rs. 1,185 crore in the next 5 years
- a. 1, 2 b. 2, 3 c. 1, 3 d. 1, 2, 3 e. Answer not known

We-SAFE திட்டம் குறித்த சரியான கூற்றினைத் தேர்க

1. பெண்கள் வேலைவாய்ப்பு மற்றும் பாதுகாப்பு திட்டம்
 2. உலக வங்கியால் நிதி உதவி அளிக்கப்பட்டது
 3. அடுத்த 5 ஆண்டுகளில் ரூ.1,185 கோடியில் திட்டம் செயல்படுத்தப்படும்
- a. 1, 2 b. 2, 3 c. 1, 3 d. 1, 2, 3 e. விடை தெரியவில்லை

172. Choose the correct statement regarding TN-RISE
1. Rural Incubator and Start-up enabler - RISE
 2. Funded by World Bank under TNRTP Scheme
 3. Promoting women start-up and entrepreneurship
- a. 1, 2 only b. 2, 3 only c. 1, 3 only
d. 1, 2, 3 e. Answer not known

TN-RISE குறித்த சரியான கூற்றுகளை கண்டறிக

1. Rural Incubator and Start-up enabler - RISE
 2. TNRTP திட்டத்தின் கீழ் உலக வங்கியால் நிதியளிக்கப்பட்டது
 3. பெண்களுக்கான ஸ்டார்ட்அப் மற்றும் தொழில்முனைவோர்களை ஊக்குவித்தல்
- a. 1, 2 மட்டும் b. 2, 3 மட்டும் c. 1, 3 மட்டும்
d. 1, 2, 3 e. விடை தெரியவில்லை

173. Tamil Nadu Space Industrial Policy 2024 is released by _____.
- a. SIPCOT b. TIIC c. TIDCO
d. TAHDCO e. Answer not known

தமிழ்நாடு விண்வெளி தொழில் கொள்கை 2024 _____ ஆல் வெளியிடப்பட்டது.

- a. SIPCOT b. TIIC c. TIDCO
d. TAHDCO e. விடை தெரியவில்லை

174. Name the committee appointed by Tamil Nadu government on new Criminal laws.

- a. Kalaiarasan committee b. Sathyanarayanan committee
c. Justice Chandru committee d. Murugesan committee
e. Answer not known

புதிய குற்றவியல் சட்டங்களுக்காக தமிழக அரசால் நியமிக்கப்பட்ட குழு _____

- a. கலையரசன் குழு b. சத்தியநாராயணன் குழு
c. நீதியரசர் சந்திர குழு d. முருகேசன் குழு
e. விடை தெரியவில்லை

175. Choose the correct statement regarding NITI-Aayog SDG Index 2023 - 24
1. TN is a front runner in 15 goals
 2. TN ranked first in goal number 1.
 3. TN score improved from 74 in 2020-21 to 78 in 2023-24
- a. 1, 2 only b. 1, 3 only c. 2, 3 only
d. 1, 2, 3 e. Answer not known

நிதி ஆயோக்கின் SDG குறியீடு 2023-24 குறித்த சரியான கூற்றுகளை தேர்க

1. தமிழ்நாடு 15 இலக்குகளில் முன்னணியில் உள்ளது
 2. இலக்கு எண் 1 இல் தமிழ்நாடு முதலிடத்தில் உள்ளது
 3. 2020-21 இல் 74 வது இடத்தில் தமிழ்நாடு 2023-24இல் 78 இடத்தில் உள்ளது
- a. 1, 2 மட்டும் b. 1, 3 மட்டும் c. 2, 3 மட்டும்
d. 1, 2, 3 e. விடை தெரியவில்லை

176. A can do a piece of work in 7 days of 9 hours each and B can do it in 6 days of 7 hours each. How long will they take to do it, working together $8\frac{2}{5}$ hours a day

- a. 4 days b. 5 days c. 3 days
d. $4\frac{1}{2}$ days e. Answer not known

A, ஒரு வேலையை 9 மணி நேரம் கொண்ட 7 வேலை நாட்களிலும், B அதே வேலையை 7 மணி நேரம் கொண்ட 6 வேலை நாட்களிலும் முடிக்கக்கூடும். அவர்கள்

இருவரும் சேர்ந்து ஒரு நாளைக்கு $8\frac{2}{5}$ மணி நேரம் வேலை செய்தால்,

அவ்வேலையை முடிக்க எவ்வளவு காலம் எடுப்பார்கள்?

- a. 4 நாட்கள் b. 5 நாட்கள் c. 3 நாட்கள்
d. $4\frac{1}{2}$ நாட்கள் e. விடை தெரியவில்லை

177. How many ways can you answer five TRUE or FALSE questions?

- a. 10 b. 5 c. 25 d. 32 e. Answer not known

சரியா? தவறா? கூறுக என 5 கேள்விகள் இருக்கின்றன. இந்த 5 கேள்விகளுக்கும் மொத்தமாக எத்தனை விதமான பதில்கள் தரமுடியும்?

- a. 10 b. 5 c. 25 d. 32 e. விடை தெரியவில்லை

178. If the fractions $\frac{4}{6}, \frac{3}{8}, \frac{6}{12}$ and $\frac{5}{16}$ are arranged in ascending order of their values, which one will be the fourth?

- a. $\frac{3}{8}$ b. $\frac{5}{16}$ c. $\frac{6}{12}$ d. $\frac{4}{6}$ e. Answer not known

$\frac{4}{6}, \frac{3}{8}, \frac{6}{12}$ மற்றும் $\frac{5}{16}$ ஆகியவற்றை ஏறுவரிசையில் எழுதும் போது, நான்காவது எண் எது?

- a. $\frac{3}{8}$ b. $\frac{5}{16}$ c. $\frac{6}{12}$ d. $\frac{4}{6}$ e. விடை தெரியவில்லை

179. Find the LCM of $a^2 + 4a - 12$, $a^2 - 5a + 6$ whose GCD is $a - 2$

- a. $(a + 6)(a - 2)(a - 3)$ b. $(a - 2)(a - 3)$ c. $(a - 1)(a - 2)(a - 3)$
d. $(a + 6)(a - 2)$ e. Answer not known

மீ.பொ.ம காண்க $a^2 + 4a - 12$, $a^2 - 5a + 6$ இவற்றின் மீ.பெ.வ $a - 2$

- a. $(a + 6)(a - 2)(a - 3)$ b. $(a - 2)(a - 3)$ c. $(a - 1)(a - 2)(a - 3)$
d. $(a + 6)(a - 2)$ e. விடை தெரியவில்லை

180. The bacteria in a culture grows by 5% in the first hour, decreases by 8% in the second hour and again increases by 10% in the third hour. Find the count of the bacteria at the end of 3 hours, if its initial count was 10000.

184. Which is incorrect about the Article 3?

- a. Increase the area of the state
- b. Diminish the area of the state
- c. Alter the boundaries of the state
- d. Cannot unite two or more states
- e. Answer not known

சரத்து 3 ஐப் பொறுத்து தவறானது எது?

- a. மாநிலத்தின் பரப்பை அதிகரித்தல்
- b. மாநிலத்தின் பரப்பை குறைத்தல்
- c. மாநிலத்தின் எல்லைகளை மாற்றியமைத்தல்
- d. 2 அல்லது அதற்கு மேற்பட்ட மாநிலங்களை இணைக்க முடியாது
- e. விடை தெரியவில்லை

185. Consider the Articles under 73rd constitutional Amendment Act 1992.

- | | |
|------------------|------------------------------|
| A. Article 243 A | 1. Gram Sabha |
| B. Article 243 D | 2. Reservation of seats |
| C. Article 243 I | 3. State Finance Commission |
| D. Article 243 K | 4. State Election Commission |

- | | A | B | C | D |
|----|---|---|---|---|
| a. | 1 | 2 | 3 | 4 |
| b. | 1 | 3 | 2 | 4 |
| c. | 1 | 2 | 4 | 3 |
| d. | 2 | 1 | 3 | 4 |

e. Answer not known

73வது அரசியலமைப்புத் திருத்தச் சட்டம் 1992-ன் சரத்துகளைக் கருதுக.

- | | |
|---------------------|-------------------------|
| A. சட்டக்கூறு 243 A | 1. கிராம சபா |
| B. சட்டக்கூறு 243 D | 2. இட ஒதுக்கீட்டு முறை |
| C. சட்டக்கூறு 243 I | 3. மாநில நிதிக்குழு |
| D. சட்டக்கூறு 243 K | 4. மாநில தேர்தல் ஆணையம் |

- | | A | B | C | D |
|----|---|---|---|---|
| a. | 1 | 2 | 3 | 4 |
| b. | 1 | 3 | 2 | 4 |
| c. | 1 | 2 | 4 | 3 |
| d. | 2 | 1 | 3 | 4 |

e. விடை தெரியவில்லை

186. ariyakatru aasatraar kaNNum theriyungaal
inmai aridhae veLiRu

In this Kural the term aasu means

- | | | |
|-----------|---------------------|-----------|
| a. Panivu | b. Thunivu | c. Kutram |
| d. Arivu | e. Answer not known | |

அரியகற்று ஆசுஅற்றார் கண்ணும் தெரியுங்கால்

இன்மை அரிதே வெளிறு

என்ற குறளில் உள்ள “ஆசு” என்ற சொல்லின் பொருள் என்ன?

- | | | |
|----------|---------------------|------------|
| a. பணிவு | b. துணிவு | c. குற்றம் |
| d. அறிவு | e. விடை தெரியவில்லை | |

187. Choose the correct statement about Tamilnadu Health.

- i. Tamilnadu has two-tier health infrastructure.
- ii. Comprised of hospitals and primary health centres.
- a. i only b. ii only c. i, ii only
- d. None of the above e. Answer not known

தமிழ்நாடு – உடல்நலம் பற்றி சரியானதைத் தேர்ந்தெடு:

- i. தமிழ்நாடு ஈடுக்கு உடல்நல அடிப்படைக் கட்டமைப்பைக் கொண்டுள்ளன.
- ii. அவை ஆரம்ப சுகாதார நிலையங்கள் மற்றும் மருத்துவ மனைகள்
- a. i மட்டும் b. ii மட்டும் c. i, ii மட்டும்
- d. இவை எதுவுமில்லை e. விடை தெரியவில்லை

188. Choose the correct statement.

- i. Southern Railway Headquarter – Chennai.
- ii. It covers the states of Tamilnadu, Kerala, Puducherry, minor portions of Karnataka and Andhra Pradesh.
- iii. Tamilnadu has a total railway track length of 6693 km.
- a. i, ii only b. ii, iii only c. i, ii and iii
- d. i, iii only e. Answer not known

சரியானதைத் தேர்ந்தெடு:

- i. தென்னக இரயில்வேயின் தலைமையகம் சென்னை
- ii. தமிழ்நாடு, கேரளா, புதுச்சேரி, மற்றும் கர்நாடகா ஆந்திராவின் சில பகுதிகளை உள்ளடக்கியுள்ளது.
- iii. தமிழ்நாட்டில் உள்ள இருப்புப்பாதையின் மொத்த நீளம் - 6693 கி.மீ
- a. i, ii மட்டும் b. ii, iii மட்டும் c. i, ii மற்றும் iii
- d. i, iii மட்டும் e. விடை தெரியவில்லை

189. The question as to whether the preamble can be amended under article 368 of the constitution arose for the first time in the historic case of

- a. Barubari Union Case b. Kesavananda Bharathi Case
- c. Minerva Mills Case d. LIC of India Case
- e. Answer not known

சட்டக்கூறு 368ன் படி முகப்புரையில் சட்டத்திருத்தம் செய்யலாமா? என்ற வினா முதன் முதலில் எழுந்த வழக்கு?

- a. மத்திய பெருபரி வழக்கு b. கேசவானந்தா பாரதி வழக்கு
- c. மினர்வா மில்ஸ் வழக்கு d. L.I.C. இந்திய வழக்கு
- e. விடை தெரியவில்லை

190. Match the following by choosing correct answer on the basis of formation of each states

- | | |
|------------|---------|
| A. Kerala | 1. 1975 |
| B. Sikkim | 2. 1966 |
| C. Haryana | 3. 1986 |
| D. Mizoram | 4. 1956 |

- | | | | | |
|----|---|---|---|---|
| | A | B | C | D |
| a. | 4 | 3 | 1 | 2 |
| b. | 4 | 3 | 2 | 1 |
| c. | 4 | 1 | 2 | 3 |
| d. | 4 | 1 | 3 | 2 |

e. Answer not known

மாநிலங்கள் உருவானதன் அடிப்படையில் கீழ்க்கண்டவற்றை பொருத்துக:

- | | |
|-------------|---------|
| A. கேரளா | 1. 1975 |
| B. சிக்கிம் | 2. 1966 |
| C. ஹரியானா | 3. 1986 |
| D. மிசோரம் | 4. 1956 |

- | | | | | |
|----|---|---|---|---|
| | A | B | C | D |
| a. | 4 | 3 | 1 | 2 |
| b. | 4 | 3 | 2 | 1 |
| c. | 4 | 1 | 2 | 3 |
| d. | 4 | 1 | 3 | 2 |

e. விடை தெரியவில்லை

191. CM Breakfast Scheme extended to the rural government aided schools on _____.

- a. June 15, 2024 b. Sep 15, 2023 c. July 15, 2024
d. Aug 9, 2024 e. Answer not known

முதல்வர் காலை உணவு திட்டம் கிராமப்புற அரசு உதவி பெறும் பள்ளிகளுக்கும் _____ அன்று நீட்டிக்கப்பட்டது.

- a. ஜூன் 15, 2024 b. செப் 15, 2023 c. ஜூலை 15, 2024
d. ஆகஸ்ட் 9, 2024 e. விடை தெரியவில்லை

192. Periyar vision OTT platform is launched by _____.

- a. DMK b. Dravidar Kazhagam c. AIADMK
d. Periyar Dravidar Kazhagam e. Answer not known

பெரியார் விஷன் OTT தளத்தை தோற்றுவித்தது _____

- a. DMK b. திராவிடர் கழகம் c. AIADMK
d. பெரியார் திராவிடர் கழகம் e. விடை தெரியவில்லை

193. Which is Kamala Harris ancestral place in Tamil Nadu?

- a. Thulasendrapuram, Thanjavur
b. Thulasendrapuram, Tiruvarur
c. Thulasendrapuram, Nagapattinam
d. Thulasendrapuram, Myladudurai
e. Answer not known

தமிழ்நாட்டில் கமலா ஹாரிசின் பூர்வீகம் எங்கு அமைந்துள்ளது?

- a. துளசேந்திரபுரம், தஞ்சாவூர் b. துளசேந்திரபுரம், திருவாரூர்
c. துளசேந்திரபுரம், நாகப்பட்டினம் d. துளசேந்திரபுரம், மயிலாடுதுறை
e. விடை தெரியவில்லை

194. Choose the correct pairs regarding the transgender Award

- | | |
|-------------------------|--|
| 1. 2024 – Sandhiya Devi | 2. 2023 – Grace Banu |
| 3. 2022 – Aishwarya | 4. 2021 – M. Muralidharan |
| a. 1 pair | b. 2 pairs c. 3 pairs |
| d. 4 pairs | e. Answer not known |

மூன்றாம் பாலினத்தவர் விருது குறித்த சரியான இணைகளை தேர்க

- | | |
|------------------------|------------------------|
| 1. 2024 – சந்தியா தேவி | 2. 2023 – கிரேஸ் பானு |
| 3. 2022 – ஐஸ்வர்யா | 4. 2021 – M. முரளிதரன் |

- a. ஒரு இணை b. இரண்டு இணைகள் c. மூன்று இணைகள்
d. நான்கு இணைகள் e. விடை தெரியவில்லை

195. Which health district recorded Zero Maternal Death in 2023 – 2024?

- a. Chennai b. Kanyakumari c. Coimbatore
d. Virudhunagar e. Answer not known

2023 – 2024ஆம் ஆண்டு எந்த சுகாதார மாவட்டத்தில் பூஜ்ஜிய மகப்பேறு மரணம் பதிவு செய்யப்பட்டது?

- a. சென்னை b. கன்னியாகுமரி c. கோயம்புத்தூர்
d. விருதுநகர் e. விடை தெரியவில்லை

196. Two series are given below with specific pattern

6	18	36	108	216	648
2	(a)	(b)	(c)	(d)	(e)

What will come in the place of (e) ?

- a. 482 b. 344 c. 216 d. 420 e. Answer not known

கீழே கொடுக்கப்பட்ட குறிப்பிட்ட உத்திகளுடன் கூடிய இரு தொடர்களில் (e) –ன் மதிப்பு காண்க.

6	18	36	108	216	648
2	(a)	(b)	(c)	(d)	(e)

- a. 482 b. 344 c. 216 d. 420 e. விடை தெரியவில்லை

197. The taxi charges in a city comprise of a fixed charge of ` 100 for 5 kms and ` 16 per km for every additional km. If the amount paid at the end of the trip was ` 740 find the distance travelled.

- a. Rs. 45 km b. Rs.50 km c. Rs. 60 km
d. Rs. 68 km e. Answer not known

வாடகை மகிழுந்தின் (Taxi) வாடகைக் கட்டணமாக, முதல் 5 கி.மீ தொலைவிற்குக் குறைந்த பட்சக் கட்டணமாக Rs.100ம், 5 கி.மீ க்கு மிகும் தொலைவிற்கு கி.மீ க்கு Rs.16 எனவும் நிர்ணயிக்கப்பட்டுள்ளது. ஒருவர் தனது பயணத்திற்காக வழங்கிய மொத்தத் தொகை Rs.740 எனில், அவர் பயணித்த தொலைவைக் காண்க.

- a. Rs. 45 km b. Rs. 50 km c. Rs. 60 km
d. Rs. 68 km e. விடை தெரியவில்லை

198. A person buys an article for Rs. p and sells it for Rs. q thereby gaining r% . The selling price in terms of cost price may be written as -

- a. $\frac{pr}{100}$ b. $\frac{p(100+r)}{100}$ c. $\frac{p(100-r)}{100}$
d. $\frac{r(100+p)}{100}$ e. Answer not known

ஒரு நபர் ஒரு பொருளை ரூ.p க்கு வாங்கி ரூ.q இக்கு விற்கிறார். இதன் மூலம் r% இலாபம் பெறுகின்றார். வாங்கிய விலையை பொறுத்து விற்பனை விலையை எவ்வாறு எழுதலாம்.

- a. $\frac{pr}{100}$ b. $\frac{p(100+r)}{100}$ c. $\frac{p(100-r)}{100}$
d. $\frac{r(100+p)}{100}$ e. விடை தெரியவில்லை

199. If 18, a, b, -3 are in arithmetic progress, then what is the value of (a + b)?
a. 7 b. 11 c. 15 d. 21 e. Answer not known
18, a, b, -3 இவை கூட்டுத்தொடர் வரிசையில் உள்ளது எனில் (a + b)-யின் மதிப்புக் காண்க.
a. 7 b. 11 c. 15 d. 21 e. விடை தெரியவில்லை
200. A bag contains one rupee, 50 paise and 25 paise coins in the ratio 5 : 6 : 7. If the total amount is Rs. 780. Find the number of coin of each kind.
a. 400, 560, 680 b. 230, 400, 600 c. 400, 280, 400
d. 400, 480, 560 e. Answer not known
ஒரு பையில், ஒரு ரூபாய், 50 பைசா, 25 பைசா நாணயங்கள் முறையே 5 : 6 : 7 என்ற விகிதத்தில் உள்ளது. அதன் மொத்த மதிப்பு ரூ 780 எனில் ஒவ்வொரு நாணயங்களின் எண்ணிக்கை என்ன?
a. 400, 560, 680 b. 230, 400, 600 c. 400, 280, 400
d. 400, 480, 560 e. விடை தெரியவில்லை



அறிவுக்கு ஏற்றது, மக்களுக்கு நன்மை பயப்பது,
மக்களின் அறிவை வளர்ச்சியடையச் செய்வது எதுவோ
அதைப் பற்றியே பேசு.

-தந்தை பெரியார்