

## TNPSC GROUP IIA MAIN 2024 – TEST BATCH TEST – VIII – TAMILNADU ECONOMY, GENERAL ENGLISH, GENERAL INTELLIGENCE AND REASONING

1. Match the following sectors with their allocations (₹ Crore):

SECTOR	ALLOCATION
A. Education	1. 41,733
B. Urban Development	2. 52,254
C. Highways	3. 20,043
D. Health	4. 20,198

	A	B	C	D
a.	2	1	3	4
b.	1	4	2	3
c.	3	2	1	4
d.	2	3	4	1

e. Answer not known

பின்வரும் துறைகளை அவற்றின் நிதி ஒதுக்கீடுகளுடன் (ரூ. கோடி) பொருத்தவும்  
துறை ஒதுக்கீடு

A. கல்வி	1. 41,733
B. நகர்ப்புற வளர்ச்சி	2. 52,254
C. நெடுஞ்சாலைகள்	3. 20,043
D. சுகாதாரம்	4. 20,198

	A	B	C	D
a.	2	1	3	4
b.	1	4	2	3
c.	3	2	1	4
d.	2	3	4	1

e. விடை தெரியவில்லை

2. Choose the correct pair:

- a. Revenue Expenditure - Includes infrastructure creation
- b. Revenue Deficit - Difference between total receipts and total expenditure
- c. Fiscal Deficit - Total expenditure exceeds total receipts
- d. Capital Expenditure - Fixed asset creation
- e. Answer not known

பின்வருவனவற்றில் சரியான இணையைத் தேர்ந்தெடுக்கவும்

- a. வருவாய் செலவு - உட்கட்டமைப்பு உருவாக்கம் உள்ளடக்கியது
- b. வருவாய் பற்றாக்குறை - மொத்த வரவுகளுக்கும் மொத்த செலவுகளுக்கும் இடையேயான வேறுபாடு

- c. நிதி பற்றாக்குறை - மொத்த செலவு மொத்த வரவுகளை விட அதிகமாக உள்ளது
- d. மூலதன செலவு - நிலையான சொத்து உருவாக்கம்
- e. விடை தெரியவில்லை

3. What is the total expenditure of Tamil Nadu as per the budget 2024-25?

- a. ₹3, 48,289 crore    b. ₹4, 12,504 crore    c. ₹47,681 crore
- d. ₹1, 95,173 crore    e. Answer not known

2024-25 ஆம் ஆண்டுக்கான நிதிநிலை அறிக்கையின் படி தமிழ்நாட்டின் மொத்த செலவு மதிப்பீடு என்ன?

- a. ₹3, 48,289 கோடி    b. ₹4, 12,504 கோடி    c. ₹47,681 கோடி
- d. ₹1, 95,173 கோடி    e. விடை தெரியவில்லை

4. Which of the following statements is incorrect?

- a. Subsidies and grants make up 32.4% of every rupee spent.
- b. Urban Development receives ₹27,922 crore in the budget.
- c. Education has the highest allocation among all sectors.
- d. Tamil Nadu's own tax revenue contributes 43.4% of total receipts.
- e. Answer not known

பின்வரும் கூற்றுகளில் எது தவறானது?

- a. மானியங்கள் மற்றும் உதவித்தொகைக்காக செலவிடப்படும் ஒவ்வொரு ரூபாயிலும் 32.4% ஆகும்.
- b. நகர்ப்புற வளர்ச்சிக்கு நிதிநிலை அறிக்கையில் ரூ. 27,922 கோடி ஒதுக்கப்பட்டுள்ளது.
- c. அனைத்து துறைகளை விட கல்வித்துறை அதிகபட்ச ஒதுக்கீட்டைப் பெறுகிறது.
- d. தமிழ்நாட்டின் சொந்த வரி வருவாய் மொத்த வரவுகளில் 43.4% பங்களிப்பு செய்கிறது.
- e. விடை தெரியவில்லை

5. What is the projected revenue from Tamil Nadu's own taxes in 2024-25?

- a. ₹1, 95,173 crore    b. ₹49,755 crore    c. ₹3, 03,814 crore
- d. ₹2, 99,010 crore    e. Answer not known

2024-25 ல் தமிழகத்தின் சொந்த வரிகளிலிருந்து எதிர்பார்க்கப்படும் வருமானம் என்ன?

- a. ₹1, 95,173 கோடி    b. ₹49,755 கோடி    c. ₹3, 03,814 கோடி
- d. ₹2, 99,010 கோடி    e. விடை தெரியவில்லை

6. What percentage of Tamil Nadu's total revenue comes from central taxes and grants?

- a. 24.4%    b. 43.4%    c. 11.1%
- d. 6.8%    e. Answer not known

தமிழ்நாட்டின் மொத்த வருவாயில் எத்தனை சதவீதம் மத்திய வரிகள் மற்றும் மானியங்களிலிருந்து வருகிறது?

- a. 24.4%    b. 43.4%    c. 11.1%
- d. 6.8%    e. விடை தெரியவில்லை

7. How does the government plan to improve the livelihoods of marginalized women through "Magalir Urimai Thogai"?

- a. By providing free education
- b. By offering monthly financial assistance
- c. Through skill development programs
- d. By providing housing subsidies
- e. Answer not known

”மகளிர் உரிமை திட்டம்” மூலம் அரசு எவ்வாறு ஒதுக்கப்பட்ட பெண்களின் வாழ்வாதாரத்தை மேம்படுத்த திட்டமிட்டுள்ளது?

- a. இலவச கல்வி வழங்குவதன் மூலம்
- b. மாதாந்திர நிதி உதவி வழங்குவதன் மூலம்
- c. திறன் மேம்பாட்டு திட்டங்கள் மூலம்
- d. வீட்டு வசதி மானியங்கள் வழங்குவதன் மூலம்
- e. விடை தெரியவில்லை

8. Which of the following sector does not come under the capital expenditure?

- a. Transport
- b. Operation and maintenance
- c. Education and health
- d. Urban development
- e. Answer not known

பின்வருவனவற்றுள் எந்த துறை மூலதன செலவின் கீழ் வராது?

- a. போக்குவரத்து
- b. செயல்பாடு மற்றும் பராமரிப்பு
- c. கல்வி மற்றும் சுகாதாரம்
- d. நகர்ப்புற வளர்ச்சி
- e. விடை தெரியவில்லை

9. How much has been allocated for the Chief Minister's Breakfast Scheme in the Tamil Nadu Budget 2024-25?

- a. ₹250 crore
- b. ₹600 crore
- c. ₹1,000 crore
- d. ₹960 crore
- e. Answer not known

2024-25 ஆம் ஆண்டு தமிழ்நாடு நிதிநிலை அறிக்கையில் முதலமைச்சரின் காலை உணவு திட்டத்திற்கு எவ்வளவு நிதி ஒதுக்கப்பட்டுள்ளது?

- a. ₹250 கோடி
- b. ₹600 கோடி
- c. ₹1,000 கோடி
- d. ₹960 கோடி
- e. விடை தெரியவில்லை

10. Choose the incorrect statements of the Kalaigarin All Village Integrated Agriculture Development Programme:

- I. This program comes under Anaithu Grama Anna Marumalarchi Thittam of rural development.
- II. This program helps in converting fallow lands into cultivable lands to increase the net cultivable area.
- III. This program is implemented from 2022-2023 across 12,525 village panchayats.

- a. Only I is incorrect.
- b. Only II and III are incorrect.
- c. Only I and III are incorrect.
- d. All are incorrect.
- e. Answer not known

கலைஞரின் அனைத்து கிராம ஒருங்கிணைந்த வேளாண்மை மேம்பாட்டுத் திட்டத்தின் தவறான கூற்றுகளை ஆய்க

- I. இந்த திட்டம், ஊரக வளர்ச்சியின் அனைத்து கிராம அண்ணா மறுமலர்ச்சி திட்டத்தின் கீழ் வருகிறது.
  - II. இந்த திட்டம் தரிசு நிலங்களை விவசாய நிலங்களாக மாற்றி நிகர விவசாய நிலத்தை அதிகரிக்க உதவுகிறது.
  - III. இந்த திட்டம் 2022-2023 ஆம் ஆண்டிலிருந்து 12,525 கிராம ஊராட்சிகளில் செயல்படுத்தப்பட்டு வருகிறது.
- a. I மட்டும் தவறு.
  - b. II மற்றும் III மட்டும் தவறு.
  - c. I மற்றும் III மட்டும் தவறு.
  - d. அனைத்தும் தவறு.
  - e. விடை தெரியவில்லை

11. In one of the following scheme Nel Jayaraman Mission is introduced?
- State Agriculture Development Scheme
  - Chief Minister's Mannuyir Kaathu Mannuyir Kaappom scheme
  - Scheme for Incentivising Enhanced Crop Productivity
  - Kalaigarin All Village Integrated Agriculture Development Programme
  - Answer not known
- பின்வரும் திட்டங்களில் எதில் "நெல் ஜெயராமன் திட்டம்" என்று அறிமுகப்படுத்தப்பட்டது?
- மாநில வேளாண்மை மேம்பாட்டு திட்டம்
  - முதலமைச்சரின் மண்ணுயிர் காத்து மண்ணுயிர் காப்போம் திட்டம்
  - மேம்படுத்தப்பட்ட பயிர் உற்பத்தித்திறனை ஊக்குவிக்கும் திட்டம்
  - கலைஞரின் அனைத்து கிராம ஒருங்கிணைந்த வேளாண்மை மேம்பாட்டு திட்டம்
  - விடை தெரியவில்லை
12. Assertion (A): The gross cropped area in Tamil Nadu increased from 152 lakh acres in 2020-2021 to 155 lakh acres in 2022-2023.  
Reason (R): The government implemented strategies from the Vision for Agriculture to expand the cropped area.
- Both A and R are true, and R is the correct explanation of A.
  - Both A and R are true, but R is not the correct explanation of A.
  - A is true, but R is false.
  - A is false, but R is true.
  - Answer not known
- கூற்று (A): தமிழ்நாட்டில் மொத்த விளை நிலம் 2020-2021 ஆம் ஆண்டில் 152 லட்சம் ஏக்கரிலிருந்து 2022-2023 ஆம் ஆண்டில் 155 லட்சம் ஏக்கர்களாக அதிகரித்துள்ளது.  
காரணம் (R): பயிரிடும் நிலப்பரப்பை விரிவுபடுத்துவதற்காக விவசாயத்திற்கான தொலைநோக்குப் பார்வையில் இருந்து உத்திகளை அரசாங்கம் செயல்படுத்தியது.
- A மற்றும் R இரண்டும் சரி, மேலும் R என்பது A க்கு சரியான விளக்கமாகும்.
  - A மற்றும் R இரண்டும் சரி, ஆனால் R என்பது A க்கு சரியான விளக்கம் அல்ல.
  - A சரி, ஆனால் R தவறு.
  - A தவறு, ஆனால் R சரி.
  - விடை தெரியவில்லை
13. Match the following crops with their respective districts produced:
- | CROPS               |   |   | DISTRICTS PRODUCED |   |
|---------------------|---|---|--------------------|---|
| A. Makka Chola      |   |   | 1. Krishnagiri     |   |
| B. Nattu Ulundu     |   |   | 2. Salem           |   |
| C. Perum Samai      |   |   | 3. Thoothukudi     |   |
| D. Irungu Chola     |   |   | 4. Thanjavur       |   |
| A                   | B | C | D                  |   |
| a.                  | 2 | 1 | 3                  | 4 |
| b.                  | 1 | 4 | 2                  | 3 |
| c.                  | 3 | 4 | 1                  | 2 |
| d.                  | 2 | 3 | 4                  | 1 |
| e. Answer not known |   |   |                    |   |

பின்வரும் பயிர்களை அவற்றின் உற்பத்தி செய்யப்பட்ட மாவட்டங்களுடன் பொருத்துக  
பயிர்கள் உற்பத்தி செய்யும் மாவட்டங்கள்

- |                   |                 |
|-------------------|-----------------|
| A. மக்காச்சோளம்   | 1. கிருஷ்ணகிரி  |
| B. நாட்டு உளுந்து | 2. சேலம்        |
| C. பெரும் சாமை    | 3. தூத்துக்குடி |
| D. இரும்பு சோளம்  | 4. தஞ்சாவூர்    |

	A	B	C	D
a.	2	1	3	4
b.	1	4	2	3
c.	3	4	1	2
d.	2	3	4	1

e. விடை தெரியவில்லை

14. A small-scale farmer wants to purchase machinery but lacks funds. Which subsidy would help them?

- a. 20% additional subsidy for SC/ST farmers
- b. 60% subsidy under the machinery scheme
- c. Subsidy for Integrated Farming Systems
- d. Organic input production subsidy
- e. Answer not known

சிறு விவசாயி ஒருவர் இயந்திரம் வாங்க விரும்புகிறார், ஆனால் நிதி பற்றாக்குறை உள்ளது. பின்வரும் எந்த மானியம் அவர்களுக்கு உதவும்?

- a. SC/ST விவசாயிகளுக்கு 20% கூடுதல் மானியம்
- b. இயந்திர திட்டத்தின் கீழ் 60% மானியம்
- c. ஒருங்கிணைந்த வேளாண்மை முறைகளுக்கான மானியம்
- d. கரிம உள்ளீட்டு உற்பத்திக்கு மானியம்
- e. விடை தெரியவில்லை

15. Choose the incorrect statement on State Agriculture Development Scheme?

- a. Prizes will be awarded for farmers who get highest productivity in millets
- b. Under this scheme, a cash prize of 1.5 lakh is awarded for second prize
- c. In 2023-2024, 33 awards were given to farmers at an outlay Rs.55 lakh
- d. The Government of Tamil Nadu initiated this scheme in the year 2022-2023
- e. Answer not known

மாநில வேளாண்மை மேம்பாட்டு திட்டம் குறித்த தவறான கூற்றைத் தேர்ந்தெடுக்கவும்.

- a. சிறுதானியங்களில் அதிகபட்ச உற்பத்தியைப் பெறும் விவசாயிகளுக்கு பரிசுகள் வழங்கப்படும்
- b. இந்த திட்டத்தின் கீழ், இரண்டாவது பரிசுக்கு ரூ. 1.5 லட்சம் ரொக்க பரிசு வழங்கப்படும்
- c. 2023-2024 ஆம் ஆண்டில், 33 விருதுகள் ரூ. 55 லட்சம் செலவில் விவசாயிகளுக்கு வழங்கப்பட்டன
- d. தமிழ்நாடு அரசு 2022-2023 ஆம் ஆண்டில் இந்த திட்டத்தைத் தொடங்கியது
- e. விடை தெரியவில்லை

16. Choose the correct pair from the following:

- a. Marutham park : Thanjavur
- b. Sun garden : Kanyakumari
- c. Hibiscus nursery garden: Chengalpattu
- d. Mullai garden : Tenkasi
- e. Answer not known

பின்வருவனவற்றுள் சரியான இணையைத் தேர்ந்தெடுக்கவும்:

- a. மருதம் பூங்கா : தஞ்சாவூர்
- b. சூரியத் தோட்டம் : கன்னியாகுமரி
- c. செம்பருத்தி நாற்றங்கால் : செங்கல்பட்டு
- d. முல்லைத் தோட்டம் : தென்காசி
- e. விடை தெரியவில்லை

17. Which of the following statements about Geographical Indication tags is/are correct?

- I. GI tags ensure that the product is tied to its origin and unique characteristics.
- II. GI tags prohibit the export of the product to maintain exclusivity.
- III. GI tags increase the marketability and demand for the product.
- a. Only I and III
- b. Only I
- c. Only II and III
- d. I, II, and III
- e. Answer not known

புவியியல் குறியீடு குறித்த பின்வரும் கூற்றுகளில் எது/எவை சரியானது?

- I. GI குறியீடுகள் தயாரிப்பு அதன் தோற்றம் மற்றும் தனித்துவமான பண்புகளுடன் இணைக்கப்பட்டுள்ளதை உறுதி செய்கின்றன.
- II. GI குறியீடுகள் தயாரிப்பை ஏற்றுமதி செய்வதை தடை செய்கின்றன, இதனால் தனித்தன்மை பாதுகாக்கப்படுகிறது.
- III. GI குறியீடுகள் தயாரிப்பின் சந்தைப்படுத்தல் திறனை மற்றும் தேவையை அதிகரிக்கின்றன.

- a. I மற்றும் III மட்டும்
- b. I மட்டும்
- c. II மற்றும் III மட்டும்
- d. I, II மற்றும் III
- e. விடை தெரியவில்லை

18. Which one of the following does not come under cluster-based cultivation?

- a. Chilli mission
- b. Jackfruit mission
- c. Mango mission
- d. Jasmine mission
- e. Answer not known

பின்வருவனவற்றுள் எது கொத்து அடிப்படையிலான சாகுபடியின் கீழ் வராது?

- a. மிளகாய் திட்டம்
- b. பலாப்பழம் திட்டம்
- c. மாங்காய் திட்டம்
- d. மல்லிகைத் திட்டம்
- e. விடை தெரியவில்லை

19. In which of the following portal soil health card can be downloaded?

- a. E-vaadagai
- b. Tamil Mannvalam
- c. Vayal Agro
- d. Uzhavan
- e. Answer not known

பின்வரும் எந்த இணையதளத்தில் மண் சுகாதார அட்டையை பதிவிறக்கம் செய்யலாம்?

- a. மின்-வாடகை
- b. தமிழ் மண்வளம்
- c. வயல் வேளாண்மை
- d. உழவன்
- e. விடை தெரியவில்லை

20. Match the following geographical indicator crops with their respective districts:

GEOGRAPHICAL INDICATORS

DISTRICTS

A. Seedless Grapes

1. Dindigul

B. Nettai Thennai

2. Theni

C. Red Banana

3. Cuddalore

D. Mithi Pagarkai

4. Erode

	A	B	C	D
a.	2	1	4	3
b.	1	4	2	3
c.	3	4	1	2
d.	4	3	2	1

e. Answer not known

பின்வரும் புவியியல் குறியீடு பயிர்களை அவற்றின் முறையே உற்பத்தி செய்யப்படும் மாவட்டங்களுடன் பொருத்தவும்.

புவியியல் குறியீடுகள்

மாவட்டங்கள்

A. விதையற்ற திராட்சை

1. திண்டுக்கல்

B. நெட்டை தென்னை

2. தேனி

C. சிவப்பு வாழை

3. கடலூர்

D. மிதி பாகற்காய்

4. ஈரோடு

	A	B	C	D
a.	2	1	4	3
b.	1	4	2	3
c.	3	4	1	2
d.	4	3	2	1

e. விடை தெரியவில்லை

21. Which district has the honey production hub been established?

a. Vizhupuram

b. Nagapattinam

c. Kanyakumari

d. Cuddalore

e. Answer not known

பின்வரும் எந்த மாவட்டத்தில் தேன் உற்பத்தி மையம் நிறுவப்பட்டுள்ளது?

a. விழுப்புரம்

b. நாகப்பட்டினம்

c. கன்னியாகுமரி

d. கடலூர்

e. விடை தெரியவில்லை

22. Which is the nodal agency for monitoring the implementation of the Sustainable Development Goals (SDGs)

a. NITI Aayog

b. Social Welfare Department

c. NDC

d. MHRD

e. Answer not known

நீடித்த வளர்ச்சிக்கான இலக்குகளின் (SDGs) செயற்பாடுகளைக் கண்காணிப்பதற்கான முதன்மை நிறுவனம் எது?

a. நிதி ஆயோக்

b. சமூக நலத்துறை

c. NDC

d. MHRD

e. விடை தெரியவில்லை

23. Which one is not a Public Sector?

a. NLC

b. TISCO

c. SAIL

d. BSNL

e. Answer not known

பின்வருவனவற்றில் எது பொதுத்துறை நிறுவனம் அல்ல?

a. NLC

b. TISCO

c. SAIL

d. BSNL

e. விடை தெரியவில்லை

- 044-24339436, 42867555, 9840226187**



கீழ்க்கண்டவற்றில் தமிழக தொழிற்சாலைகள் தொடர்பான தவறான கூற்று எது?

- a. நாட்டின் தோல்பொருள் உற்பத்தியில் தமிழகத்தின் பங்கு ஏறத்தாழ எழுபது சதவீதம் ஆகும்.
- b. இந்திய அளவில் 21% கார்களும், 33% வணிக வாகனங்களும் தமிழகத்தில் தயாராகின்றன.
- c. தமிழகத்தில் தற்போது 42 கரும்பு ஆலைகள் உள்ளன
- d. தேசிய அளவில் 10% காகித உற்பத்தியுடன் தமிழகம் நான்காம் இடத்தில் உள்ளது
- e. விடை தெரியவில்லை

30. Find out the correct statement regarding TIDCO:

- i. It facilitates investment in large industrial projects
- ii. It is registered with Reserve Bank of India as a non Banking Financial Company
- iii. It is a nodal agency for Chennai – Kanyakumari industrial corridor
- iv. It identifies industrial probable areas

- a. i, iii and iv are correct
- b. i, ii, and iii are correct
- c. ii, iii and iv are correct
- d. i and ii are correct
- e. Answer not known

TIDCO-வை பற்றிய கீழ்க்கண்ட கூற்றுகளில் சரியானதை கண்டறி:

- i. இது பெரிய தொழில் திட்டங்களில் முதலீடு செய்வதை எளிதாக்குகிறது
  - ii. இது இந்திய ரிசர்வ் வங்கியில் பதிவு பெற்ற வங்கி சாராத ஓர் நிதி நிறுவனம்
  - iii. இது சென்னை-கன்னியாகுமரி தொழிற்சாலை வழித்தடத்தை சரிசெய்யும் முகமை நிறுவன அமைப்பாகும்.
  - iv. இது தொழில் சாதக பகுதிகளை அடையாளம் காண்கிறது
- a. i, iii மற்றும் iv சரி
  - b. i, ii மற்றும் iii சரி
  - c. ii, iii மற்றும் iv சரி
  - d. i, மற்றும் ii சரி
  - e. விடை தெரியவில்லை

31. Frictional Unemployment is the result of

- a. workers unwilling to accept the current wages
- b. voluntary employment transition within a economy
- c. workers are not willing to mobilise
- d. workers are in ignorance
- e. Answer not Known

உடன்பாடில்லா வேலையின்மை என்பது பின்வரும் எதன் வெளிப்பாடாகும்?

- a. தொழிலாளர்கள் தற்பொழுது உள்ள கூலியை ஏற்றுக் கொள்ளாத பொழுது
- b. ஒரு பொருளாதாரத்திற்குள் தன்னார்வ வேலைவாய்ப்பு மாற்றம்
- c. தொழிலாளர்கள் இடம்பெயர் விருப்பம் இல்லாத பொழுது.
- d. தொழிலாளர்கள் அறியாமையில் இருக்கும் பொழுது
- e. விடை தெரியவில்லை

32. \_\_\_\_\_ guarantees work and income for the rural work force

- a. MGNREGA
- b. SBM
- c. CSC
- d. SSA
- e. Answer not known

\_\_\_\_\_ மூலம் கிராமப்புற தொழிலாளர்களுக்கு வேலை மற்றும் ஊதியம் உறுதி செய்யப்படுகிறது.

- a. MGNREGA
- b. SBM
- c. CSC
- d. SSA
- e. விடை தெரியவில்லை

33. The Current Employment trends are
- Three has been a growth in part-time employment
  - Increasing self-employment
  - Full employment
  - Firms using fewer full-time employees and tending to offer more short-term contracts
- a. i, ii, iv only                      b. ii, iii, iv only                      c. i, ii, iii only  
d. I, iii, iv only                      e. Answer not known
- தற்கால வேலைவாய்ப்பு போக்குகளாவன
- பகுதி நேர வேலைவாய்ப்பில் வளர்ச்சி ஏற்பட்டுள்ளது
  - சுயவேலைவாய்ப்பை அதிகரித்தல்
  - முழுமையான வேலைவாய்ப்பு
  - நிறுவனங்கள் ஒரு சில நிரந்தர ஊழியர்களையே பயன்படுத்துதல் மற்றும் குறுகிய கால ஒப்பந்தப் பணிகளை தருவதும்.
- a. i, ii, iv மட்டும்                      b. ii, iii, iv மட்டும்                      c. i, ii, iii மட்டும்  
d. i, iii, iv மட்டும்                      e. விடை தெரியவில்லை
34. The cause for frictional unemployment is
- Disqualification
  - Dis satisfaction from old job
  - Poverty
  - Business cycles
  - Answer not known
- பின்வருவனவற்றுள் உடன்பாடில்லா வேலையின்மையின் காரணம் என்ன?
- தகுதிக்குறைவு
  - பழைய வேலையில் திருப்தியின்மை
  - வறுமை
  - வணிகச்சுழல்கள்
  - விடை தெரியவில்லை
35. Match the List I with List II
- | List I  |   |   | List II                                 |  |  |
|---|---|---|---|--|--|
| A. Employment generation programme            |   |   | 1. Minimum needs programme              |  |  |
| B. Social Assistance programme                |   |   | 2. Swarna Jayanti Shahari Rozgar Yojana |  |  |
| C. Human Development programme                |   |   | 3. National Family benefit scheme       |  |  |
| A   | B | C |   |  |  |
| a. 2  | 1 | 3 |   |  |  |
| b. 1  | 3 | 2 |   |  |  |
| c. 3  | 1 | 2 |   |  |  |
| d. 2  | 3 | 1 |   |  |  |
| e. Answer not known                           |   |   |   |  |  |
| பட்டியல் I மற்றும் பட்டியல் II உடன் பொருத்துக |   |   |   |  |  |
| பட்டியல் I                                    |   |   | பட்டியல் II                             |  |  |
| A. வேலைவாய்ப்பு உருவாக்கும் திட்டம்           |   |   | 1. குறைந்த பட்ச தேவைகள் திட்டம்         |  |  |
| B. சமூக உதவித் திட்டம்                        |   |   | 2. ஸ்வர்ண ஜெயந்தி சஹாரிரோஸ்கர் யோஜனா    |  |  |
| C. மனித மேம்பாட்டுத் திட்டம்                  |   |   | 3. தேசிய குடும்ப நலத்திட்டம்            |  |  |
| A   | B | C |   |  |  |
| a. 2  | 1 | 3 |   |  |  |
| b. 1  | 3 | 2 |   |  |  |
| c. 3  | 1 | 2 |   |  |  |
| d. 2  | 3 | 1 |   |  |  |
| e. விடை தெரியவில்லை                           |   |   |   |  |  |

36. \_\_\_\_\_ is not an industrial developing Agency.  
 a. TIDCO b. SIDCO c. MEPG d. SIPCOT e. Answer not known  
 பின்வருவனவற்றில் எது ஒரு தொழில்துறை வளர்ச்சி நிறுவனம் அல்ல?  
 a. TIDCO b. SIDCO c. MEPG d. SIPCOT e. விடை தெரியவில்லை
37. Expansion for TNRRIS:  
 a. Tamil Nadu Rural Road Investment Scheme  
 b. Tamil Nadu Rural Road Improvement Scheme  
 c. Tamil Nadu Rural Reform Introduction Scheme  
 d. Tamil Nadu Rural Reform Investment Scheme  
 e. Answer not known  
 TNRRIS யின் விரிவாக்கம்  
 a. Tamil Nadu Rural Road Investment Scheme  
 b. Tamil Nadu Rural Road Improvement Scheme  
 c. Tamil Nadu Rural Reform Introduction Scheme  
 d. Tamil Nadu Rural Reform Investment Scheme
38. Match the following Industry Clusters in Tamil Nadu.  
 A. Thiruchengode 1. Sago  
 B. Salem 2. Coach – Building  
 C. Rajapalayam 3. Bore – well drilling  
 D. Karur 4. Surgical cotton products
- |    | A | B | C | D |
|----|---|---|---|---|
| a. | 3 | 1 | 4 | 2 |
| b. | 3 | 2 | 4 | 1 |
| c. | 3 | 4 | 1 | 2 |
| d. | 2 | 1 | 4 | 3 |
- e. Answer not known  
 தமிழ் நாட்டின் பொருத்தமான தொழில் கொத்தை இணை  
 A. திருச்செங்கோடு 1. மரவள்ளி கிழங்கு  
 B. சேலம் 2. வாகன புனைபவர்  
 C. ராஜபாளையம் 3. ஆழ்துளை கிணறு தோண்டுதல்  
 D. கரூர் 4. பருத்தி அறுவை சிகிச்சை பொருட்கள்
- |    | A | B | C | D |
|----|---|---|---|---|
| a. | 3 | 1 | 4 | 2 |
| b. | 3 | 2 | 4 | 1 |
| c. | 3 | 4 | 1 | 2 |
| d. | 2 | 1 | 4 | 3 |
- e. விடை தெரியவில்லை
39. The Rural Infrastructure Development Fund (RIDF) was setup under  
 a. RBI b. NABARD c. SIDBI  
 d. IDBI e. Answer not known  
 கிராமப்புற உள்கட்டமைப்பு மேம்பாட்டு நிதி \_\_\_\_\_ கீழ் உருவாக்கப்பட்டது.  
 a. இந்திய ரிசர்வ் வங்கி b. நாபார்டு c. சிடிபி  
 d. ஐடிபிஐ e. விடை தெரியவில்லை

40. Choose the wrong matches.

- |  |   |      |
|--|---|------|
| 1. Tamilnadu Tourism Development Corporation | - | 1971 |
| 2. Make in India                             | - | 1920 |
| 3. Mid-day meal scheme                       | - | 2014 |
| 4. Old age pension                           | - | 1983 |

- a. Both 1 and 2                      b. only 3                      c. Both 3 and 4  
d. Both 2 and 3                      e. Answer not known

கீழ்க்கண்டவற்றுள் சரியாகப் பொருத்தப்படாதவற்றைத் தேர்ந்தெடுக்க.

- |  |   |      |
|--|---|------|
| 1. தமிழ்நாடு சுற்றுலா வளர்ச்சிக் கழகம் | - | 1971 |
| 2. மேக் இன் இந்தியா திட்டம்            | - | 1920 |
| 3. மதிய உணவுத் திட்டம்                 | - | 2014 |
| 4. முதியோர் ஓய்வூதியத் திட்டம்         | - | 1983 |

- a. 1 மற்றும் 2                      b. 3 மட்டும்                      c. 3 மற்றும் 4  
d. 2 மற்றும் 3                      e. விடை தெரியவில்லை

41. In which year was the Tamil Nadu Manual workers Act passed?

- a. 1982                      b. 1985                      c. 1992                      d. 2000                      e. Answer not known

தமிழ்நாடு உடலுழைப்புத் தொழிலாளர்கள் சட்டம் எந்த ஆண்டு நிறைவேற்றப்பட்டது?

- a. 1982                      b. 1985                      c. 1992                      d. 2000                      e. விடை தெரியவில்லை

42. What is the objective/objective of "Exclusive Budget for Agriculture"

- i. To encourage farming as an enterprising and remunerative activity  
ii. To increase the welfare of farmers in Tamil Nadu  
iii. To curb the mechanisation in Agriculture

- a. (i) only                      b. (ii) and (iii) only                      c. (i) and (ii) only  
d. (i) and (iii) only                      e. Answer not known

வேளாண்மைக்கான பிரத்தியேக நிதிநிலை அறிக்கையின் குறிக்கோள் என்ன?

- i. வேளாண்மையை இலாபகரமான தொழிலாக ஊக்குவிப்பது  
ii. தமிழ்நாட்டில் விவசாயிகளின் நலனை உயர்த்துவது  
iii. வேளாண்மையில் இயந்திர மயமாக்கலைக் கட்டுப்படுத்துவது

- a. (i) மட்டும்                      b. (ii) மற்றும் (iii) மட்டும்                      c. (i) மற்றும் (ii) மட்டும்  
d. (i) மற்றும் (iii) மட்டும்                      e. விடை தெரியவில்லை

43. \_\_\_\_\_ State is the largest producer of wind energy in India as per 2021 statistics.

- a. Tamil Nadu                      b. Kerala                      c. Karnataka  
d. Gujarat                      e. Answer not known

2021 ஆம் ஆண்டு கணக்கின்படி, இந்தியாவின் எந்த மாநிலம் அதிக காற்றாலை மின்சாரத்தை உற்பத்தி செய்தது?

- a. தமிழ்நாடு                      b. கேரளா                      c. கர்நாடகா  
d. குஜராத்                      e. விடை தெரியவில்லை

44. The level of total food grains production in Tamil Nadu during 2021-22 was

- a. 125 (Lakh metric tonnes)                      b. 150 (Lakh metric tonnes)  
c. 160 (Lakh metric tonnes)                      d. 110 (Lakh metric tonnes)  
e. Answer not known

2021-22ஆம் ஆண்டில் தமிழகத்தின் மொத்த உணவு உற்பத்தியின் அளவு

- a. 125 (இலட்சம் மெட்ரிக் டன்கள்)                      b. 150 (இலட்சம் மெட்ரிக் டன்கள்)  
c. 160 (இலட்சம் மெட்ரிக் டன்கள்)                      d. 110 (இலட்சம் மெட்ரிக் டன்கள்)  
e. விடை தெரியவில்லை

45. STEP denotes support to Training -cum - \_\_\_\_\_ for women.  
 a. Education b. Employment c. Empowerment  
 d. Entrepreneurship e. Answer not known  
 STEP என்பது, பெண்களுக்குப் பயிற்சி மற்றும் \_\_\_\_\_ க்கான ஆதரவைக் குறிக்கிறது.  
 a. கல்வி b. வேலைவாய்ப்பு c. அதிகாரமளித்தல்  
 d. தொழில்முனைவோர் திறன் e. விடை தெரியவில்லை
46. Tamil Nadu Gross State Domestic Product (GSDP) has grown at the rate of \_\_\_\_% for the year 2022-2023 as against India's GDP growth rate of 7.24% during the same period.  
 a. 8.10 b. 8.12 c. 8.15 d. 8.19 e. Answer not known  
 2022-2023 ஆம் ஆண்டிற்கான தமிழ்நாட்டின் மொத்த மாநில உள்நாட்டு உற்பத்தி (GSDP) அதே கால கட்டத்தில் இந்தியாவின் GDP வளர்ச்சி விகிதமான 7.24%க்கு எதிராக \_\_\_\_% வளர்ச்சியடைந்தது.  
 a. 8.10 b. 8.12 c. 8.15 d. 8.19 e. விடை தெரியவில்லை
47. The Nammalvar Organic farming research centre has been set up in the campus of  
 I. Tamil Nadu Agricultural University  
 II. Institute for Spices and millets  
 III. Research Centre for Pesticides  
 IV. Organic Soil Research Studies  
 a. I, II only b. II, III only c. I only  
 d. IV only e. Answer not known  
 நம்மாழ்வார் அவர்களின் இயற்கை விவசாயம் குறித்த ஆய்வு மையம் அமைந்திருக்கும் இடம்  
 I. தமிழ்நாடு விவசாய பல்கலைக்கழகம்  
 II. வாசனை பொருட்கள் மற்றும் சிறுதானியங்களுக்கான நிறுவனம்  
 III. பூச்சிகொல்லி மருந்துக்கான ஆய்வு மையம்  
 IV. இயற்கை மண்ணுக்கான ஆய்வு படிப்பகம்  
 a. I, II மட்டும் b. II, III மட்டும் c. I மட்டும்  
 d. IV மட்டும் e. விடைதெரியவில்லை
48. ElcotSEZ - Choose the right pairs  
 i. Chennai - Sholingnallur  
 ii. Coimbatore - Illanthaikulam  
 iii. Madurai - Vilankuruchi  
 iv. Tirunelveli - Gangaikondan  
 v. Trichy - Jagirampalayam  
 a. All the above b. i, ii, iii, iv c. i, ii, iii d. i, iv e. Answer not known  
 ElcotSEZ - சரியான இணைகளை கண்டறிக  
 i. சென்னை - சோழிங்கநல்லூர்  
 ii. கோயம்புத்தூர் - இலந்தைகுளம்  
 iii. மதுரை - விளாங்குறிச்சி  
 iv. திருநெல்வேலி - கங்கைகொண்டான்  
 v. திருச்சி - ஜகிராம்பாளையம்  
 a. மேற்கூறிய அனைத்தும் b. i, ii, iii, iv c. i, ii, iii  
 d. i, iv e. விடை தெரியவில்லை

49. Match the Following

A. Karur	1. Little Japan
B. Sivakasi	2. Power loom Cluster
C. Hosur	3. Bus body building
D. Palladam	4. Automobile Cluster

	A	B	C	D
a.	3	2	1	4
b.	2	1	3	4
c.	1	2	3	4
d.	3	1	4	2

e. Answer not known

பொருத்துக

A. கரூர்	1. குட்டி ஜப்பான்
B. சிவகாசி	2. விசைத்தறி தொகுதி
C. ஓசூர்	3. பஸ் பாடி கட்டுமானம்
D. பல்லடம்	4. ஆட்டோமொபைல் தொகுதி

	A	B	C	D
a.	3	2	1	4
b.	2	1	3	4
c.	1	2	3	4
d.	3	1	4	2

e. விடை தெரியவில்லை

50. Industries: Choose the rightly matched pairs

- i. Salem - Steel City
- ii. Karur - Largest Paper mill
- iii. Thootukudi - Surgical Cotton
- iv. Rajapalayam - Chemicals

a. i, iii      b. i, ii, iii      c. ii, iii      d. i, ii      e. Answer not known

தொழில்கள்: சரியான இணையை தேர்ந்தெடுக்க.

- i. சேலம் - எஃகு நகரம்
- ii. கரூர் - பெரிய காகித ஆலை
- iii. தூத்துக்குடி - அறுவை சிகிச்சை பருத்தி
- iv. இராஜபாளையம் - வேதிப்பொருட்கள்

a. i, iii      b. i, ii, iii      c. ii, iii      d. i, ii      e. விடை தெரியவில்லை

51. Objectives of Self-Help Groups

- i. Economic Empowerment of Women
- ii. Saving People from Money Lenders
- iii. Developing skills and facilitating credit linkages
- iv. Promotion of Entrepreneurial skills

a. i, iii, iv      b. i, ii, iii      c. i, ii, iii, iv      d. i, iv      e. Answer not known

பின்வருவனவற்றில் சுய உதவிக் குழுக்களின் நோக்கங்களாவன

- i. பெண்களின் பொருளாதார அதிகாரமளித்தல்
- ii. கடன் கொடுப்பவர்களிடமிருந்து மக்களை காத்தல்
- iii. திறன்களை மேம்படுத்துதல் மற்றும் கடன் இணைப்புகளை எளிதாக்குதல்
- iv. தொழில்முனைவோர் திறன்களை மேம்படுத்துதல்

a. i, iii, iv      b. i, ii, iii      c. i, ii, iii, iv      d. i, iv      e. விடை தெரியவில்லை

52. Objectives of PDS

- Maintaining price stability
  - Increase welfare facilities of Poor
  - Rationing during scarcity
  - Improve distribution of basic goods
- a. i, ii, iii,      b. i, ii, iii, iv      c. i, iii, iv      d. ii, iii, iv      e. Answer not known

PDS ன் நோக்கங்கள்

- விலை நிலைத்தன்மையை பராமரித்தல்
  - ஏழைகளின் நலவாழ்வு வசதிகளை அதிகரித்தல்
  - பற்றாக்குறையின் போது பங்களித்தல்
  - அடிப்படைப் பொருட்களின் விநியோகத்தை மேம்படுத்தல்
- a. i, ii, iii,      b. i, ii, iii, iv      c. i, iii, iv      d. ii, iii, iv      e. விடை தெரியவில்லை

53. Choose the incorrect statement about Tamilnadu Agriculture.

- Tamilnadu with seven agro climatic zones.
  - Tamilnadu ranks 1<sup>st</sup> in the producer of loose flowers.
  - Tamilnadu ranks 1<sup>st</sup> in the producer of fruits.
- a. i only      b. i, ii only      c. iii only  
d. ii only      e. Answer not known

தமிழ்நாட்டின் வேளாண்மை பற்றி தவறான கூற்றைத் தேர்ந்தெடு:

- தமிழகத்தில் ஏழு வேளாண் காலநிலை மண்டலம் உள்ளது.
  - உதிரி பூக்கள் உற்பத்தியில் தமிழ்நாடு முதலிடத்தில் உள்ளது
  - பழங்கள் உற்பத்தியில் தமிழ்நாடு முதலிடத்தில் உள்ளது
- a. i மட்டும்      b. i, ii மட்டும்      c. iii மட்டும்  
d. ii மட்டும்      e. விடை தெரியவில்லை

54. Match the following

- |                     |                       |
|---------------------|-----------------------|
| A. Namakkal         | 1. Boilers & Turbines |
| B. Madurai          | 2. Coach Building     |
| C. Karur            | 3. Transportation     |
| D. Thiruchirappalli | 4. Leather            |

	A	B	C	D
a.	1	2	3	4
b.	3	4	2	1
c.	4	3	2	1
d.	2	3	4	1

பொருத்துக:

- |                      |                                    |
|----------------------|------------------------------------|
| A. நாமக்கல்          | 1. கொதிகலன்கள் மற்றும் விசையாழிகள் |
| B. மதுரை             | 2. வாகன கட்டுமானம்                 |
| C. கரூர்             | 3. போக்குவரத்து                    |
| D. திருச்சிராப்பள்ளி | 4. தோல்                            |

	A	B	C	D
a.	1	2	3	4
b.	3	4	2	1
c.	4	3	2	1
d.	2	3	4	1

e. விடை தெரியவில்லை

55. Choose the correct statements regarding ELCOSEZ.
- ELCOT has established ELCOSEZs in the 8 locations.
  - ELCOSEZ – IT specific special economic zones.
  - Companies desiring to setup units in the state can avail themselves of the facilities provided in ELCOSEZs.
- a. i only                                      b. i, ii only                                      c. i, ii and iii only  
d. None of the above                      e. Answer not known
- ELCOSEZ – யைப் பற்றி சரியானதைத் தேர்ந்தெடு:
- ELCOT – நிறுவனம் 8-இடங்களில் ELCOSEZ நிறுவியுள்ளது.
  - ELCOSEZ – IT குறிப்பிட்ட பொருளாதார சிறப்பு மண்டலங்கள்
  - மாநிலத்தில் அலகுகளை அமைக்க விரும்பும் நிறுவனங்கள் ELCOSEZS மூலம் வசதிகள் வழங்கப்படுகிறது.
- a. i மட்டும்                                      b. i, ii மட்டும்                                      c. i, ii மற்றும் iii மட்டும்  
d. இவை ஏதுமில்லை                      e. விடை தெரியவில்லை
56. Choose the correct statements regarding SIPCOT.
- SIPCOT – State Industries Promotion Corporation of Tamilnadu – 1971.
  - To promote industrial growth in the state by setting up industrial estates.
- a. i only                                      b. ii only                                      c. i, ii  
d. None of the above                      e. Answer not known
- SIPCOT பற்றி சரியானக்கூற்றைத் தேர்ந்தெடு:
- SIPCOT – State Industries promotion corporation of Tamilnadu – 1971
  - மாநிலத்தில் தொழிற்சாலை வளர்ச்சியை ஊக்குவிப்பதற்காக தொழில்துறை தோட்டங்களை அமைத்தல்
- a. i மட்டும்                                      b. ii மட்டும்                                      c. i, ii  
d. இவை எதுவுமில்லை                      e. விடை தெரியவில்லை
57. TANSIDCO – Choose the correct statement/s.
- TANSIDCO – Tamilnadu State Investment Development Corporation – 1970.
  - To promote small – scale industries in the state.
- a. i only                                      b. ii only                                      c. i, ii only  
d. None of the above                      e. Answer not known
- TANSIDCO – பற்றி சரியான கூற்றைத் தேர்ந்தெடு:
- TANSIDCO – Tamilnadu State Investment Development corporation – 1970
  - மாநிலத்தில் சிறு குறு தொழில்களை ஊக்குவித்தல்
- a. i மட்டும்                                      b. ii மட்டும்                                      c. i, ii மட்டும்  
d. இவை எதுவுமில்லை                      e. விடை தெரியவில்லை
58. TIDCO – Choose the correct statement/s.
- TIDCO – Tamilnadu Industrial Development Corporation – 1965.
  - To promote industries in the state and to establish industrial estates.
- a. i only                                      b. ii only                                      c. i, ii  
d. None of the above                      e. Answer not known



TIDCO பற்றி சரியான கூற்றைத் தேர்ந்தெடு:

- i. TIDCO - Tamilnadu Industrial development corporation - 1965
- ii. புதிய தொழில் பிரிவுகளை நிறுவுவதற்கும், தமிழகத்தில் தொழில் தோட்டங்களை நிறுவுவதற்கும் தொழிற்சாலைகளை மேம்படுத்துவதற்கும் உதவும் அரசு நிறுவனமாகும்.

- a. i மட்டும்
- b. ii மட்டும்
- c. i, ii
- d. இவை எதுவுமில்லை
- e. விடை தெரியவில்லை

59. Choose the correct statement/s about TIIC.

- i. TIIC - Tamilnadu Industrial Investment Corporation Ltd - 1979.
- ii. To provide low-cost financial support for both setting up new units and also for expansion of existing units.

- a. i only
- b. ii only
- c. i, ii only
- d. None of the above
- e. Answer not known

TIIC - பற்றி சரியான கூற்றைத் தேர்ந்தெடு

- i. TIIC - Tamilnadu Industrial Investment Corporation Ltd - 1979
- ii. தொழில் பிரிவுகளை பெருக்குவதற்கும் தமிழ்நாடு தொழில் முதலீட்டு கழகமானது குறைந்த அளவிலான நிதி உதவியைச் செய்கிறது.

- a. i மட்டும்
- b. ii மட்டும்
- c. i, ii மட்டும்
- d. இவை எதுவுமில்லை
- e. விடை தெரியவில்லை

60. Choose the correct statement about TANSI.

- i. TANSI - Tamilnadu small Industries Corporation limited - 1970.
- ii. The first Industrial Corporation operating in the domain for small enterprises.

- a. i only
- b. ii only
- c. i, ii only
- d. None of the above
- e. Answer not known

TANSI - பற்றிய சரியான கூற்றைத் தேர்ந்தெடு:

- i. TANSI - Tamilnadu small industries corporation limited - 1970
- ii. சிறு நிறுவனங்களுக்காக நிறுவப்பட்ட முதல் தொழில்துறை நிறுவனமாகும்.

- a. i மட்டும்
- b. ii மட்டும்
- c. i, ii மட்டும்
- d. இவை எதுவுமில்லை
- e. விடை தெரியவில்லை

61. Which of the following statements are true regarding Tamilnadu economy?

- 1. It is the second largest state economy in the country.
- 2. It is the third largest exporting state, accounting for over 9% of India's exports.
- 3. It has the third highest GDP per capita.

- a. 1 & 2
- b. 2 & 3
- c. 1 & 3
- d. 1, 2 & 3
- e. Answer not known

தமிழ்நாட்டுப் பொருளாதாரம் தொடர்பான பின்வரும் கூற்றுகளில் சரியானது எது?

- 1. இது நாட்டின் இரண்டாவது பெரிய பொருளாதார மாநிலம் ஆகும்.
- 2. இந்தியாவின் ஏற்றுமதியில் 9%க்கும் மேல் பங்கு வகிக்கும் மூன்றாவது பெரிய ஏற்றுமதி மாநிலமாகும்.
- 3. தனிநபர் வருமானத்தில் இது மூன்றாவது பெரிய மாநிலமாக உள்ளது.

- a. 1 & 2
- b. 2 & 3
- c. 1 & 3
- d. 1, 2 & 3
- e. விடை தெரியவில்லை

62. Which of the following statements are true regarding i-Tamilnadu Technology (iTNT) hub?

1. It was established in the Anna University campus in Chennai.
2. It would Co-ordinate efforts to use artificial intelligence, machine learning, and blockchain technologies to solve complex challenges in the state.
3. It is fully funded by state government.

- a. 1 & 2                                      b. 2 & 3                                      c. 1 & 3  
d. 1, 2 & 3                                      e. Answer not known

தமிழ்நாடு தொழில்நுட்ப மையம் (iTNT) தொடர்பான பின்வரும் கூற்றுகளில் எது சரியானது?

1. இது சென்னையில் உள்ள அண்ணா பல்கலைக்கழக வளாகத்தில் நிறுவப்பட்டது.
2. இது மாநிலத்தில் உள்ள சிக்கலான சவால்களைத் தீர்க்க செயற்கை நுண்ணறிவு, இயந்திர கற்றல் மற்றும் பிளாக்செயின் தொழில்நுட்பங்களைப் பயன்படுத்துவதற்கான முயற்சிகளை ஒருங்கிணைக்கும்.
3. இது மாநில அரசால் முழுமையாக நிதியளிக்கப்படுகிறது.

- a. 1 & 2                                      b. 2 & 3                                      c. 1 & 3  
d. 1, 2 & 3                                      e. விடை தெரியவில்லை

63. Match the following:

A. Cumbum

B. Vellore

C. Ramanathapuram

D. Marthandam

1. Honey

2. Panneer thratchai (grapes)

3. Spiny Brinjal (mullu kathirikai)

4. Mundu Chilli

- |    | A | B | C | D |
|----|---|---|---|---|
| a. | 3 | 2 | 1 | 4 |
| b. | 4 | 3 | 2 | 1 |
| c. | 1 | 4 | 3 | 2 |
| d. | 2 | 3 | 4 | 1 |

e. Answer not known

பின்வருவனவற்றைப் பொருத்துக:

A. கம்பம்

B. வேலூர்.

C. ராமநாதபுரம்

D. மார்த்தாண்டம்

1. தேன்

2. பன்னீர் திராட்சை (திராட்சை)

3. முள்ளு கத்திரிக்காய்

4. முண்டு மிளகாய்

- |    | A | B | C | D |
|----|---|---|---|---|
| a. | 3 | 2 | 1 | 4 |
| b. | 4 | 3 | 2 | 1 |
| c. | 1 | 4 | 3 | 2 |
| d. | 2 | 3 | 4 | 1 |

e. விடை தெரியவில்லை

64. The working age population is

- a. 15-59                                      b. 15-60                                      c. 16- 59  
d. 16-60                                      e. Answer not known

பின்வருவனவற்றில் வேலை செய்வதற்கான மக்களின் சராசரி வயது என்ன?

- a. 15-59                                      b. 15-60                                      c. 16- 59  
d. 16-60                                      e. விடை தெரியவில்லை

65. Consider the following statements.

1. Agriculture, despite a sharp decline in GDP, continue to be largest employer in Tamil Nadu.
2. Most of employment growth in Tamil Nadu contributed by unorganised sectors.

a. 1 is correct

b. 2 is correct

c. Both are correct

d. Both are wrong

e. Answer not known

பின்வரும் கூற்றுகளை ஆய்க:

1. நாட்டின் மொத்த உள்நாட்டு உற்பத்தியில் ஒரு கடுமையான வீழ்ச்சி ஏற்பட்டுள்ள போதும், தமிழகத்தில் விவசாயமே அதிக வேலைவாய்ப்பை வழங்குகிறது.
2. தமிழ்நாட்டின் வேலைவாய்ப்பு வளர்ச்சியின் பெரும்பகுதி, ஒழுங்கமைக்கப்படாத துறைகளின் பங்களிப்பாக உள்ளது.

a. 1 சரி

b. 2 சரி

c. இரண்டும் சரி

d. இரண்டும் தவறு

e. விடை தெரியவில்லை

66. Consider the following statements.

1. In Tamil Nadu, all the banks have 10,612 branches across the state.
2. They carry on a total transactions of around 15Lakh crores during the financial year.

Which of above are correct?

a. 1 is correct

b. 2 is correct

c. Both are correct

d. Both are wrong

e. Answer not known

பின்வரும் கூற்றுக்களை ஆய்க:

1. தமிழ்நாட்டின் அனைத்து வங்கிகளும் 10,612 வங்கிக்கிளைகளை மாநிலம் முழுவதும் கொண்டுள்ளன.
2. இவை ஒரு நிதியாண்டில் ஏறத்தாழ 15 லட்சம் கோடி ரூபாய் பணபரிமாற்றம் செய்கின்றன. மேற்கூறியவற்றுள் சரியானவை எவை?

a. 1 சரி

b. 2 சரி

C. இரண்டும் சரி

d. இரண்டும் தவறு

e. விடை தெரியவில்லை

67. Consider the following statements.

1. In 2001 census, 49.3% out of total population were involved in Agriculture.
2. In 2011, it reduces to 42.1%

Which of above are correct?

a. 1 is correct

b. 2 is correct

c. Both are correct

d. Both are wrong

e. Answer not known

பின்வரும் கூற்றுக்களை ஆய்க:

1. 2001 மக்கள் தொகை கணக்கெடுப்பின்படி 49.3% மக்கள் வேளாண் துறையில் இருந்தனர்.
  2. 2011 ஆம் ஆண்டு 42.1% ஆக குறைந்தது
- மேற்கூறியவற்றுள் சரியானவை எவை?

a. 1 சரி

b. 2 சரி

C. இரண்டும் சரி

d. இரண்டும் தவறு

e. விடை தெரியவில்லை

68. Consider the following statements.

1. The total land area under agriculture is shrinking fast in Tamil Nadu and India.
2. The number of marginal farmers has decreased in India.
3. But number of marginal farmers has increased in Tamil Nadu.

Which of above are correct?

- a. 1 only                                      b. 1, 2                                      c. 1, 3  
d. 1, 2, 3                                      e. Answer not known

பின்வரும் கூற்றுக்களை ஆய்க:

1. தமிழ்நாடு மற்றும் இந்தியாவில் சாகுபடி செய்யப்படும் நிலத்தின் பரப்பு வேகமாக சுருங்கி வருகிறது.
  2. இந்தியாவில் குறு விவசாயிகளின் எண்ணிக்கை குறைந்து வருகிறது.
  3. ஆனால் தமிழ்நாட்டில் குறுவிவசாயிகளின் எண்ணிக்கை அதிகரித்து வருகிறது.
- மேற்கூறியவற்றுள் சரியானவை எவை?

- a. 1 மட்டும்                                      b. 1, 2                                      c. 1, 3  
d. 1, 2, 3                                      e. விடை தெரியவில்லை

69. In 2014-15, the total area of land cultivated in Tamil Nadu was

- a. 57,64,000 hectares                                      b. 59, 94,000 hectares  
c. 68,94,000 hectares                                      d. 48,94,000 hectares  
e. Answer not known

2014-15 ஆம் ஆண்டில் தமிழ்நாட்டின் பயிரிடப்பட்ட நிலத்தின் மொத்தம் பரப்பளவு,

- a. 57,64,000 ஹெக்டேர்கள்                                      b. 59, 94,000 ஹெக்டேர்கள்  
c. 68,94,000 ஹெக்டேர்கள்                                      d. 48,94,000 ஹெக்டேர்கள்  
e. விடை தெரியவில்லை

70. Consider Thiruvalluvar's economic ideas.

1. He recommended balanced budget.
2. He was against seeking external assistance.
3. He is for a wealthy state.
4. Agricultural is the most fundamental economic activity.

Which of the above are correct?

- a. 1, 2, 3                                      b. 1, 3, 4                                      c. 1, 2, 4  
d. 1, 2, 3, 4                                      e. Answer not know

திருவள்ளுவரின் பொருளாதார கருத்துகளை ஆய்க

1. இவர் சமநிலை வரவு செலவை வலியுறுத்தினார்
  2. இவர் வெளிநாட்டு உதவி பெறுதலை ஆதரிக்கவில்லை
  3. இவர் செல்வம் மிகுந்த நாட்டை ஆதரித்தார்
  4. வேளாண்மையே அடிப்படைப் பொருளாதார நடவடிக்கையாகும்
- மேற்கூறியவற்றில் சரியானவை எவை?

- a. 1, 2, 3                                      b. 1, 3, 4                                      c. 1, 2, 4  
d. 1, 2, 3, 4                                      e. விடை தெரியவில்லை

71. J.C. Kumarappa founded 'All India village industries association' in

- a. 1932                                      b. 1935                                      c. 1937  
d. 1947                                      e. Answer not know

J.C. குமரப்பா அனைத்திந்திய கிராம தொழில் கழகத்தைத் தோற்றுவித்த ஆண்டு

- a. 1932                                      b. 1935                                      c. 1937  
d. 1947                                      e. விடை தெரியவில்லை

72. Which steel plant was established with no external assistance?

- a. Burnpur                                      b. Vishakapattinam                                      c. Bhadravati  
d. Salem                                      e. Answer not know

பின்வரும் எ.கு தொழிற்சாலைகளில் வெளிநாட்டு உதவி இல்லாமல் தொடங்கப்பட்டது எது?

- a. பரன்பூர்                                      b. விசாகப்பட்டினம்                                      c. பத்ராபதி  
d. சேலம்                                      e. விடை தெரியவில்லை

73. Consider the following statements.

1. Tamil Nadu 3<sup>rd</sup> in human development index.
2. Tamil Nadu had highest gross enrolment ratio in higher education.
3. Tamil Nadu is placed third in health index.
4. Tamil Nadu highest credit deposit ratio in commercial banks.

Which of above are correct?

- a. 1, 2, 3                      b. 1, 2, 4                      c. 2, 3, 4  
d. All                      e. Answer not know

பின்வரும் கூற்றுக்களை ஆய்க:

1. மனிதவள மேம்பாட்டுக் குறியீட்டில் தமிழ்நாடு மூன்றாவது இடத்தில் உள்ளது.
2. தமிழ்நாட்டின் உயர்கல்வி மொத்த சேர்க்கை விகிதம் அதிகபட்சமாக உள்ளது.
3. சுகாதாரக் குறியீட்டில் தமிழ்நாடு மூன்றாவது இடத்தில் உள்ளது.
4. வணிக வங்கிகளின் கடன் வைப்பு விகிதத்தில் தமிழ்நாடு முதலிடத்தில் உள்ளது.

மேற்கூறியவற்றுள் சரியானவை எவை?

- a. 1, 2, 3                      b. 1, 2, 4                      c. 2, 3, 4  
d. அனைத்தும்                      e. விடை தெரியவில்லை

74. Consider the following statements.

1. The density of Tamil Nadu is 555.
2. Tamil Nadu ranks 12<sup>th</sup> in density among Indian states.

Which of above are correct?

- a. 1 is correct                      b. 2 is correct                      c. Both are correct  
d. Both are wrong                      e. Answer not know

பின்வரும் கூற்றுக்களை ஆய்க:

1. தமிழ்நாட்டின் மக்கள் தொகை அடர்த்தி 555 ஆகும்.
2. இந்திய மாநிலங்களின் மக்கள் தொகை அடர்த்தியில் தமிழ்நாடு 12 வது இடத்தில் உள்ளது.

மேற்கூறியவற்றுள் சரியானவை எவை?

- a. 1 சரி                      b. 2 சரி                      c. இரண்டும் சரி  
d. இரண்டும் தவறு                      e. விடை தெரியவில்லை

75. Which of the following is not correct?

- a. The IMR of Tamil Nadu is 17
- b. The MMR of Tamil Nadu is 99
- c. The life expectancy of Tamil Nadu is 70.6
- d. The literacy rate in Tamil Nadu is 80.33%
- e. Answer not know

பின்வருவனவற்றுள் தவறானவை எவை?

- a. தமிழ் நாட்டின் குழந்தை இறப்பு விகிதம் 17
- b. தமிழ்நாட்டின் மகப்பேறு இறப்பு விகிதம் 99
- c. தமிழ்நாட்டின் சராசரி ஆயுட்காலம் 70.6 ஆகும்.
- d. தமிழ்நாட்டின் எழுத்தறிவு விகிதம் 80.33%
- e. விடை தெரியவில்லை

76. Tamil Nadu SGDP in 2016-17 stands at

- a. \$227.8 billion                      b. \$207.8 billion                      c. \$247.8 billion  
d. \$197.8 billion                      e. Answer not know

2017-18 ஆம் ஆண்டிற்கான தமிழ் நாட்டின் மொத்த மாநில உள்நாட்டு உற்பத்தி GSDP எவ்வளவு?

- a. \$227.8 பில்லியன்                      b. \$207.8 பில்லியன்                      c. \$247.8 பில்லியன்  
d. \$197.8 பில்லியன்                      e. விடை தெரியவில்லை

77. Consider the following statements.

1. GSDP of Tamil Nadu is equal to GDP of Kuwait on nominal terms.
  2. Per capita GSDP of Tamil Nadu stands at \$1700.
  3. Per capita GSDP of Tamil Nadu is 1.75times higher than national average.
- Which of above are correct?

- a. 1, 2    b. 1, 3    c. 2, 3  
d. 1, 2, 3    e. Answer not know

பின்வரும் கூற்றுக்களை ஆய்க:

1. தமிழ்நாட்டின் GSDP குவைத் நாட்டின் GDP க்கு சமமாகும்.
  2. தமிழ்நாட்டின் GSDP தலா வருமானம் \$1700
  3. தமிழ்நாட்டின் GSDP தலா வருமானம் தேசிய சராசரியைவிட 1.75 மடங்கு அதிகம்.
- மேற்கூறியவற்றுள் சரியானவை எவை?

- a. 1, 2    b. 1, 3    c. 2, 3  
d. 1, 2, 3    e. விடை தெரியவில்லை

78. Consider the following statements.

1. Tamil Nadu seven Agro -Climatic zones.
  2. The state is the largest producer of loose flowers.
  3. Tamil Nadu is India's second biggest producer of rice.
- Which of above are correct?

- a. 1, 2    b. 1, 3    c. 2, 3  
d. 1, 2, 3    e. Answer not know

பின்வரும் கூற்றுக்களை ஆய்க:

1. தமிழ்நாடு ஏழு வேளாண் காலநிலை மண்டலங்களைக் கொண்டுள்ளது.
  2. தமிழ்நாடு உதிரிப்பூக்கள் உற்பத்தியில் முதலிடத்தில் உள்ளது.
  3. நெல் உற்பத்தியில், இந்தியாவின் இரண்டாவது பெரிய மாநிலமாக தமிழ்நாடு உள்ளது.
- மேற்கூறியவற்றுள் சரியானவை எவை?

- a. 1, 2    b. 1, 3    c. 2, 3  
d. 1, 2, 3    e. விடை தெரியவில்லை

79. Consider the following statements.

1. Tamil Nadu ranks 1<sup>st</sup> in groundnut and maize production.
  2. Tamil Nadu stands 2<sup>nd</sup> in pulses production.
  3. Tamil Nadu stands 3<sup>rd</sup> in sugarcane production.
- Which of above are correct?

- a. 1, 2    b. 1, 3    c. 2, 3  
d. 1, 2, 3    e. Answer not know

பின்வரும் கூற்றுக்களை ஆய்க:

1. தமிழ்நாடு நிலக்கடலை மற்றும் மக்காச்சோளம் உற்பத்தியில் முதலிடத்தில் உள்ளது.
  2. தமிழ்நாடு பருப்பு வகைகள் உற்பத்தியில் இரண்டாம் இடத்தில் உள்ளது.
  3. தமிழ்நாடு கரும்பு உற்பத்தியில் மூன்றாம் இடத்தில் உள்ளது.
- மேற்கூறியவற்றுள் சரியானவை எவை?

- a. 1, 2    b. 1, 3    c. 2, 3  
d. 1, 2, 3    e. விடை தெரியவில்லை

80. Chennai is known as Detroit of Asia because of  
 a. Automobile industry      b. Electronic industry      c. Software industry  
 d. Chemical industry      e. Answer not know  
 சென்னை ஏன் ஆசியாவின் டெட்ராய்டு என்று அழைக்கப்படுகிறது?  
 a. வாகன உற்பத்தி தொழில்      b. மின்னணு சாதன உற்பத்தி தொழில்  
 c. மென்பொருள் உற்பத்தி தொழில்      d. இரசாயன உற்பத்தி தொழில்  
 e. விடை தெரியவில்லை
81. Which of the following is not correct?  
 a. Tamil Nadu is the largest textile hub of India.  
 b. Tamil Nadu is known as yarn bowl of country accounting for 41% of yarn production.  
 c. Cotton textile to 6% of Indian GDP.  
 d. Cotton textile industry provides employment to 35 million people.  
 e. Answer not known  
 பின்வருவனவற்றுள் தவறானது எது?  
 a. தமிழ்நாடு இந்தியாவின் மிகப்பெரிய ஜவுளி உற்பத்தி மையமாகும்.  
 b. 41% நூல் உற்பத்தியுடன் தமிழ்நாடு இந்தியாவின் “நூல் கிண்ணம்” என அழைக்கப்படுகிறது.  
 c. பருத்தி தொழில்துறை, இந்திய GDP - யில் 6% பங்கை அளிக்கிறது.  
 d. பருத்தி தொழில்துறை 35 மில்லியன் மக்களுக்கு வேலைவாய்ப்பை வழங்குகிறது.  
 e. விடை தெரியவில்லை
82. Tamil Nadu has credit deposit ratio of  
 a. 119.15%      b. 109.15%      c. 77.5%  
 d. 105.15%      e. Answer not know  
 தமிழ்நாட்டின் கடன் - வைப்பு வீதம் எவ்வளவு?  
 a. 119.15%      b. 109.15%      c. 77.5%  
 d. 105.15%      e. விடை தெரியவில்லை
83. The rank of Tamil Nadu in unemployment is  
 a. 12<sup>th</sup>      b. 14<sup>th</sup>      c. 22<sup>nd</sup>  
 d. 18<sup>th</sup>      e. Answer not know  
 பின்வருவனவற்றுள் வேலையின்மை விகிதத்தில் தமிழ்நாட்டின் தரவரிசை எது?  
 a. 12 வது      b. 14 வது      c. 22 வது  
 d. 18 வது      e. விடை தெரியவில்லை
84. Which of the followings are women industrial parks developed by TANSIDCO?  
 1. Thirumulaivoyil - Thiruvallur district  
 2. Thirumudivakkam - Kancheepuram district  
 3. Karuppur - Salem district  
 4. Valavanthan Kottai - Madurai district  
 5. Kappalur - Tiruchirappalli district  
 a. 1, 2, 4      b. 1, 2, 3      c. 3, 4, 5      d. 2, 3, 4      e. Answer not known  
 பின்வருவனவற்றுள் எது TANSIDCO ஆல் உருவாக்கப்பட்ட பெண்களுக்கான தொழிற்சாலைப் பூங்காக்கள்?

- |                      |            |   |
|----------------------|------------|---|
| 1. திருமுல்லைவாயில்  | -          | திருவள்ளூர் மாவட்டம்                                |
| 2. திருமுடிவாக்கம்   | -          | காஞ்சிபுரம் மாவட்டம்                                |
| 3. கருப்பூர்         | -          | சேலம் மாவட்டம்                                      |
| 4. வாளவந்தான் கோட்டை | -          | மதுரை மாவட்டம்                                      |
| 5. கப்பலூர்          | -          | திருச்சிராப்பள்ளி மாவட்டம்                          |
| a. 1, 2, 4           | b. 1, 2, 3 | c. 3, 4, 5      d. 2, 3, 4      e. விடை தெரியவில்லை |

85. State Planning Commission established on

- a. 25<sup>th</sup> May 1971      b. 16<sup>th</sup> May 1971      c. 25<sup>th</sup> May 1992  
d. 16<sup>th</sup> May 1994      e. Answer not known

பின்வரும் எந்த ஆண்டில் மாநில திட்டமிடல் ஆணையம் நிறுவப்பட்டது?

- a. 25 மே 1971      b. 16 மே 1971      c. 25 மே 1992  
d. 16 மே 1994      e. விடை தெரியவில்லை

86. In which year, Tamilnadu Urban Habitat Development Board was established

- a. 1970      b. 1974      c. 2021      d. 2022      e. Answer not known

தமிழ்நாடு நகர்ப்புற வாழ்விட மேம்பாட்டு வாரியம் எந்த ஆண்டு நிறுவப்பட்டது?

- a. 1970      b. 1974      c. 2021      d. 2022      e. விடை தெரியவில்லை

87. Choose the correct statement about NEEDS scheme

1. Educated youth will be given entrepreneur training, assisted to prepare their business plans.
  2. The beneficiary should be in the age group of above 21 years and below 35 years for general category and above 21 years and below 45 years for special category.
- a. 1 only      b. 2 only      c. Both 1, 2 are correct  
d. Both 1, 2 are incorrect      e. Answer not known

NEEDS திட்டம் பற்றிய சரியான கூற்றைத் தேர்ந்தெடுக்கவும்.

1. படித்த இளைஞர்களுக்கு தொழில் முனைவோர் பயிற்சி அளிக்கப்படும், அவர்களின் வணிகத் திட்டங்களைத் தயாரிக்க உதவப்படும்.
2. பயனாளி பொதுப் பிரிவினருக்கு 21 வயதுக்கு மேல் மற்றும் 35 வயதுக்கு உட்பட்டவராகவும், சிறப்புப் பிரிவினருக்கு 21 வயதுக்கு மேல் மற்றும் 45 வயதுக்கு உட்பட்டவராகவும் இருக்க வேண்டும்.

- a. 1 மட்டும்      b. 2 மட்டும்      c. 1, 2 இரண்டும் சரி  
d. 1, 2 இரண்டும் தவறானவை      e. விடை தெரியவில்லை

88. Choose the correct statement about S2G Buy Day

1. TANSIM is launching S2G Buy Day to link startups and Government as part of their initiative to strengthen the startup ecosystem.
  2. Government departments and public sector undertakings will be allowed to directly procure innovative products and services for upto Rs. 100 lakh from startups.
- a. 1 only      b. 2 only      c. Both 1, 2 are correct  
d. Both 1, 2 are incorrect      e. Answer not known





92. Choose the correct statement about i-TNT Hub
1. The i-TNT Hub is India's first Innovation hub established in a public-private partnership model along with contribution from Government of India.
  2. i-TNT Hub is located at Anna University Campus in Guindy.
- a. 1 only                      b. 2 only                      c. Both 1, 2 are correct  
d. Both 1, 2 are incorrect    e. Answer not known
- i-TNT Hub பற்றிய சரியான கூற்றைத் தேர்ந்தெடுக்கவும்
1. i-TNT Hub என்பது இந்திய அரசின் பங்களிப்புடன் பொது-தனியார் கூட்டாண்மை மாதிரியில் நிறுவப்பட்ட இந்தியாவின் முதல் கண்டுபிடிப்பு மையமாகும்.
  2. i-TNT Hub கிண்டியில் உள்ள அண்ணா பல்கலைக்கழக வளாகத்தில் அமைந்துள்ளது.
- a. 1 மட்டும்                      b. 2 மட்டும்                      c. 1, 2 இரண்டும் சரி  
d. 1, 2 இரண்டும் தவறானவை    e. விடை தெரியவில்லை
93. In which year, ELCOT was established?
- a. 1980                      b. 1967                      c. 1977                      d. 1990                      e. Answer not known
- ELCOT நிறுவனம் எந்த ஆண்டு நிறுவப்பட்டது?
- a. 1980                      b. 1967                      c. 1977                      d. 1990                      e. விடை தெரியவில்லை
94. Match the following
- | ELCOSEZ                     |  |  |  | District       |
|-----------------------------|--|--|--|----------------|
| A. ELCOSEZ Vilankurichi     |  |  |  | 1. Salem       |
| B. ELCOSEZ Gangaikondan     |  |  |  | 2. Tirunelveli |
| C. ELCOSEZ Jagirampalayam   |  |  |  | 3. Hosur       |
| D. ELCOSEZ Vishwanathapuram |  |  |  | 4. Coimbatore  |
- |    | A | B | C | D |
|----|---|---|---|---|
| a. | 2 | 4 | 3 | 1 |
| b. | 1 | 2 | 4 | 3 |
| c. | 3 | 2 | 4 | 1 |
| d. | 4 | 2 | 1 | 3 |
- e. Answer not known
- பின்வருவனவற்றைப் பொருத்துக:
- | ELCOSEZ                     |  |  |  | மாவட்டம்         |
|-----------------------------|--|--|--|------------------|
| A. ELCOSEZ விளங்குறிச்சி    |  |  |  | 1. சேலம்         |
| B. ELCOSEZ கங்கைகொண்டான்    |  |  |  | 2. திருநெல்வேலி  |
| C. ELCOSEZ ஜாகிராம்மபாளையம் |  |  |  | 3. ஓசூர்         |
| D. ELCOSEZ விஸ்வநாதபுரம்    |  |  |  | 4. கோயம்புத்தூர் |
- |    | A | B | C | D |
|----|---|---|---|---|
| a. | 2 | 4 | 3 | 1 |
| b. | 1 | 2 | 4 | 3 |
| c. | 3 | 2 | 4 | 1 |
| d. | 4 | 2 | 1 | 3 |
- e. விடை தெரியவில்லை
95. Which committee recommended the Tamilnadu Urban Employment Scheme?
- a. Murugasen Committee                      b. Thanikasalam Committee  
c. Rangarajan Committee                      d. Kalaiaarasan Committee  
e. Answer not known

தமிழ்நாடு நகர்ப்புற வேலைவாய்ப்புத் திட்டத்தை பரிந்துரைத்த குழு எது?

- a. முருகேசன் குழு                      b. தணிகாசலம் குழு                      c. ரங்கராஜன் குழு  
d. கலையரசன் குழு                      e. விடை தெரியவில்லை

96. Choose the correct statement about Medical Device Park

1. TIDCO is establishing an exclusive Industrial park for the medical device sector.  
2. Medical device park to be build at Oragadam, Kancheepuram.  
a. 1 only                      b. 2 only                      c. Both 1, 2 are correct  
d. Both 1, 2 are incorrect                      e. Answer not known

மருத்துவ சாதனப் பூங்கா பற்றிய சரியான கூற்றுகளைத் தேர்ந்தெடுக்கவும்

1. மருத்துவ சாதனத் துறைக்காக டிட்கோ (TIDCO) ஒரு பிரத்யேக தொழிற்சாலைப் பூங்காவை நிறுவுகிறது.  
2. காஞ்சிபுரத்தில் உள்ள ஓரகடம் என்ற இடத்தில் மருத்துவ உபகரண பூங்கா அமைக்கப்படும்.  
a. 1 மட்டும்                      b. 2 மட்டும்                      c. 1 & 2 இரண்டும் சரி  
d. 1 & 2 இரண்டும் தவறானவை                      e. விடை தெரியவில்லை

97. Choose the correct statement about Greenfield airport near Chennai?

1. The Government has nominated TIDCO as a nodal agency for development of the Greenfield Airport.  
2. "Parandur" site in Kancheepuram district has been selected as the feasible site for the development of greenfield airport.  
a. 1 only                      b. 2 only                      c. Both 1, 2 are correct  
d. Both 1, 2 are incorrect                      e. Answer not known

சென்னை அருகே உள்ள கிரீன்ஃபீல்டு விமான நிலையம் குறித்த சரியான கூற்றுகளைத் தேர்ந்தெடுக்கவும்?

1. பசுமைப்பகுதி விமான நிலையத்தை மேம்படுத்துவதற்கான முகமை நிறுவனமாக டிட்கோவை (TIDCO) அரசு நியமித்துள்ளது.  
2. காஞ்சிபுரம் மாவட்டத்தில் உள்ள பரந்தூர் என்ற இடம் பசுமைப்பகுதி விமான நிலையத்தை உருவாக்க சாத்தியமான இடமாக தேர்வு செய்யப்பட்டுள்ளது.  
a. 1 மட்டும்                      b. 2 மட்டும்                      c. 1, 2 இரண்டும் சரி  
d. 1, 2 இரண்டும் தவறானவை                      e. விடை தெரியவில்லை

98. Match the following.

- |  |         |
|--|---------|
| A. Tamilnadu Newsprint and Papers Limited              | 1. 1976 |
| B. Tamilnadu Cements Corporation Limited               | 2. 1971 |
| C. Tamilnadu Salt Corporation Limited                  | 3. 1979 |
| D. State Industrial Promotion Corporation of Tamilnadu | 4. 1974 |

- |    |   |   |   |   |
|----|---|---|---|---|
|    | A | B | C | D |
| a. | 1 | 3 | 2 | 4 |
| b. | 4 | 1 | 3 | 2 |
| c. | 3 | 1 | 4 | 2 |
| d. | 2 | 3 | 4 | 1 |

e. Answer not known

பின்வருவனவற்றைப் பொருத்துக:

- |   |         |
|---|---------|
| A. தமிழ்நாடு செய்தித்தாள் மற்றும் காகிதங்கள் நிறுவனம் | 1. 1976 |
| B. தமிழ்நாடு சிமெண்ட்ஸ் நிறுவனம்                      | 2. 1971 |
| C. தமிழ்நாடு உப்பு நிறுவனம்                           | 3. 1979 |
| D. தமிழ்நாடு மாநில தொழில்துறை மேம்பாட்டுக் கழகம்      | 4. 1974 |

	A	B	C	D
a.	1	3	2	4
b.	4	1	3	2
c.	3	1	4	2
d.	2	3	4	1
e.	விடை தெரியவில்லை			

99. \_\_\_\_\_ is the first state to employ differently abled in the Mahatma Gandhi National Rural Employment Guarantee Scheme.

- a. Kerala                      b. Tamilnadu                      c. Gujarat  
d. Karnataka                      e. Answer not known

மகாத்மா காந்தி தேசிய ஊரக வேலைவாய்ப்பு உறுதித் திட்டத்தில் மாற்றுத் திறனாளிகளை வேலைக்கு அமர்த்தும் முதல் மாநிலம் எது?

- a. கேரளா                      b. தமிழ்நாடு                      c. குஜராத்  
d. கர்நாடகம்                      e. விடை தெரியவில்லை

100. In which place in Tamilnadu, ELCOT has established the information technology parks in special Economic Zones.

- a. Chennai                      b. Kanyakumari                      c. Erode  
d. Vellore                      e. Answer not known

பின்வரும் எந்த இடத்தில், எல்காட் நிறுவனம் தகவல் தொழில்நுட்ப பூங்காக்களை சிறப்பு பொருளாதார மண்டலங்களில் நிறுவியுள்ளது?

- a. சென்னை                      b. கன்னியாகுமரி                      c. ஈரோடு  
d. வேலூர்                      e. விடை தெரியவில்லை

101. The delegates \_\_\_\_\_ the matter for an hour but without any result.

- a. talked over                      b. talked above                      c. discussed about  
d. talk with                      e. Answer not known

102. Match the following words and phrases given in Column A with their meanings in Column B.

Column A	Column B
A. Bear with	1. corroborate
B. Bear out	2. cooperate
C. Blow down	3. start
D. Break down	4. stop

	A	B	C	D
a.	2	1	3	4
b.	2	1	4	3
c.	1	2	4	3
d.	1	2	3	4
e.	Answer not known			

103. Match the Following:

Column A

A. resplendent

B. stampede

C. stentorian

D. lumbered

Column B

1. brilliant in appearance

2. rush

3. extremely loud

4. walked clumsily

	A	B	C	D
--	---	---	---	---

a.	3	4	1	2
----	---	---	---	---

b.	4	3	2	1
----	---	---	---	---

c.	1	4	3	2
----	---	---	---	---

d.	1	2	3	4
----	---	---	---	---

e. Answer not known

104. I cannot \_\_\_\_\_ this sort of insult in office.

a. give up with

b. put up with

c. get up with

d. do up with

e. Answer not known

105. Choose the correct Synonym for the underlined word from the options below:-

As I look back I feel sheepish about my actions.

a. bold

b. hesitant

c. embarrassed

d. unashamed

e. Answer not known

106. Choose the correct Antonym from the options given below:

Primitive

a. primordial

b. antique

c. lower

d. sophisticated

e. Answer not known

107. Choose the correct Antonym of the underlined:

We looked forward to a more inclusive way of learning, instead of the cloistered existence.

a. enclosed

b. detached

c. opened

d. united

e. Answer not known

108. The correct prefix for 'logical' is

a. un

b. hyper

c. il

d. miss

e. Answer not known

109. The suffix for 'hill' is

a. et

b. kin

c. ful

d. ock

e. Answer not known

- Fill in the blank with suitable Article.
- Sorry, I will be late as \_\_\_\_ flight has been delayed due to bad weather.  
a. a                                      b. the                                      c. an  
d. No article                          e. Answer not known
111. Fill in the blank with suitable Article.  
He went to \_\_\_\_ bed with a slight fever.  
a. a                                      b. the                                      c. an  
d. No article
112. Fill in the blanks with suitable Articles.  
Africa has glaciers on \_\_\_\_ Mount Kilimanjaro in Tanzania and on \_\_\_\_ Mount Kenya.  
a. No article, No article                      b. the, the                                      c. a, a  
d. the, No article                                e. Answer not known
113. Fill in the blank with suitable Preposition:  
A probe has been ordered \_\_\_\_ the incident that occurred at the celebrations.  
a. by                                      b. to                                      c. in  
d. into                                      e. Answer not known
114. Fill in the blank with suitable Preposition:  
I want you to complete this work \_\_\_\_ two days.  
a. by                                      b. within                                      c. with  
d. on                                      e. Answer not known
115. Fill in the blank with suitable Preposition:  
The players distributed the rewards \_\_\_\_\_ themselves.  
a. between                      b. among                                      c. to  
d. for                                e. Answer not known
116. Guna and Gopal were asked to go out, \_\_\_\_\_?  
a. weren't he?                      b. aren't they?                                      c. weren't they?  
d. wasn't he?                      e. Answer not known
117. My letter will have reached her by this time tomorrow, \_\_\_\_\_?  
a. wouldn't it?                      b. will it?                                      c. haven't it?  
d. won't it?                                e. Answer not known
118. He would pay your bill, \_\_\_\_\_?  
a. won't he?                                b. will he?                                      c. would he?  
d. wouldn't he?                      e. Answer not known
119. Choose the correct tense.  
"Do you want to join us for lunch?" "I'm sorry my physics class \_\_\_\_ at 1 p.m. and doesn't finish till 3 p.m."

- a. starts                      b. start                      c. will start  
d. started                  e. Answer not known
120. Choose the correct tense.  
I think Reshmi \_\_\_\_\_ enough money by the time the year ends.  
a. will not saved              b. will not have save              c. will not have saved  
d. have not save              e. Answer not known
121. Choose the correct tense:  
Professor said that he \_\_\_\_\_ late for the lecture.  
a. are                      b. will be                      c. would be  
d. is                      e. Answer not known
122. Choose the correct Active Voice for the given sentence:  
The award was presented to her by the director  
a. She presented the award to the director  
b. The award presented to her by the director  
c. The director presented the award to her  
d. She was presenting the award to the director  
e. Answer not known
123. Choose the other Voice of the given sentence.  
You should apply for the job before the deadline  
a. You should be applying for the job before the deadline is  
b. The job should be applied for before the deadline  
c. The job could be applied for after the deadline  
d. The deadline should not be crossed for the job application  
e. Answer not known
124. Choose the correct Active Voice for the given sentence:  
Tall promises were being made by each candidate  
a. Each candidate made tall promises  
b. Each candidate can make tall promises  
c. Each candidate has made tall promises  
d. Each candidate was making tall promises  
e. Answer not known
125. Fill in the blank with correct non-finite verb.  
The food was too salty \_\_\_\_\_this morning.  
a. eating                      b. ate                      c. to ate  
d. to eat                      e. Answer not known
126. Pick out the sentence with wrong infinitive:  
a. You could help her.                      b. He was seen to take the money.  
c. The children came to see the concert.    d. You had better to take leave.  
e. Answer not known

127. Fill in the blank with correct non-finite verb:  
You had better \_\_\_\_\_ permission.  
a. to ask                      b. ask                                      c. to asking  
d. asking                      e. Answer not known
128. An example for SVC sentence pattern is  
a. He met a doctor                                      b. He painted the car  
c. It will make you mad                                      d. He remained a bachelor  
e. Answer not known
129. An example for SVIODO sentence pattern is  
a. The committee declared him the winner  
b. They appointed him the vice-captain  
c. I presented him a kingly crown  
d. He painted the car blue  
e. Answer not known
130. Identify the sentence pattern  
"The milk has turned sour".  
a. SVA                      b. SVO                                      c. SVC  
d. SVAA                      e. Answer not known
131. Homophone:  
People were \_\_\_\_\_ to safe places by the rescue team after the earthquake.  
a. evaluated                      b. evacuated                                      c. excavated  
d. immaculated                      e. Answer not known
132. Homophone:  
I can't \_\_\_\_\_ this heat anymore.  
a. beer                      b. bare                                      c. bear  
d. bier                      e. Answer not known
133. Find out the error:  
We will/ have been know the result/ of the TNPSC exam by the next month.  
a. have been know the result                                      b. No error  
c. of the CAT exam by the next week                                      d. We will  
e. Answer not known
134. Find out the error:  
Roger went/ to a United Kingdom/ with his wife/ to celebrate Christmas.  
a. Roger went                      b. to celebrate Christmas                                      c. to a united kingdom  
d. with his wife                      e. Answer not known
135. Find out the error:  
Shelly and Keats are great writers. But I prefer the last.  
a. the last                      b. are great writers                                      c. but I prefer  
d. Shelly and Keats                      e. Answer not known



136. Select the grammatically correct sentence
- The participants of the competition are waiting for their turn curiously.
  - The participants of the competition has been waiting for their turn curiously.
  - A participants of the competition is waiting for their turn curiously.
  - The participants of the competition is waiting for their turn curiously.
  - Answer not known
137. Select the grammatically correct sentence:
- Neither Ram or his sister is ready to play the game.
  - Neither Ram or his sisters are ready to play the game.
  - Neither Ram nor his sisters are ready to play the game.
  - Neither Ram nor his sisters is ready to play the game.
  - Answer not known
138. Select the grammatically correct sentence:
- Everyone was surprised at his courage and determination to achieve.
  - Everyone were surprised at his courage and determination to achieve.
  - Everyone was surprise into his courage and determination to achieve.
  - Everyone have surprised into his courage and determination to achieve.
  - Answer not known
139. Choose the correct ADVERB to complete the sentence.  
He wants to earn more. Therefore he works \_\_\_\_\_.
- hardly
  - hard
  - very hardly
  - All the above
  - Answer not known
140. Identify the sentence with 'ADJECTIVE'.
- Mini arrived late
  - He ate the whole apple
  - Ram runs fast
  - Gopi reads clearly
  - Answer not known
141. Change the following ADJECTIVE into ADVERB:  
"INTELLIGENT"
- Intelligence
  - Intelligently
  - Intelligent
  - Intelligents.
  - Answer not known
142. What is the plural form of axis?
- Axis
  - axesc.
  - axes
  - axia
  - Answer not known
143. Select the plural form of the following compound word.  
"Man servant"
- Man-servants
  - Men-servant
  - Men-servants
  - Mens-servants
  - Answer not known

144. Combine the pairs of sentences by choosing the correct sentence.  
My son was disobedient. I punished him.  
a. My son was disobedient because I punished him.  
b. Due to my son was disobedient, I punished him.  
c. Because of my son was disobedient, I punished him  
d. I punished my son because he was disobedient.  
e. Answer not known
145. Identify the sentence.  
The boy could not attend the special classes due to his mother's illness.  
a. Simple                      b. Compound                      c. Complex  
d. Imperative                e. Answer not known
146. Pick out the compound sentence from the option  
1. Nobody could find out the place of their stay  
2. The purpose of his visit to this place is not known  
3. On seeing the policeman, the thief fled away  
4. You must not be late or you will not be allowed  
a. 4                      b. 3                      c. 2                      d. 1                      e. Answer not known
147. Identify the correct degree :  
Very few cities in Tamil nadu are as big as Madurai.  
a. Comparative              b. Positive                      c. Superlative  
d. None of these              e. Answer not known
148. Identify the comparative degree.  
a. Tennyson is not the greatest of all Poets  
b. Some Poets are atleast as great as Tennyson  
c. Tennyson is not greater than some other Poets  
d. Tennyson is the great Poet  
e. Answer not known
149. Identify the sentence in which superlative degree is used.  
a. No other person was so inquisitive as Sheela  
b. Sheela was one among the inquisitive persons  
c. Sheela was the most inquisitive person  
d. Sheela was more inquisitive than other persons.  
e. Answer not known
150. The word 'Vitamin' can be formed by the blending of  
a. Vit + amin                      b. Vita + min                      c. vital + amin  
d. None of these                      e. Answer not known
151. Choose the right combination of the given blended word:  
Telethon  
a. Telephone + Marathon                      b. Tele + Thon                      c. Telegraphic+Thon  
d. Tele + rathon                      e. Answer not known

152. Choose the appropriate compound word for the combination 'Gerund + Noun'.
- |                |                     |              |
|----------------|---------------------|--------------|
| a. Sun rise    | b. Washing machine  | c. Fast food |
| d. Cat walking | e. Answer not known |              |
153. Dreamy-eyed is an example for
- |                     |                           |                  |
|---------------------|---------------------------|------------------|
| a. Noun + Verb      | b. Adjective + Participle | c. Verb + Adverb |
| d. Adjective + Noun | e. Answer not known       |                  |
154. The equivalent American word for 'Paraffin' is
- |             |                     |         |
|-------------|---------------------|---------|
| a. petrol   | b. liquid           | c. coal |
| d. kerosene | e. Answer not known |         |
155. The equivalent American word for 'Nursery is
- |             |                     |                 |
|-------------|---------------------|-----------------|
| a. primary  | b. pre-primary      | c. kindergarten |
| d. kid zone | e. Answer not known |                 |

**Read the following paragraph carefully and answer the questions given below (156-160)**

Some people suffer from an inability to sleep, a disease called insomnia and it may be due to different factors. The first factor many be 'biological imbalance'. Sleep is caused by a sleep system and wakefulness is caused by an arousal system. Both the systems are governed by the brain. In order to have a good sleep, the arousal system must be less and the sleep system must be more. When the arousal system goes up due to tension, insomnia may occur. Drugs are the second factor. People who consume alcohol habitually become prey to insomnia. Drugs like stimulants, sedatives, certain thyroid drugs and heart medicines can cause sleeplessness. Both sleeping pills and alcohol appear to promise better sleep. Bad habits and disturbing environments are the third factor in making one lose his sleep. If the bedroom is too noisy or too cold it may make one keep awake. If the stomach has too little or too much food, it may cause sleeplessness. Physical exercise too close to bedtime also confuses the sleep mechanism.

156. An inability to sleep is called \_\_\_\_\_
- |              |                     |             |
|--------------|---------------------|-------------|
| a. Amnesia   | b. Insomagnia       | c. Insomnia |
| d. Influenza | e. Answer not known |             |
157. The sleep and arousal system are governed by the \_\_\_\_\_
- |                    |                     |          |
|--------------------|---------------------|----------|
| a. Sleep mechanism | b. Drugs            | c. Heart |
| d. Brain           | e. Answer not known |          |
158. The second factor resulting in sleeplessness is \_\_\_\_\_
- |               |                         |          |
|---------------|-------------------------|----------|
| a. Exercise   | b. Biological imbalance | c. Drugs |
| d. Bad habits | e. Answer not known     |          |

159. Physical exercise too close to bed time\_\_\_\_\_
- a. Improves good memory                      b. Gives a good sleep  
c. Disturbs the sleep mechanism              d. Increases blood circulation  
e. Answer not known
160. This passage is about the \_\_\_\_\_
- a. Different factors of brain allergy              b. Bad habits  
c. Wakefulness & Arousal system              d. People suffering from  
e. Answer not known
161. In certain code, 1 is coded as \$, 5 is coded as %, 9 as \*, 3 as +, 7 as #, 4 as? How is 435971 coded in that code.
- a. ? + % \* # \$                      b. ? + \* # % \$                      c. \$ ? + % \* #  
d. ? + \* % # \$                      e. Answer not known
- ஒரு குறிப்பிட்ட குறியீட்டில் 1 ஆனது \$, 5 ஆனது %, 9 \* எனவும், 3 ஆனது +, 7 என்பது #, 4 ஐ ? என்று குறிப்பிட்டால் 435971 எவ்வாறு குறிக்கப்படும்?
- a. ? + % \* # \$                      b. ? + \* # % \$                      c. \$ ? + % \* #  
d. ? + \* % # \$                      e. விடை தெரியவில்லை
162. 'C @ D' means 'C is the father of D'  
'C \* D' means 'C is the brother of D'  
'C × D' means 'D is the husband of C'  
'C # D' means 'C is the sister of D'  
'C \$ D' means 'C is the son-in-law of D'  
'C = D' means 'C is the mother of D'.  
How is A related to C in the following expression? A @ L # F \* E × G \$ C
- a. Husband                      b. Son                      c. Brother  
d. Father                      e. Answer not known
- 'C @ D' என்றால் 'C என்பவர் D'ன் தந்தை  
'C \* D' என்றால் 'C என்பவர் D'ன் சகோதரர்  
'C × D' என்றால் 'D என்பவர் C'ன் கணவர்  
'C # D' என்றால் 'C என்பவர் D'ன் சகோதரி  
'C \$ D' என்றால் 'C என்பவர் D'ன் மருமகன்  
'C = D' என்றால் 'C என்பவர் D'ன் தாய்  
பின்வரும் அமைப்பில் A என்பவர் C-ன் என்ன உறவு? A @ L # F \* E × G \$ C
- a. கணவர்                      b. மகன்                      c. சகோதரர்  
d. தந்தை                      e. விடை தெரியவில்லை
163. Select the option that is related to the fifth letter – cluster in the same way as the second letter – cluster to the first letter – cluster and the fourth letter – cluster is related to the third letter – cluster.  
CROWN : OYRVH :: TABLE : FNEEY :: UNREAL : ?
- a. LAERNU                      b. NDHVSA                      c. NCHUSB  
d. MCHVSA                      e. Answer not known

இரண்டாம் எழுத்துக்குழு முதல் எழுத்துக்குழுவுடனும் நான்காம் எழுத்துக்குழு மூன்றாம் எழுத்துக்குழுவுடனும் கொண்டுள்ள தொடர்புக்கு இணையாக ஐந்தாம் எழுத்துக்குழுவுடன் தொடர்புடைய எழுத்துக்குழுவை காண்க?

CROWN : OYRVH :: TABLE : FNEEY :: UNREAL : ?

- a. LAERNU                      b. NDHVSA                      c. NCHUSB  
d. MCHVSA                      e. விடை தெரியவில்லை

164. Select set in which the numbers are related in the same way as are the numbers of the following set.

(NOTE: Operations should be performed on the whole numbers, without breaking down the numbers into its constituent digits.)

(50, 60, 2000) (20, 30, 200)

பின்வரும் எண் இணைகளில் எண்களின் தொடர்புக்கு இணையான எண் இணையைக் காண்க. (குறிப்பு : எண்களை இலக்கங்களாக பிரிக்காமல் முழு எண்ணாக கொண்டு கணக்கிடவும்) (50, 60, 2000) (20, 30, 200)

- a. (31, 10, 48)                      b. (21, 11, 11)                      c. (80, 90, 6500)  
d. (20, 10, 200)                      e. Answer not known

165. Select the odd letter/letters from the given alternatives.

கொடுக்கப்பட்ட மாற்று எழுத்துகளிலிருந்து தொடர்பற்ற எழுத்தை தேர்ந்தெடுக்கவும்

- a. VWYB                      b. LMOR                      c. QSVY  
d. ABDG                      e. Answer not known

166. Read the following information carefully and answer the questions that follow:

There are six persons A, B, C, D, E and F. C is the sister of F. B is the brother of E's husband. D is the father of A and grandfather of F. There are two fathers, three brothers and a mother in the group.

Which of the following is a group of brothers?

- a. ABF                      b. ABD                      c. BFC  
d. BDF                      e. Answer not known

பின்வரும் தகவல்களை படித்து கேட்கப்பட்டுள்ள கேள்விகளுக்கு விடையளிக்கவும்.

A, B, C, D, E மற்றும் F என்ற 6 நபர்கள் இருந்தனர். C என்பவர் F ன் சகோதரி, B என்பவர். E ன் கணவரின் சகோதரர் D என்பவர் A ன் தந்தை மற்றும் நு ன் தாத்தா சகோதரர் னு என்பவர் யு ன் தந்தை மற்றும் கு ன் தாத்தா அங்கு 2 தந்தையர்கள், 3 சகோதரர்கள் மற்றும் ஒரு தாய் அந்தக் குழுவில் உள்ளனர்.

- a. ABF                      b. ABD                      c. BFC  
d. BDF                      e. விடை தெரியவில்லை

167. A man has a certain number of small boxes a pack into parcels. If he packs 3, 4, 5 or 6 in a parcel, he is left with one over, if he packs 7 in a parcel, none is left over. What is the number of boxes, he may have to pack?

ஒருவரிடம் பொருட்களை அடுக்கி வைக்க சிறிய பெட்டிகள் உள்ளன. அவற்றில் 3, 4, 5 அல்லது 6 என்ற எண்ணில் அடுக்கினால் ஒரு பொருள் மிஞ்சி விடுகிறது. ஒரு பெட்டிக்கு 7 என வைத்தால் எப்பொருளும் மிஞ்சுவதில்லை. எல்லாம் பெட்டிகளுக்குள் அமைந்து விடுகின்றன. அப்படியானால் அவன் எத்தனை பெட்டிகளில் பொருட்களை அடுக்க வேண்டும்?

- a. 106                      b. 301                      c. 309                      d. 400                      e. Answer not known

168. Between two book-ends in your study are displayed your five favourite puzzle books. If you decide to arrange the five books in every possible combination and moved just one book every minute, how long would it take you?

a. 1 hour                      b. 2 hours                      c. 3 hours  
d. 4 hours                      e. Answer not known

ஒரு புத்தக வரிசையின் இரண்டு முனைகளுக்கு இடையே உங்களுக்குப் பிடித்தமான 5 புதிர் புத்தகங்கள் வைக்கப்பட்டுள்ளன. அந்த ஐந்து புத்தகங்களையும் எந்தெந்த வகைகளில் வைக்க முடியுமா அந்தந்த வகையில் மாற்றி வைக்க நீங்கள் முடிவு செய்து, அவ்வாறு மாற்றி அமைக்க ஒவ்வொரு புத்தகத்திற்கும் ஒரு நிமிடத்தை எடுத்துக் கொண்டால், அதை முடிக்க உங்களுக்கு எவ்வளவு நேரம் தேவைப்படும்?

a. 1 மணி                      b. 2 மணி                      c. 3 மணி  
d. 4 மணி                      e. விடை தெரியவில்லை

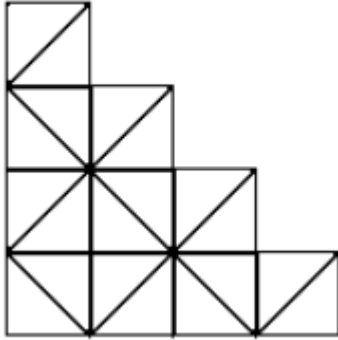
169. Six people A, B, C, D, E, F are sitting on the ground in a hexagonal shape. All the sides of the hexagon so formed are of same length. A is not adjacent to B or C. D is not adjacent to C or E, B and C are adjacent, F is in the middle of D and C. Which of the following is not a correct neighbor pair?

a. A and F                      b. D and F                      c. B and E  
d. C and F                      e. Answer not known

A, B, C, D, E, F ஆகியோர் அறுங்கோண வடிவத்தில் சமமான தூரத்தில் அமர்ந்துள்ளனர். A-யும் B-யும் அருகாமையில் இல்லை, அதே போல A யும், C யும் அருகாமையில் இல்லை, D-யும் C-க்கும், E-க்கும் அருகாமையில் இல்லை. B-யும், C-யும் அருகில் உள்ளனர். F என்பது D-க்கும் நடுவில் உள்ளது. கீழே உள்ளவற்றுள் எது அருகாமையில் இல்லை ஜோடி?

a. A – யும், F-ம்                      b. D-யும், F-ம்                      c. B-யும் E-ம்  
d. C-யும் F-ம்                      e. விடை தெரியவில்லை

170. How many squares are there in the following figure  
கொடுக்கப்பட்ட படத்தில் எத்தனை சதுரங்கள் உள்ளன



a. 14                      b. 16                      c. 12                      d. 12                      e. Answer not known

171. Select the number that can replace the question mark?

கொடுக்கப்பட்ட படத்தில் கேள்விக்குறி உள்ள இடத்தில் வரக்கூடிய எண் / எண் தேர்வு செய்க

16	25	9
36	64	81
10	13	?

- a. 14                      b. 11                      c. 12                      d. 13                      e. Answer not known

172. Anuj started walking positioning his back toward the sun. After sometime, he turned left, then turned right and then towards the left again. In which direction is he going now?

- a. North or South                      b. East or West                      c. North or West  
d. South or West                      e. Answer not known

அனுஜ் சூரியனைப் பின்னால் வைத்து நடக்கத் தொடங்கினார். சிறிது நேரம் கழித்து, அவர் இடதுபுறமாகத் திரும்பி, பின்னர் வலதுபுறமாகத் திரும்பி பின்னர் மீண்டும் இடதுபுறமாகத் திரும்பினார். அவர் இப்போது எந்த திசையில் செல்கிறார்?

- a. வடக்கு அல்லது தெற்கு                      b. கிழக்கு அல்லது மேற்கு  
c. வடக்கு அல்லது மேற்கு                      d. தெற்கு அல்லது மேற்கு  
e. விடை தெரியவில்லை

173. 18, 119, 708, 3534, 1436, 42405

- a. 708                      b. 3534                      c. 14136                      d. 42405                      e. Answer not known

174. In a certain code language '-' represents '+', '+' represents 'x', 'x' represents '÷' and '÷' represents '-'. Find out the answer to the following question.

ஒரு குறியீட்டு மொழியில் '-' என்பது +, '+' என்பது x, 'x' என்பது ÷, '÷' என்பது -, எனில் பின்வரும் வினாவிற்கான விடை காண்க.

$$10 + 20 \times 10 \div 20 - 8 = ?$$

- a. 43                      b. 9                      c. 30                      d. 8                      e. Answer not known

175. Statements I. Water has shape, has volume.

II. The knowledge is like water, flowed from one side to other.

Conclusions I. The knowledge is interdisciplinary

II. The knowledge is bound within a specific area.

III. The knowledge influences the core of mental activity directly.

- a. Only Conclusion I follows  
b. Only Conclusion II follows  
c. Both Conclusions I and II follow  
d Both Conclusions I and III follow  
e. Answer not known

கூற்று : I தண்ணீருக்கு வடிவம் உள்ளது, அளவும் உள்ளது.  
II. அறிவு என்பது தண்ணீரைப் போன்றது, ஒரு பக்கத்திலிருந்து இன்னொரு பக்கத்திற்கு பாய்கிறது.

முடிவுகள் I. அறிவு என்பது இடைநிலை சார்ந்தது  
II. அறிவு ஒரு குறிப்பிட்ட பகுதிக்குள் பிணைக்கப்பட்டுள்ளது.  
III. அறிவு மன செயல்பாட்டின் மையத்தை நேரடியாக பாதிக்கிறது.

- a. முடிவு I பின்பற்றுகின்றன
- b. முடிவு II பின்பற்றுகின்றன
- c. I மற்றும் II பின்பற்றுகின்றன
- d. முடிவு I மற்றும் II பின்பற்றுகின்றன
- e. விடை தெரியவில்லை

176. Select the correct option to indicate the arrangement of the following words in a logical and meaningful order

1. Tissue      2. Population      3. Organ      4. Cell      5. Organism
- a. 41325      b. 14325      c. 41352
- d. 14253      e. Answer not known

பின்வரும் சொற்களின் ஏற்பாட்டை தர்க்கரீதியான மற்றும் அர்த்தமுள்ள வரிசையில் குறிக்க சரியான விருப்பத்தைத் தேர்ந்தெடுக்கவும்.

1. திசு. 2. மக்கள் தொகை 3. அமைப்பு 4. செல் 5. உயிரினம்.
- a. 41325      b. 14325      c. 41352
- d. 14253      e. விடை தெரியவில்லை

177. Statements: The eligibility for admission to the course is Minimum second-class Master's degree. However, the candidates who have appeared for the final year examination of Masters degree can also apply.

Conclusions: I. All candidates who have yet to get their Master's degree will be there in the list of selected candidates.

II. All candidates having obtained second class Master's degree will be there in the list of select candidates.

- a. If only conclusion I follows
- b. If only conclusion II follows
- c. If either I or II follows
- d. If neither I nor II follows
- e. Answer not known

கூற்றுகள்: இந்த பாடத்திட்டத்தில் சேர குறைந்தபட்சம் இரண்டாம் வகுப்பிலாவது முதுகலை பட்டம் பெற்றிருக்க வேண்டும். இருப்பினும், முதுகலைப் பட்டப்படிப்பின் இறுதி ஆண்டு தேர்வெழுதியவர்களும் விண்ணப்பிக்கலாம்.

முடிவுகள்: I. இன்னும் முதுகலைப் பட்டம் பெறாத அனைத்து விண்ணப்பதாரர்களும் தேர்ந்தெடுக்கப்பட்ட விண்ணப்பதாரர்களின் பட்டியலில் இருப்பார்கள்.

II. தேர்ந்தெடுக்கப்பட்ட விண்ணப்பதாரர்களின் பட்டியலில் இரண்டாம் வகுப்பில் முதுகலை பட்டம் பெற்ற அனைத்து விண்ணப்பதாரர்களும் இருப்பார்கள்.



- முடிவு I மட்டுமே பின்பற்றப்படுகிறது.
- முடிவு II மட்டுமே பின்பற்றப்படுகிறது.
- I அல்லது II இரண்டில் ஏதேனும் ஒன்று பின்பற்றப்படுகிறது.
- I அல்லது II எதுவும் பின்பற்றவில்லை

**(Q. Nos. 178-182) Study the following information carefully to answer the given questions.**

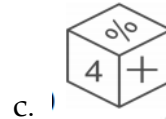
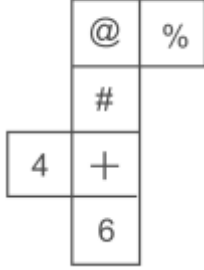
A, B, C, D, E, F, G and H are seated in straight line facing North. C sits fourth to left of G. D sits second to right of G. Only two people sit between D and A. B and F are immediate neighbours of each other. B is not an immediate neighbour of A. H is not an immediate neighbour of D.

A, B, C, D, E, F, G மற்றும் H ஆகியவை வடக்கு நோக்கிய நேர் கோட்டில் அமைந்துள்ளன. C, Gக்கு இடதுபுறத்தில் நான்காவது இடத்தில் அமர்ந்திருக்கிறது. D, G க்கு வலதுபுறத்தில் இரண்டாவது இடத்தில் அமர்ந்திருக்கிறது. D மற்றும் A இடையே இரண்டு பேர் மட்டுமே அமர்ந்திருக்கிறார்கள். B மற்றும் F ஒருவருக்கொருவர் உடனடி அருகாமையிலும். B என்பவர் Aக்கு அருகில் இல்லை. H என்பவர் Dக்கு அருகில் இல்லை

- Who amongst the following sits exactly in the middle of the persons who sit fifth from the left and the person who sits sixth from the right?  
பின்வருவனவற்றில் இடதுபுறத்தில் ஐந்தாவது இடத்தில் அமர்ந்திருக்கும் நபர்களுக்கும் வலதுபுறத்தில் ஆறாவது இடத்தில் அமர்ந்திருக்கும் நபருக்கும் நடுவில் சரியாக அமர்ந்திருப்பது யார்?  
a. C      b. H      c. E      d. F      e. Answer not known
- Who amongst the following sits third to the right of C?  
பின்வருவனவற்றுள் C இன் வலதுபுறத்தில் மூன்றாவது இடத்தில் அமர்ந்திருப்பது யார்  
a. B      b. F      c. A      d. E      e. Answer not known
- Which of the following represents persons seated at the two extreme ends of the line?  
பின்வரும் இணைகளில் எந்த இணை கோட்டின் இரண்டு தீவிர முனைகளில் இருந்து கடைசியாக இரண்டாவது இடத்தில் அமர்ந்திருக்கும் இணை எது?  
a. C,D      b. A,B      c. B, G      d. D, H      e. Answer not known
- What is the position of H with respect to F?  
F ஐப் பொறுத்தவரை H இன் நிலை என்ன?  
a. Third to the left      b. Immediate right      c. Second to right  
d. Fourth to left      e. Answer not known
- How many persons are seated between A and E?  
A மற்றும் E இடையே எத்தனை பேர் அமர்ந்திருக்கிறார்கள்?  
a. One      b. Two      c. Three  
d. Four      e. Answer not known

183. By folding the given paper, which of the following can be made?

கொடுக்கப்பட்ட காகிதத்தை மடிப்பதன் மூலம், பின்வருவனவற்றில் எதை உருவாக்க முடியும்?



e. Answer not known

184. In how many different way can the letters of the word OFFICES be arranged?

அலுவலகங்கள் என்ற வார்த்தையின் எழுத்துக்களை எத்தனை வெவ்வேறு வழிகளில் வரிசைப்படுத்தலாம்

a. 2520

b. 5040

c. 1850

d. 1980

e. Answer not known

185. Which of the following calendars will be the same as the calendar for the year 2003?

பின்வருவனவற்றுள் எந்த நாட்காட்டி 2003 ஆம் ஆண்டிற்கான நாட்காட்டிக்கு சமமாக இருக்கும்?

a. 2014

b. 2013

c. 2012

d. 2011

e. Answer not known

186. Select the correct mirror image of the given figure when the mirror is placed to the right side of the figure.

கண்ணாடி உருவத்தின் வலது பக்கத்தில் வைக்கப்படும்போது கொடுக்கப்பட்ட உருவத்தின் சரியான கண்ணாடி படத்தைத் தேர்ந்தெடுக்கவும்.

**TER\$MISNATE**

a. **ETANISM\$RET**

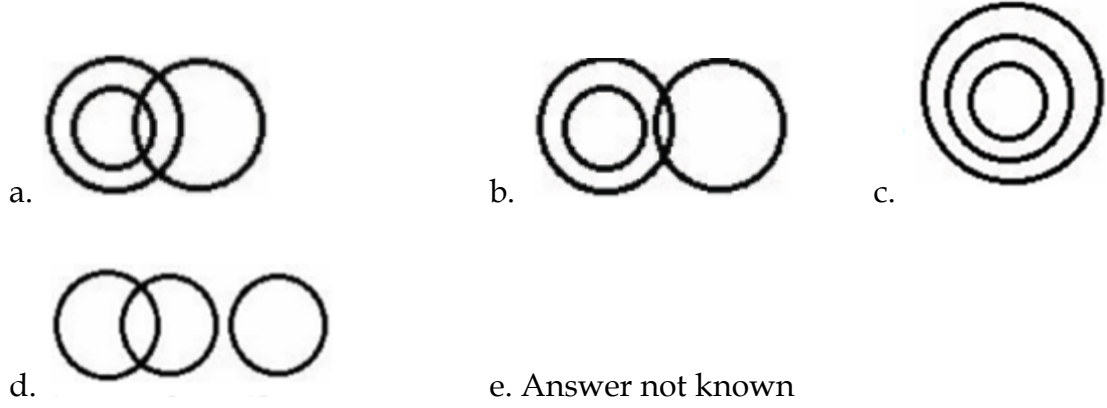
b. **TER\$MISNATE**

c. **TER\$MISNATE**

d. **ETANISM\$RET**

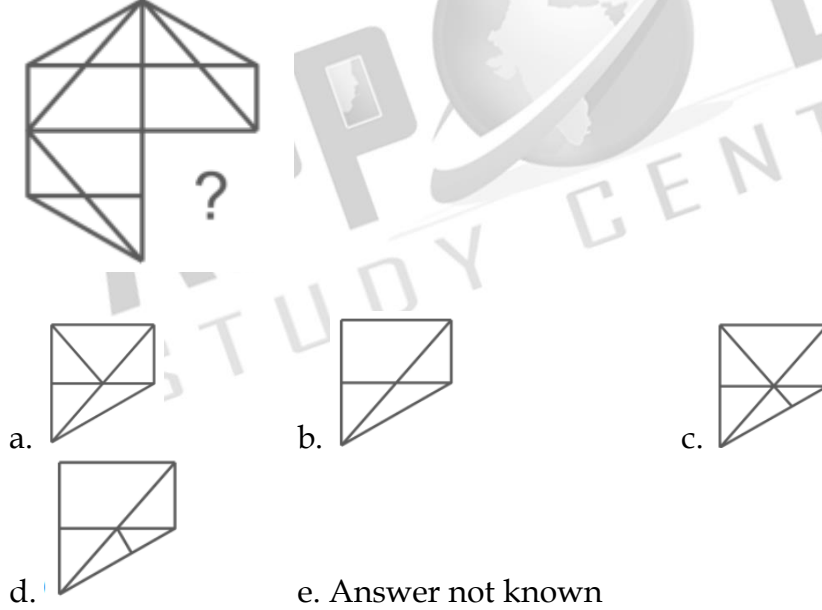
187. Select the Venn Diagram that best illustrates the relationship between the following classes. Musicians, Females, Daughters

பின்வரும் உறவை இடையிலான சிறப்பாக விளக்கும் வென் வரைபடத்தைத் தேர்ந்தெடுக்கவும். இசைக்கலைஞர்கள், பெண்கள், மகள்கள்



188. Select the option figure that will replace the question mark (?) / Blank Space in the question figure given below to complete the pattern.

கொடுக்கப்பட்டுள்ள படத்தில் கேள்விக்குறி உள்ள படத்தை தேர்வு செய்க?



189. A school always has

a. Teacher                      b. Principal                      c. Building  
d. Library                      e. Answer not known

ஒரு பள்ளி எப்போதும் உள்ளது  
a. ஆசிரியர்                      b. முதல்வர்                      c. கட்டிடம்  
d. நூலகம்                      e. விடை தெரியவில்லை

190. Statements: I. All keyboards are mouse.

II. Some mouse are printer.

Conclusions :

1. No printer is keyboard.

2. Some printers are mouse.

3. All printers are mouse.

4. No keyboards is printer.

a. Only conclusion 1 follows.

b. Only conclusion 3 follows.

c. Only conclusion 4 follows.

d. Only conclusion 2 follows.

e. Answer not known

அறிக்கைகள்

I. அனைத்து விசைப்பலகைகளும் மவுஸ் ஆகும்.

II. சில சுட்டி அச்சப்பொறியாகும்.

முடிவுகள்:

1. பிரிண்டர் என்பது விசைப்பலகை அல்ல.

2. சில அச்சப்பொறிகள் சுட்டி ஆகும்.

3. அனைத்து அச்சப்பொறிகளும் மவுஸ் ஆகும்.

4. விசைப்பலகைகள் எதுவும் அச்சப்பொறியாக இல்லை.

a. முடிவு I மட்டுமே பின்பற்றப்படுகிறது.

b. முடிவு III மட்டுமே பின்பற்றப்படுகிறது

c. முடிவு IV மட்டுமே பின்பற்றப்படுகிறது

d. முடிவு II மட்டுமே பின்பற்றப்படுகிறது

e. விடை தெரியவில்லை

191. A statement is given followed by four conclusions. Find out which conclusion is INCORRECT based on the given statement.

ஒரு அறிக்கையைத் தொடர்ந்து நான்கு முடிவுகள் கொடுக்கப்படுகின்றன. கொடுக்கப்பட்ட அறிக்கையின் அடிப்படையில் எந்த முடிவு தவறானது என்பதைக் கண்டறியவும்.

Statement:  $G \geq B > D > P < H = C$

கூற்று

Conclusions:

முடிவு

(1)  $P < C$  (2)  $G > P$  (3)  $D < C$  (4)  $B > P$

a. 4

b. 2

c. 1

d. 3

e. Answer not known

192. 'Dog' is related to 'Labrador' in the same way as 'Vegetable' is related to \_\_\_\_.

a. Capsicum

b. Pickle

c. Banana

d. Apple

e. Answer not known

'நாய்; லாப்ரடோர்' என்பதுடன் தொடர்புடையது அதுபோல 'காய்கறி' என்பது \_\_\_\_\_

உடன் தொடர்புடையது

a. குடைமிளகாய்

b. ஊறுகாய்

c. வாழை

d. ஆப்பிள்

e. விடை தெரியவில்லை

193. The sum of ages of a man and his son is 47 yrs. After 4 yrs, the age of man will four times the age of his son. Age of son is  
 a. 6 years                      b. 9 years                      c. 8 years  
 d. 7 years                      e. Answer not known

ஒரு நபர் மற்றும் அவருடைய மகன் வயதின் கூடுதல் 47 ஆகும். 4 ஆண்டுகளுக்கு பிறகு அந்த நபரை காட்டிலும் அவருடைய மகனின் வயது நான்கு மடங்கு எனில், மகனின் வயது யாது?

- a. 6 ஆண்டுகள்                      b. 9 ஆண்டுகள்                      c. 8 ஆண்டுகள்  
 d. 7 ஆண்டுகள்                      e. விடை தெரியவில்லை

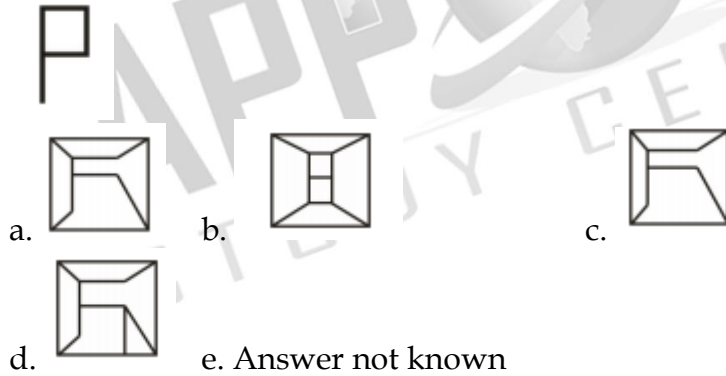
194. A wall-clock shows 3:40 time. What time is indicated reflection of the same clock on the opposite?

- a. 7:20                      b. 8:40                      c. 8:20  
 d. 7:40                      e. Answer not known

ஒரு சுவர்க் கடிகாரம் 3.40 மணியைக் காட்டுகிறது. எதிர்த்திசையில் அந்தக் கடிகாரத்தின் பிரதிபலிப்பு என்ன மணியைக் காட்டும்?

- a. 7:20                      b. 8:40                      c. 8:20  
 d. 7:40                      e. விடை தெரியவில்லை

195. Select the option in which the given figure is embedded. (Rotation is not allowed)  
 கொடுக்கப்பட்டுள்ள நான்கு படங்களில்முதல் படம் உள்ளதை தேர்ந்தெடு (சுழற்சிக்கு அனுமதி இல்லை)



196. How many such pairs of digits are there in the number 75938462, each of which has as many digits between them in the number as they have between them when arranged in ascending order?

- a. Two                      b. one                      c. More than three  
 d. Three                      e. Answer not known

75938462 என்ற எண்ணை ஏறுவரிசையில் வரிசைப்படுத்தும்போது அவற்றுகிடையே உள்ள எண்ணில் எத்தனை ஜோடி இலக்கங்கள் உள்ளன?

- a. இரண்டு                      b. ஒன்று                      c. மூன்றிற்கு மேல்  
 d. மூன்று                      e. விடை தெரியவில்லை

197. In a certain code language, 'CROWD' is coded as 23415924 and 'TRHICK' is coded as 162491997. How will 'FRUGAL' be coded in that language?

ஒரு குறிப்பிட்ட குறியீட்டு மொழியில், 'CROWD' 23415924 ஆகவும், 'TRHICK' 162491997 ஆகவும் குறியிடப்பட்டுள்ளது. அந்த மொழியில் 'FRUGAL' எவ்வாறு குறியிடப்படும்?

- a. 1226761821                      b. 1521012291                      c. 1512021921  
d. 1221021186                      e. Answer not known

198. Words given on the left side of (::) are related with each other by some Logic/Rule /Relation. Select the missing word/ word pair on the right side of (::) from the given alternatives based on the same Logic/Rule/Relation. Odometer : Distance Travelled by a Vehicle :: Barometer : ?

- a. Temperature                      b. Length                      c. Atmospheric pressure  
d. Distance                      e. Answer not known

(: :) - ன் இடது பக்கத்தின் கொடுக்கப்பட்ட சொற்கள் ஒரு தர்க்கம் / விதி / உறவின் அடிப்படையில் தொடர்புடையவை. அதே தர்க்கம் / விதி / உறவின் அடிப்படையில் கொடுக்கப்பட்ட மாற்றுகளிலிருந்து (: :) -ன் வலது பக்கத்தில் விடுபட்ட சொல் / சொல் இணையைக் காண்க.

ஓடோமீட்டர் : ஒரு வாகனம் பயணித்த தூரம் :: பாரோமீட்டர் : ?

- a. வெப்பநிலை                      b. நீளம்                      c. வளிமண்டல அழுத்தம்  
d. தூரம்                      e. விடை தெரியவில்லை

199. Statement : No leaves are green.

All fruits are greens.

Some sweets are fruits.

Conclusions : I. No leaves are fruits.

II. All sweets are greens.

III. Some leaves can be greens.

(a) Both conclusions I and II follow.

(b) Both conclusions I and III follow.

(c) Only conclusion III follows.

(d) Only conclusion I follows.

கூற்று: இலைகள் பச்சை நிறத்தில் இல்லை.

அனைத்து பழங்களும் பசுமையானவை. சில இனிப்புகள் பழங்கள்.

முடிவுகள்:

I. இலைகள் எதுவும் பழங்கள் அல்ல.

II. இனிப்புகள் அனைத்தும் பச்சை நிறத்தில் இருக்கும்.

III. சில இலைகள் பச்சை நிறமாக இருக்கலாம்

a. முடிவு I மற்றும் II பின்பற்றப்படுகிறது.

b. முடிவு I மற்றும் III பின்பற்றப்படுகிறது

c. முடிவு III பின்பற்றப்படுகிறது

d. முடிவு I மட்டும் பின்பற்றப்படுகிறது

e. விடை தெரியவில்லை

200. Arrange the following words as per order in the dictionary

ஆங்கில அகராதி படி வரிசைப்படுத்துக

1. Dovetail    2. Domestic    3. Dominate                      4. Donate    5. Dorsal

a. 2, 4, 3, 5, 1

b. 1, 3, 5, 4, 2

c. 2, 3, 4, 5, 1

d. 2, 3, 4, 1, 5

e. Answer not known



அறிவுக்கு ஏற்றது, மக்களுக்கு நன்மை பயப்பது,  
மக்களின் அறிவை வளர்ச்சியடையச் செய்வது எதுவோ  
அதைப் பற்றியே பேசு.

—தந்தை பெரியார்