



## TNPSC GROUP IIA MAIN 2024 – TEST BATCH

### TEST – IX – SOCIAL ISSUES, GENERAL ENGLISH, GENERAL INTELLIGENCE AND REASONING

1. Choose the correct statement about Domestic Violence Act – 2005
  1. The Act provides protection to women to 'live in violence free home'.
  2. Domestic relationship is defined under this act.
  3. It provides Right to secure housing for women.
  4. It enables a women to get immediate civil remedies within 30 days.

a. 1, 2, 3      b. 2, 3, 4      c. 1, 2, 4      d. 1, 2, 3, 4      e. Answer not known

குடும்ப வன்முறைச் சட்டம் - 2005 பற்றிய சரியான கூற்றுகளை தேர்க

  1. இந்தச் சட்டம் பெண்களுக்கு “வன்முறையற்ற வீட்டில் வாழ்வதற்கு” பாதுகாப்பு அளிக்கிறது.
  2. குடும்ப உறவு இந்த சட்டத்தின் கீழ் வரையறுக்கப்பட்டுள்ளது.
  3. இது பெண்களுக்கு பாதுகாப்பான வீட்டுவசதிக்கான உரிமையை வழங்குகிறது.
  4. இது ஒரு பெண் 30 நாட்களுக்குள் உடனடி சிவில் தீர்வுகளைப் பெற உதவுகிறது.

a. 1, 2, 3      b. 2, 3, 4      c. 1, 2, 4      d. 1, 2, 3, 4      e. விடை தெரியவில்லை
2. Choose the correct statement about POSH act – 2013
  - 1) POSH act enacted based on Vishaka guidelines in 1997 by Supreme Court.
  - 2) It prevents sexual harassment at schools and colleges.

a. 1 only      b. 2 only      c. Both 1 & 2 correct  
d. None of these      e. Answer not known

POSH சட்டம் - 2013 பற்றிய சரியான அறிக்கையைத் தேர்ந்தெடுக்கவும்.

  - 1) உச்ச நீதிமன்றத்தால் 1997 இல் விசாகா வழிகாட்டுதல்களின் அடிப்படையில் POSH சட்டம் இயற்றப்பட்டது.
  - 2) பள்ளிகள் மற்றும் கல்லூரிகளில் பாலியல் துன்புறுத்தல்களைத் தடுக்கிறது.

a. 1 மட்டும்      b. 2 மட்டும்      c. 1 & 2 இரண்டும் சரி  
d. இவற்றில் ஏதுமில்லை      e. விடை தெரியவில்லை
3. Choose the correct statement about the prohibition of child marriage act – 2006.
  1. Any male below the age of 21 and any female below the age of 18 years contracting marriage is an offence.
  2. District Social Welfare Officer as child marriage prohibition officer for effective implementation of this act.

a. 1 only      b. 2only      c. Both 1 & 2 are correct  
d. Both 1 & 2 are incorrect      e. Answer not known



7. "Mission Vatsalya" related with
- Girl Child Protection Services Scheme
  - Child Protection Services Scheme
  - Empower of Women Scheme
  - To provide the education among Child Labour
  - Answer not known

வாட்சல்யா திட்டம் எதனுடன் தொடர்புடையது?

- பெண் குழந்தை பாதுகாப்பு சேவைகள் திட்டம்
- குழந்தை பாதுகாப்பு சேவைகள் திட்டம்
- பெண்களுக்கு அதிகாரம் வழங்கும் திட்டம்
- குழந்தை தொழிலாளர்களிடையே கல்வியை வழங்குதல்
- விடை தெரியவில்லை

8. How many pairs are correctly matched

- International Girl Child Day - October 11
- National Girl Child Day - January 24
- State Girl Child Day - February 24
- Transgender Day in Tamilnadu - April 15

- One pair
- Two pair
- Three pair
- Four pair
- Answer not known

பின்வருவனவற்றில் எத்தனை இணைகள் சரியாக பொருந்துகின்றன?

- சர்வதேச பெண் குழந்தைகள் தினம் - அக்டோபர் 11
  - தேசிய பெண் குழந்தைகள் தினம் - ஜனவரி 24
  - மாநில பெண் குழந்தைகள் தினம் - பிப்ரவரி 24
  - தமிழகத்தில் திருநங்கைகள் தினம் - ஏப்ரல் 15
- ஒரு இணை
  - இரண்டு இணை
  - மூன்று இணை
  - நான்கு இணை
  - விடை தெரியவில்லை

9. Choose the correct statement about protection of children from sexual offences (POCSO) act - 2012.

- POCSO Act only applicable for girl child only
- POCSO Act defines childrens are under the age of 18.

- 1 only
- 2 only
- Both 1, 2 are correct
- Both 1, 2 are incorrect
- Answer not known

பாலியல் குற்றங்களிலிருந்து குழந்தைகளைப் பாதுகாக்கும் POSCO சட்டம் 2012 பற்றிய சரியான கூற்றுகளை தேர்க

- POCSO சட்டம் பெண் குழந்தைகளுக்கு மட்டுமே பொருந்தும்
- POCSO சட்டம் 18 வயதுக்குட்பட்ட குழந்தைகளை வரையறுக்கிறது.

- 1 மட்டும்
- 2 மட்டும்
- இரண்டும் சரி
- இரண்டும் தவறு

10. Choose the correct statement about Avvaiyar Award

- The Avvaiyar Award is given to one eminent woman who has rendered excellent service in any one field such as Social Reform, Women Development, Communal Harmony, Service for Language, etc.
- The Avvaiyar Award honoured on the International Womens day which is being celebrated on March 8<sup>th</sup> every year.
- The Avvaiyar Award for the year 2022-2023 was conferred on Dr. Tamil Chemmalpulavar R. Kamalam Chinnasamy of the Nilgiris District.

- 1, 2
- 1, 3
- 2, 3
- 1, 2, 3
- Answer not known

அவ்வையார் விருது பற்றிய சரியான கூற்றைத் தேர்ந்தெடுக்கவும்.

1. சமூக சீர்திருத்தம், மகளிர் மேம்பாடு, மத நல்லிணக்கம், மொழிக்கான சேவை, போன்ற ஏதேனும் ஒரு துறையில் சிறந்த சேவையாற்றிய ஒரு தலைசிறந்த பெண்ணுக்கு அவ்வையார் விருது வழங்கப்படுகிறது.
  2. ஒவ்வொரு ஆண்டும் மார்ச் 8 ஆம் தேதி கொண்டாடப்படும் சர்வதேச மகளிர் தினத்தன்று அவ்வையார் விருது வழங்கப்படுகிறது.
  3. 2022-2023 ஆம் ஆண்டிற்கான அவ்வையார் விருது நீலகிரி மாவட்டத்தைச் சேர்ந்த டாக்டர் தமிழ் செம்மல்புலவர் ஆர்.கமலம் சின்னசாமிக்கு வழங்கப்பட்டது.
- a. 1, 2      b. 1, 3      c. 2, 3      d. 1, 2, 3      e. விடை தெரியவில்லை

11. Which one is not an objective of Beti Bachao Beti Padhao (BBBP) scheme?

- a. To prevent gender based sex selective elimination.
- b. To ensure survival and protection of the girl child
- c. To ensure education and improve participation of the girl child.
- d. To ensure the creation of Sukanya Samriddhi account for every girl child.
- e. Answer not known

பெண்குழந்தையை காப்போம், பெண் குழந்தைகளுக்கு கற்பிப்போம் (Beti Bachao Beti Padhao BBBP) திட்டத்தின் நோக்கம் இல்லாதது எது?

- a. பாலின அடிப்படையிலான பாலினத் தேர்வு நீக்குதலைத் தடுக்க
- b. பெண் குழந்தையின் உயிர்வாழ்வையும் பாதுகாப்பையும் உறுதி செய்வதற்காக
- c. பெண் குழந்தைகளின் கல்வியை உறுதி செய்தல் மற்றும் அவர்களது பங்கேற்பை மேம்படுத்துதல்.
- d. ஒவ்வொரு பெண் குழந்தைக்கும் சுகன்யா சம்ரிதி கணக்கு உருவாக்கப்படுவதை உறுதி செய்தல்.
- e. விடை தெரியவில்லை

12. Choose the correct women helpline number

- a. 181      b. 1070      c. 1077      d. 1098      e. Answer not known

பின்வருவனவற்றில் பெண்களுக்கான அவசர உதவி எண் எது?

- a. 181      b. 1070      c. 1077      d. 1098      e. விடை தெரியவில்லை

13. Choose the incorrect statement about monthly pension scheme for Transgender in Tamilnadu.

1. Transgender monthly pension scheme has been enhanced from Rs. 1000 to Rs. 1500.

2. Applicable to the destitute transgenders above the age of 50 years.

- a. 1 only      b. 2 only      c. Both 1, 2 are correct  
d. Both 1, 2 are incorrect      e. Answer not known

தமிழ்நாட்டில் திருநங்கைகளுக்கான மாதாந்திர ஓய்வூதியத் திட்டம் பற்றிய தவறான கூற்றினைத் தேர்ந்தெடுக்கவும்

1. திருநங்கைகள் மாத ஓய்வூதியத் திட்டம் ரூ. 1000-ல் இருந்து ரூ. 1500 ஆக அதிகரிக்கப்பட்டுள்ளது.

2. 50 வயதுக்கு மேற்பட்ட ஆதரவற்ற திருநங்கைகளுக்குப் பொருந்தும்.

- a. 1 மட்டும்      b. 2 மட்டும்      c. 1, 2 இரண்டும் சரி  
d. 1, 2 இரண்டும் தவறானவை      e. விடை தெரியவில்லை

14. In which year, Integrated Child Protection Scheme (ICPS) introduced?

- a. 2005      b. 2009      c. 2012      d. 2015      e. Answer not known

ஒருங்கிணைந்த குழந்தைகள் பாதுகாப்புத் திட்டம் (ICPS) எந்த ஆண்டில் அறிமுகப்படுத்தப்பட்டது?

- a. 2005      b. 2009      c. 2012      d. 2015      e. விடை தெரியவில்லை

15. Which scheme related with "Education for All"?
- Samagara Siksha Abhiyan
  - NIPUN Bharat
  - Puthiya Bharatha Ezhutharivu Thittam
  - National Literacy Mission
  - Answer not known
- “அனைவருக்கும் கல்வி” தொடர்பான திட்டம் எது?
- சமக்ர சிக்ஷா அபியான்
  - நிபுன் பாரத்
  - புதிய பாரத எழுத்தறிவுத் திட்டம்
  - தேசிய எழுத்தறிவு இயக்கம்
  - விடை தெரியவில்லை
16. In which place, Sanitary workers welfare scheme started in Tamilnadu
- Chennai
  - Madurai
  - Salem
  - Theni
  - Answer not known
- தமிழ்நாட்டில் துப்புரவுத் தொழிலாளர்கள் நலத்திட்டம் எந்த இடத்தில் தொடங்கப்பட்டது?
- சென்னை
  - மதுரை
  - சேலம்
  - தேனி
  - விடை தெரியவில்லை
17. Choose the component of Swachh Bharat Mission (Urban) 2.0
- Construction of Household Toilets
  - Community and Public Toilets
  - Sustainable Sanitation
  - Wastewater Treatment
  - Solidwaste Management
- 1, 2, 3, 4, 5
  - 1, 3, 4, 5
  - 3, 4, 5
  - 2, 3, 5
  - Answer not known
- தூய்மை இந்தியா இயக்கம் (நகர்ப்புற) 2.0 இன் கூறுகளைத் தேர்ந்தெடுக்கவும்
- வீட்டு கழிப்பறைகள் கட்டுமானம்
  - சமூக மற்றும் பொது கழிப்பறைகள்
  - நிலையான சுகாதாரம்
  - கழிவுநீர் சுத்திகரிப்பு
  - திடக்கழிவு மேலாண்மை
- 1, 2, 3, 4, 5
  - 1, 3, 4, 5
  - 3, 4, 5
  - 2, 3, 5
  - விடை தெரியவில்லை
18. Choose the correct statement
- School Infrastructure facilities under Perunthalaivar Kamaraj School Development Scheme.
  - College Infrastructure facilities under Perasiriyar Anbazhagan College Development Scheme.
- 1 only
  - 2 only
  - Both 1, 2 are correct
  - None of the above
  - Answer not known
- பின்வருவனவற்றில் சரியான கூற்றைத் தேர்வ
- பெருந்தலைவர் காமராஜ் பள்ளி மேம்பாட்டுத் திட்டத்தின் கீழ் பள்ளி உள்கட்டமைப்பு வசதிகள்.
  - பேராசிரியர் அன்பழகன் கல்லூரி மேம்பாட்டுத் திட்டத்தின் கீழ் கல்லூரி உள்கட்டமைப்பு வசதிகள்.
- 1 மட்டும்
  - 2 மட்டும்
  - 1, 2 இரண்டும் சரி
  - எதுவும் இல்லை
  - விடை தெரியவில்லை

19. "MANAK Scheme" – related with  
 a. Science and Technology activities  
 b. Entrepreneurship promotion  
 c. Employment provision  
 d. Poverty alleviation  
 e. Answer not known  
 "மனக் திட்டம்" – பின்வரும் எவற்றோடு தொடர்புடையது  
 a. அறிவியல் மற்றும் தொழில்நுட்ப செயல்பாடுகள்  
 b. தொழில்முனைவோரை ஊக்குவித்தல்  
 c. வேலைவாய்ப்பு வழங்கல்  
 d. வறுமை ஒழிப்பு  
 e. விடை தெரியவில்லை
20. Choose the correct objectives of Chief-Minister Girl Child Protection scheme  
 1. To eradicate female infanticide  
 2. To promote family sex norm  
 3. To discourage the preference for – female child  
 4. To increase child sex ratio  
 a. 1, 2, 3  
 b. 1, 3, 4  
 c. 1, 2, 4  
 d. 1, 2, 3, 4  
 e. Answer not known  
 முதலமைச்சர் பெண் குழந்தை பாதுகாப்புத் திட்டத்தின் சரியான நோக்கங்களைத் தேர்க  
 1. பெண் சிசு கொலைகளை ஒழிப்பதற்காக  
 2. குடும்ப பாலியல் விதிமுறைகளை ஊக்குவித்தல்  
 3. பெண் குழந்தைகளுக்கு முன்னுரிமை அளிப்பதைத் தடுத்தல்  
 4. குழந்தை பாலின விகிதத்தை அதிகரிக்க  
 a. 1, 2, 3  
 b. 1, 3, 4  
 c. 1, 2, 4  
 d. 1, 2, 3, 4  
 e. விடை தெரியவில்லை
21. In which year, Kalvi Television was started in Tamilnadu?  
 a. 2018  
 b. 2019  
 c. 2020  
 d. 2021  
 e. Answer not known  
 கல்வி தொலைக்காட்சி தமிழ்நாட்டில் எந்த ஆண்டு தொடங்கப்பட்டது?  
 a. 2018  
 b. 2019  
 c. 2020  
 d. 2021  
 e. விடை தெரியவில்லை
22. National Commission for Transgender established in which year  
 a. 1985  
 b. 2006  
 c. 2019  
 d. 2022  
 e. Answer not known  
 திருநங்கைகளுக்கான தேசிய ஆணையம் எந்த ஆண்டு நிறுவப்பட்டது?  
 a. 1985  
 b. 2006  
 c. 2019  
 d. 2022  
 e. விடை தெரியவில்லை
23. Choose the correct statements about sex ratio.  
 i. Number of males per 1000 females.  
 ii. The sex ratio of Tamilnadu – 995 as per 2011 census.  
 iii. Tamilnadu stands third next only to Pondicherry Union territory and Kerala state in sex ratio as per 2011 census.  
 a. i only  
 b. ii only  
 c. i, ii and iii only  
 d. ii and iii  
 e. Answer not known  
 பின்வருவனவற்றில் பாலின விகிதம் பற்றிய சரியான கூற்றைத் தேர்க  
 i. பாலின விகிதம் 1000 பெண்களுக்கான ஆண்களின் எண்ணிக்கை  
 ii. 2011 மக்கள்தொகை கணக்கெடுப்பின்படி தமிழ்நாட்டின் பாலின விகிதம் - 995 ஆகும்.  
 iii. 2011 மக்கள்தொகை கணக்கெடுப்பின்படி பாலின விகிதத்தில் புதுச்சேரி, கேரளத்திற்கு அடுத்தபடியாக தமிழ்நாடு மூன்றாவது இடத்தில் உள்ளது.

- a. i மட்டும்                                      b. ii மட்டும்                                      c. i, ii மற்றும் iii  
d. ii மற்றும் iii                                      e. விடை தெரியவில்லை

24. Choose the correct statements about Infant Mortality rate.

- i. IMR is mortality before completing 1 year.  
ii. The IMR is 17 (per 1000) for Tamilnadu which is just half of national average of 34.

- a. i only                                      b. ii only                                      c. i, ii  
d. None of the above                                      e. Answer not known

குழந்தை இறப்பு விகிதம் பற்றிய கூற்றைத் தேர்க

- i. IMR என்பது ஒரு வருடத்திற்குள் இறக்கும் குழந்தைகளின் விகிதம்  
ii. 2016-ஆம் ஆண்டில் தமிழ்நாட்டின் குழந்தை இறப்பு விகிதம் 17, தேசிய சராசரி 34-இல் பாதி ஆகும்.

- a. i மட்டும்                                      b. ii மட்டும்                                      c. i, ii  
d. இவை எதுவுமில்லை                                      e. விடை தெரியவில்லை

25. Choose the correct statement about Tamilnadu Higher Education.

- i. In GER, under higher education, Tamilnadu continues to be at the top level.  
ii. The Tamilnadu GER is 46.9% which is far higher against national average and all other states.

- a. i only                                      b. i, ii only                                      c. ii only  
d. None of the above                                      e. Answer not known

தமிழ்நாடு உயர்கல்வியைப் பற்றி சரியான கூற்றைத் தேர்ந்தெடு:

- i. உயர்கல்விக்கான மொத்த சேர்க்கை விகிதத்தில் தமிழ்நாடு – முதலிடத்தில் உள்ளது.  
ii. தமிழ்நாட்டின் GER – 46.9% அனைத்து மாநிலங்களின் தேசிய சராசரியை விட அதிகமாகவுள்ளது

- a. i மட்டும்                                      b. i, ii மட்டும்                                      c. ii மட்டும்  
d. இவை எதுவுமில்லை                                      e. விடை தெரியவில்லை

26. Choose the correct statement about Tamilnadu Health.

- i. Tamilnadu has two-tier health infrastructure.  
ii. Comprised of hospitals and primary health centres.

- a. i only                                      b. ii only                                      c. i, ii only  
d. None of the above                                      e. Answer not known

தமிழ்நாடு – சுகாதாரம் பற்றிய சரியான கூற்றைத் தேர்க

- i. தமிழ்நாடு ஈடுக்கு சுகாதார அடிப்படைக் கட்டமைப்பைக் கொண்டுள்ளன.  
ii. அவை ஆரம்ப சுகாதார நிலையங்கள் மற்றும் மருத்துவ மனைகளை உள்ளடக்கியது

- a. i மட்டும்                                      b. ii மட்டும்                                      c. i, ii மட்டும்  
d. இவை எதுவுமில்லை

27. Choose the correct statement about population Growth in Tamil Nadu.

- i. Districts with lower population - Perambalur, The Nilgris, Ariyalur and Theni.  
ii. Minimum density districts - The Nilgris, Thiruchirappalli.  
iii. District with Higher sex ratio - The Nilgris, Thanjavur, Nagapattinam.

- a. i only                                      b. ii only                                      c. ii and iii only  
d. i, ii and iii                                      e. Answer not known

தமிழ்நாட்டின் மக்கள் தொகை வளர்ச்சியின் படி சரியான கூற்றைத் தேர்ந்தெடு:

- குறைவான மக்கள் தொகையுடைய மாவட்டங்கள் பெரம்பலூர், நீலகிரி, அரியலூர், தேனி.
- குறைவான அடர்த்தி உள்ள மாவட்டம் - நீலகிரி, திருச்சிராப்பள்ளி.
- அதிக பாலின விகிதம் கொண்ட மாவட்டங்கள் - நீலகிரி, தஞ்சாவூர், நாகப்பட்டினம்.

- i மட்டும்
- ii மட்டும்
- ii மற்றும் iii மட்டும்
- i, ii மற்றும் iii
- விடை தெரியவில்லை

28. Which of the following statements are true regarding 'Makkalai Thedi Maruthuvan' Scheme?

- It is inaugurated by honourable CM MK Stalin in Krishnagiri district.
- Targeted age group for beneficiaries in this scheme is 45 years (or) above.
- The scheme objective is to identify communicable disease and address it at an early stage.

- 1 and 2
- 1 and 3
- 2 and 3
- 1, 2 and 3
- Answer not known

‘மக்களைத்தேடி மருத்துவம்’ திட்டம் குறித்த பின்வரும் கூற்றுகளில் சரியானவை எவை?

- கிருஷ்ணகிரி மாவட்டத்தில் மாண்புமிகு முதல்வர் மு.க.ஸ்டாலின் அவர்களால் துவக்கி வைக்கப்பட்டது.
- இந்தத் திட்டத்தில் நிர்ணயிக்கப்பட்ட பயனாளிகளின் வயதின் இலக்கு 45 வயது (அல்லது) அதற்கு மேல்.
- இத்திட்டத்தின் நோக்கம் தொற்று நோயைக் கண்டறிந்து, அதற்கு ஆரம்ப கட்டத்திலேயே தீர்வு காண்பதாகும்.

- 1 மற்றும் 2
- 1 மற்றும் 3
- 2 மற்றும் 3
- 1, 2 மற்றும் 3
- விடை தெரியவில்லை

29. Consider the following statements.

- In Tamil Nadu, out of 7.2cr people, 4.13cr people are migrants.
- Percentage of migration in Tamil Nadu is 43%

Which of the above are correct?

- 1 is correct
- 2 is correct
- Both are correct
- Both are wrong
- Answer not known

பின்வரும் கூற்றுக்களை ஆய்க:

- தமிழ் நாட்டில் 7.2 கோடி மக்களில் 4.13 கோடி பேர் புலம்பெயர்ந்தோர் ஆவர்
- தமிழ்நாட்டில் புலம் பெயர்வு விகிதம் 43% ஆகும்.

மேற்கூறியவற்றுள் சரியானவை எவை?

- 1 சரி
- 2 சரி
- இரண்டும் சரி
- இரண்டும் தவறு
- விடை தெரியவில்லை

30. Consider the following statements.

- Of the total migrants, in Tamil Nadu, 75% migrated or moved abroad.
- Chennai has recorded maximum number of emigrants.

Which of above are not correct?

- 1 is correct
- 2 is correct
- Both are correct
- Both are wrong
- Answer not known

பின்வரும் கூற்றுக்களை ஆய்க

- தமிழ்நாட்டில் மொத்த புலம்பெயர்ந்தோரில் 75% பேர் வெளிநாடுகளுக்கு குடி பெயர்ந்துள்ளனர்
- சென்னையில் அதிகபட்ச புலம்பெயர்ந்தோர் எண்ணிக்கை பதிவாகியுள்ளது.

a. 1 சரி                      b. 2 சரி                      c. இரண்டும் சரி  
d. இரண்டும் தவறு                      e. விடை தெரியவில்லை

- 9 | Page

”எண்ணும் எழுத்தும் இயக்கம்” பற்றிய சரியான அறிக்கையைத் தேர்ந்தெடுக்கவும்.

1. அடிப்படை எழுத்தறிவு மற்றும் எண் கணிதத் திறனை மேம்படுத்துதல்
  2. இத்திட்டம் 1 முதல் 8 ஆம் வகுப்பு வரை படிக்கும் குழந்தைகளை இலக்காகக் கொண்டது
  3. இது ஒவ்வொரு குழந்தையும் வாசித்தல், எழுதுதல் மற்றும் அடிப்படை கணிதம் ஆகிய அடிப்படை திறன்களைப் பெறுவதை உறுதி செய்வதை நோக்கமாக கொண்டுள்ளது
- a. 1, 2                      b. 2, 3                      c. 1, 3                      d. 1, 2, 3                      e. விடை தெரியவில்லை

35. Choose the correct statement about Tamilnadu Health System Reform Programme

- 1) For this project, USD 287 million is funded by World Bank
  - 2) To improve quality of care
  - 3) Strengthen management of communicable and non-communicable diseases and injuries.
  - 4) Reduce inequalities in reproductive and child health services in Tamilnadu.
- a. 1, 2, 3                      b. 2, 3, 4                      c. 1, 2, 4  
d. 1, 2, 3, 4                      e. Answer not known

தமிழ்நாடு சுகாதார அமைப்பு சீர்திருத்த திட்டம் பற்றிய சரியான கூற்றைத் தேர்ந்தெடுக்கவும்

1. இந்தத் திட்டத்திற்கு 287 மில்லியன் அமெரிக்க டாலர்கள் உலக வங்கியால் நிதியளிக்கப்படுகிறது
  2. பராமரிப்பின் தரத்தை மேம்படுத்துதல்
  3. தொற்றும் மற்றும் தொற்றா நோய்கள் மற்றும் காயங்களின் மேலாண்மையை வலுப்படுத்துதல்
  4. தமிழ்நாட்டில் இனப்பெருக்க மற்றும் குழந்தை சுகாதார சேவைகளில் உள்ள ஏற்றத்தாழ்வுகளைக் குறைத்தல்.
- a. 1, 2, 3                      b. 2, 3, 4                      c. 1, 2, 4  
d. 1, 2, 3, 4                      e. விடை தெரியவில்லை

36. Choose the correct statement about Dr. Muthulakshmi Reddy Maternity Benefit Scheme (MRMBS)

- 1) MRMBS introduced in the year 1989
  - 2) An amount of Rs. 18000 is given to each eligible pregnant women in installments.
  - 3) Providing assistance to poor pregnant women/mothers to meet expenses on nutritious diet.
- a. 1, 2, 3                      b. 1, 3                      c. 2, 3                      d. 1, 2                      e. Answer not known

டாக்டர் முத்துலட்சுமி ரெட்டி மகப்பேறு நன்மை திட்டம் (MRMBS) பற்றிய சரியான கூற்றைத் தேர்ந்தெடுக்கவும்

1. MRMBS திட்டம் 1989 ஆம் ஆண்டில் அறிமுகப்படுத்தப்பட்டது எம்.ஆர்.எம்.பி.எஸ் திட்டம்.
  2. ஒவ்வொரு கர்ப்பிணிப் பெண்ணுக்கும் தகுதியின் அடிப்படையில் 18000 ரூபாய் தவணை முறையில் வழங்கப்படுகிறது.
  3. ஏழை கர்ப்பிணிப் பெண்கள்/தாய்மார்களுக்கு ஊட்டச்சத்து நிறைந்த உணவுக்கான செலவுகளை ஈடுசெய்ய உதவுதல்.
- a. 1, 2, 3                      b. 1, 3                      c. 2, 3                      d. 1, 2                      e. விடை தெரியவில்லை

37. Choose the correct statement about "Illam Thedi Kalvi"
- 1) Education at doorstep is the single largest post-pandemic educational outreach programme in the country.
  - 2) It bridging the learning gaps among students from classes 1 to 3
  - 3) A three-tier structure has been set up at the State, District & School levels to steer this initiative.
- a. 1, 2      b. 2, 3      c. 1, 3      d. 1, 2, 3      e. Answer not known
- “இல்லம் தேடி கல்வி” பற்றிய சரியான கூற்றைத் தேர்ந்தெடுக்கவும்
1. நாட்டிலேயே மிகப் பெரிய தொற்றுநோய்க்குப் பிந்தைய கல்வி மேம்பாட்டுத் திட்டமாகும்.
  2. இது 1 முதல் 3 ஆம் வகுப்பு வரையிலான மாணவர்களிடையே கற்றல் இடைவெளிகளைக் குறைக்கிறது
  3. இந்த முயற்சியை வழிநடத்த மாநிலம், மாவட்டம் மற்றும் பள்ளி அளவில் மூன்றடுக்கு அமைப்பு அமைக்கப்பட்டுள்ளது
- a. 1, 2      b. 2, 3      c. 1, 3      d. 1, 2, 3      e. விடை தெரியவில்லை
38. Which of the followings are themes of Tamilnadu Health System Project (TNHSP)
- 1) Child Health
  - 2) Health System Performance
  - 3) Population and reproductive health
  - 4) Communicable and non-communicable diseases
- a. 1, 2, 4      b. 1, 2, 3      c. 1, 3, 4      d. 2, 3, 4      e. Answer not known
- பின்வருவனவற்றுள் எது தமிழ்நாடு சுகாதார அமைப்பு திட்டத்தின் (TNHSP) கருப்பொருள்கள்?
- 1) குழந்தை சுகாதாரம்
  - 2) சுகாதார அமைப்பு செயல்திறன்
  - 3) மக்கள் தொகை மற்றும் இனப்பெருக்க சுகாதாரம்
  - 4) தொற்று மற்றும் தொற்றா நோய்கள்
- a. 1, 2, 4      b. 1, 2, 3      c. 1, 3, 4      d. 2, 3, 4      e. விடை தெரியவில்லை
39. "Vidiyal" application – related with
- a. To provide better governance
  - b. To empower the marginalised section
  - c. For organ transplantation
  - d. To reduce corruption among politician
  - e. Answer not known
- “விடியல்” விண்ணப்பம்” – என்பது பின்வரும் எவற்றோடு தொடர்புடையது?
- a. சிறந்த நிர்வாகத்தை வழங்குதல்
  - b. ஒதுக்கப்பட்ட பிரிவினருக்கு அதிகாரம் அளித்தல்
  - c. உறுப்பு மாற்று அறுவை சிகிச்சை
  - d. அரசியல்வாதிகளிடையே ஊழலைக் குறைக்க
  - e. விடை தெரியவில்லை
40. Which committee appointed by Tamilnadu government to frame the State Educational Policy?
- a. Kulasekaran Committee
  - b. Murugasen Committee
  - c. Kalaiarasan Committee
  - d. Arumugasamy Committee
  - e. Answer not known
- மாநிலக் கல்விக் கொள்கையை உருவாக்க தமிழக அரசால் நியமிக்கப்பட்ட குழு எது?
- a. குலசேகரன் குழு
  - b. முருகேசன் குழு
  - c. கலையரசன் குழு
  - d. ஆறுமுகசாமி குழு
  - e. விடை தெரியவில்லை

41. Choose the parameters of Gender inequality index

- 1) Reproductive health
- 2) Empowerment
- 3) Labour Market
- 4) Education
- 5) Standard of living

a. 1, 2, 4, 5

b. 2, 3, 4, 5

c. 1, 2, 3

d. 1, 2, 3, 5

e. Answer not known

பாலின சமத்துவமின்மை குறியீட்டின் அளவுருக்களைத் தேர்ந்தெடுக்கவும்

- 1) இனப்பெருக்க சுகாதாரம்
- 2) அதிகாரமளித்தல்
- 3) தொழிலாளர் சந்தை
- 4) கல்வி
- 5) வாழ்க்கைத் தரம்

a. 1, 2, 4, 5

b. 2, 3, 4, 5

c. 1, 2, 3

d. 1, 2, 3, 5

e. விடை தெரியவில்லை

42. Which agency or organisation releasing the Gender Inequality Index?

- a. United Nation Organisation (UNO)
- b. United Nation Development Program (UNDP)
- c. World Economic Forum (WEF)
- d. Oxford Poverty Human Development Initiative (OPHDI)
- e. Answer not known

பாலின சமத்துவமின்மை குறியீட்டை வெளியிடும் நிறுவனம் அல்லது அமைப்பு எது?

- a. ஐக்கிய நாடுகள் அமைப்பு (UNO)
- b. ஐக்கிய நாடுகள் மேம்பாட்டுத் திட்டம் (UNDP)
- c. உலக பொருளாதார மன்றம் (WEF)
- d. ஆக்ஸ்போர்டு வறுமை மனிதவள மேம்பாட்டு முன்முயற்சி (OPHDI)
- e. விடை தெரியவில்லை

43. Education is

- a. Consumption good
- d. Both

b. Investment good

c. None

e. Answer not known

கல்வி என்பது ஒரு

- a. பயன்பாட்டு பொருள்
- d. இரண்டும்

b. முதலீட்டுப்பொருள்

c. எதுவுமில்லை

e. விடை தெரியவில்லை

44. Expenditures on health are important in building and maintaining a

- a. Strong Nation
- b. Better life Expectancy
- c. Productive Labour Force
- d. Best Family Plan
- e. Answer not known

சுகாதார செலவுகள் பின்வரும் எதை உருவாக்குவதிலும் பராமரிப்பதிலும் முக்கியமானவை?

- a. வலுவான தேசம்
- b. சிறந்த ஆயுட்காலம்
- c. உற்பத்தி திறன் மிக்க தொழிலாளர் படை
- d. சிறந்த குடும்பத்திட்டம்
- e. விடை தெரியவில்லை

45. Which of the following statements are true about self-helping groups?

1. Most SHGs are women's group with 10 to 20 members
  2. The SHG promotes small savings
  3. SHGs are not self-managed
- a. 1 only                      b. 1 and 2 only                      c. 1 and 3 only  
d. 2 and 3 only                      e. Answer not known

சுய உதவிக் குழுக்கள் என்ற தலைப்பில் சரியான வாக்கியங்கள் எவை?

1. பெரும்பாலான சுய உதவிக்குழுக்கள் 10 முதல் 20 பெண் உறுப்பினர்களை கொண்டுள்ளது.
  2. சுய உதவிக்குழுக்கள் சிறு சேமிப்பை அதிகரிக்கிறது.
  3. சுய உதவிக்குழுக்கள் தங்களை தாங்களே நிர்வகித்து கொள்ள முடியாது
- a. 1 மட்டும்                      b. 1 மற்றும் 2 மட்டும்                      c. 1 மற்றும் 3 மட்டும்  
d. 2 மற்றும் 3 மட்டும்                      e. விடை தெரியவில்லை

46. A high birth rate of population along with a declining death rate in a thickly populated country like India leads to

- a. Balanced population growth in the long run
- b. An increase in the economically active population
- c. Rapid economic development
- d. An increase in the dependency load
- e. Answer not known

அதிக பிறப்பு விகிதம் மற்றும் குறைந்து செல்லும் இறப்பு வீதம் எனும் நிலை, இந்தியா போன்ற மக்கள் தொகை அதிகமாக உள்ள நாடுகளில் உருவாக்கும் விளைவு எவ்வாறு இருக்கும்?

- a. நீண்டகாலத்தில் சமநிலையுடைய மக்கள்தொகை வளர்ச்சி
- b. பொருளாதார ரீதியாக செயல்படும் மக்கள் தொகையில் அதிகரிப்பு
- c. தீவிர பொருளாதார முன்னேற்றம்
- d. சார்ந்திருக்கும் மக்கள் விகிதம் அதிகமாகும்
- e. விடை தெரியவில்லை

47. The following statements are true about National Population Policy 2000?

1. The immediate objective of the policy was to meet the needs of health infrastructure and health personnel.
  2. The medium-term objective was to lower down fertility rate to the replacement level by 2010
  3. The long-term objective is to achieve stable population by 2050
- a. 1 and 3 are correct                      b. 2 and 3 are correct                      c. 1 and 2 are correct  
d. 1, 2 and 3 are correct                      e. Answer not known

தேசிய மக்கள் தொகைக் கொள்கை 2000 இல் பின்வருவனவற்றில் எது உண்மை?

1. கொள்கையின் உடனடி நோக்கம் என்பது சுகாதார உள்கட்டமைப்பு மற்றும் சுகாதார பணியாளர்களின் தேவைகளை பூர்த்தி செய்வதாகும்.
  2. நடுத்தர கால நோக்கம் - 2010 ஆம் ஆண்டிற்குள் கருவுறுதல் விகிதத்தை மாற்றுநிலைக்கு குறைப்பதாகும்
  3. நீண்ட கால நோக்கம் என்பது 2050 க்குள் நிலையான மக்கள் தொகையை அடைவதாகும்
- a. 1 மற்றும் 3 சரி                      b. 2 மற்றும் 3 சரி                      c. 1 மற்றும் 2 சரி  
d. 1, 2 மற்றும் 3 சரி                      e. விடை தெரியவில்லை

48. What are the dimensions introduced in Multi-Dimensional Poverty Index, a concept introduced by Human Development Report, 2010?

- a. Gender Equality, Living standards and Employment
- b. Health, Education and Living standards
- c. Longevity, Knowledge and Decent standard of living
- d. Safe water, Sanitation and Education
- e. Answer not known

மனித வளர்ச்சி அறிக்கை, 2010ல், பல பரிமாண வறுமைக் குறியீட்டில் அறிமுகப்படுத்தப்பட்ட பரிமாணங்கள் யாவை?

- a. பாலின சமத்துவம், வாழ்க்கைத் தரம் மற்றும் வேலைவாய்ப்பு
- b. ஆரோக்கியம், கல்வி மற்றும் வாழ்க்கைத் தரம்
- c. நீண்ட ஆயுள், அறிவு மற்றும் ஒழுக்கமான வாழ்க்கைத் தரம்
- d. பாதுகாப்பான நீர், சுகாதாரம் மற்றும் கல்வி
- e. விடை தெரியவில்லை

49. Match:

- |                                 |         |
|---------------------------------|---------|
| A. Year of Great Divide         | 1. 2011 |
| B. Year of Small Divide         | 2. 1961 |
| C. Year of Population Explosion | 3. 1951 |
| D. Demographic transition       | 4. 1921 |

- |    |   |   |   |   |
|----|---|---|---|---|
|    | A | B | C | D |
| a. | 4 | 2 | 3 | 1 |
| b. | 4 | 3 | 1 | 2 |
| c. | 2 | 3 | 1 | 4 |
| d. | 4 | 3 | 2 | 1 |

e. Answer not known

- |                               |         |
|-------------------------------|---------|
| a. பெரும் பிரிவினை ஆண்டு      | 1. 2011 |
| b. சிறு பிரிவினை ஆண்டு        | 2. 1961 |
| c. மக்கள் தொகை வெடிப்பு ஆண்டு | 3. 1951 |
| d. மக்கள் தொகை மாற்றம்        | 4. 1921 |

- |    |   |   |   |   |
|----|---|---|---|---|
|    | A | B | C | D |
| a. | 4 | 2 | 3 | 1 |
| b. | 4 | 3 | 1 | 2 |
| c. | 2 | 3 | 1 | 4 |
| d. | 4 | 3 | 2 | 1 |

e. விடை தெரியவில்லை

50. The Rural women at large scale are able to engage in small – scale entrepreneurship due to

- |                            |   |
|----------------------------|---|
| a. Individual Bank Account | b. Agriculture and livestock management |
| c. Self – Help Groups      | d. NABARD facility                      |
| e. Answer not known        |   |

\_\_\_\_\_ ஆல் கிராமப்புற பெண்கள் பெரிய அளவில் சிறு தொழில் முனைவோர்களாக ஈடுபட முடிகிறது.

- |                           |                                      |
|---------------------------|--------------------------------------|
| a. தனிப்பட்ட வங்கி கணக்கு | b. விவசாயம் மற்றும் கால்நடை மேலாண்மை |
| c. சுய உதவி குழுக்கள்     | d. NABARD வசதி                       |
| e. விடை தெரியவில்லை       |                                      |

51. C. Rangarajan Committee has fixed the poverty line as

- a. Rs. 25 for rural and Rs. 50 for urban per day
- b. Rs. 30 for rural and Rs. 60 for urban per day
- c. Rs.32 for rural and Rs. 47 for urban per day
- d. None
- e. Answer not known

பின்வருவனவற்றில் C. ரெங்கராஜன் குழுவானது இந்தியாவின் வறுமைக் கோட்டுக்கான அளவீட்டை எவ்வாறு கொடுத்துள்ளது?

- a. ரூ.25 கிராமம் ரூ.50 நகர்ப்புரம்
- b. ரூ. 30 கிராமம் ரூ. 60 நகர்ப்புரம்
- c. ரூ. 32 கிராமம் ரூ. 47 நகர்ப்புரம்
- d. எதுவும் இல்லை
- e. விடை தெரியவில்லை

52. Urban poverty poses problems of

- i. Housing and shelter only
- ii. Water and sanitation only
- iii. Health and Education only
- iv. Social security only

- a. i and ii are right
- b. ii and iii are right
- c. iii and iv are right
- d. i, ii, iii and iv are right
- e. Answer not known

பின்வருவனவற்றில் நகர்ப்புற வறுமை ஏற்படுத்தும் பிரச்சனைகள் யாவை?

- i. வீடு மற்றும் தங்குமிடம்
- ii. தண்ணீர் மற்றும் சுகாதாரம்
- iii. சுகாதாரம் மற்றும் கல்வி
- iv. சமூக பாதுகாப்பு மட்டும்
- a. i மற்றும் ii சரி
- b. ii மற்றும் iii
- c. iii மற்றும் iv சரி
- d. i, ii, iii, மற்றும் iv சரி
- e. விடை தெரியவில்லை

53. The Human Development Index (HDI) does not take into account the following dimension in its calculation.

- a. Gender Ratio
- b. Health Level
- c. Education Level
- d. Income Level
- e. Answer not known

மனிதவள மேம்பாட்டு குறியீடு (HDI) கணக்கில் பின்வரும் எந்தப்பரிமாணத்தை எடுத்துக் கொள்ளவில்லை?

- a. பாலின விகிதம்
- b. சுகாதார நிலை
- c. கல்வி நிலை
- d. வருமான நிலை
- e. விடை தெரியவில்லை

54. Match the following

Programmes	Year
A. National Rural Health Mission	1. 1992
B. National AIDS Control Programme	2. 2019
C. The National Medical Commission Act	3. 1939
D. Tamil Nadu Public Health Act	4. 2005



58. The statutory body which is constituted to deal with the cases related to crime against women is  
 a. State Resource Centre for Women  
 b. State Commission for Women  
 c. One Stop Crisis Centre  
 d. Makila Sakthi Kendra  
 e. Answer not known  
 பெண்களுக்கெதிரான குற்றம் தொடர்பான வழக்குகளை விசாரிக்க நிறுவப்பட்ட சட்ட ரீதியான அமைப்பு \_\_\_\_\_ ஆகும்.  
 a. மாநில பெண்கள் வள மையம்  
 b. மாநில மகளிர் ஆணையம்  
 c. ஒரு நிறுத்த நெருக்கடி உதவி மையம்  
 d. மகிளா சக்தி கேந்திரா  
 e. விடை தெரியவில்லை
59. The Maintenance and welfare of parents and senior citizens Act 2007, is being implemented in the state with effect from  
 a. 26.09.2007  
 b. 29.09.2007  
 c. 29.09.2008  
 d. 29.09.2009  
 e. Answer not known  
 பெற்றோர்கள் மற்றும் மூத்த குடிமக்களுக்கான பராமரிப்பு நலச்சட்டம் 2007 மாநிலத்தில் செயல்படுத்தப்பட்டு, நடைமுறைக்கு வந்த நாள்  
 a. 26.09.2007  
 b. 29.09.2007  
 c. 29.09.2008  
 d. 29.09.2009  
 e. விடை தெரியவில்லை
60. National Tobacco Control Programme is implemented in Tamilnadu, since  
 a. 2005  
 b. 2006  
 c. 2007  
 d. 2008  
 e. Answer not known  
 'தேசியப் புகையிலைக் கட்டுப்பாடு' திட்டம், தமிழகத்தில் எந்த ஆண்டு முதல் செயல்படுத்தப்பட்டு வருகிறது?  
 a. 2005  
 b. 2006  
 c. 2007  
 d. 2008  
 e. விடை தெரியவில்லை
61. The Government of Tamil Nadu is committed in empowering the differently - abled persons for the reservation is employment by \_\_\_\_%.  
 a. 1  
 b. 2  
 c. 3  
 d. 4  
 e. Answer not known  
 மாற்றுத் திறனாளிகளுக்கான வேலைவாய்ப்பு ஒதுக்கீட்டில் தமிழக அரசு \_\_\_\_\_ சதவீதம் அளித்து உறுதி செய்துள்ளது.  
 a. 1  
 b. 2  
 c. 3  
 d. 4  
 e. விடை தெரியவில்லை
62. Innuyir Kaapoom - Nammai Kaakkum 48 scheme was launched in Tamil Nadu with the aim of  
 a. Reducing death due to cancer  
 b. Reducing death due to road accidents  
 c. Reducing death due to corona  
 d. Reducing death due to mal nutrition  
 e. Answer not known  
 தமிழ்நாட்டில் 'இன்னுயிர் காப்போம் நம்மைக் காக்கும் 48' திட்டத்தின் நோக்கம்  
 a. புற்றுநோய் மூலம் ஏற்படும் இறப்பைக் குறைத்தல்  
 b. சாலை விபத்தின் மூலம் ஏற்படும் இறப்பைக் குறைத்தல்  
 c. கொரோனா மூலம் ஏற்படும் இறப்பைக் குறைத்தல்  
 d. ஊட்டச் சத்து குறைபாடு மூலம் ஏற்படும் இறப்பைக் குறைத்தல்  
 e. விடை தெரியவில்லை

63. Makkalai thedi Maruthuvam (Health care services at people's doorsteps) was first launched in which district of Tamil Nadu?  
 a. Dharmapuri b. Madurai c. Krishnagiri  
 d. Theni e. Answer not known  
 மக்களைத் தேடி மருத்துவம் முதலில் தமிழ்நாட்டில் எந்த மாவட்டத்தில் தொடங்கப்பட்டது?  
 a. தர்மபுரி b. மதுரை c. கிருஷ்ணகிரி  
 d. தேனி e. விடை தெரியவில்லை
64. The Cradle Baby Scheme was launched in \_\_\_\_\_, by the Government of Tamil Nadu.  
 a. 1991 b. 1992 c. 1993 d. 1994 e. Answer not known  
 தமிழக அரசால், 'தொட்டில் குழந்தைத் திட்டம்', \_\_\_\_\_ ஆம் ஆண்டு தொடங்கப்பட்டது.  
 a. 1991 b. 1992 c. 1993 d. 1994 e. விடை தெரியவில்லை
65. Annai Therasa Ninaivu Marriage Assistance scheme deals with  
 a. Poor Widows b. Minority c. Single Mothers  
 d. Orphan Women's Marriage e. Answer not known  
 பின்வருவனவற்றுள் அன்னை தெரசா நினைவுத் திருமண உதவித் திட்டம் பின்வரும் எதனை அடிப்படையாகக் கொண்டது?  
 a. ஏழை விதவைகள் b. சிறுபான்மையோர்  
 c. ஒற்றை தாய்மார்கள் d. அனாதைப் பெண்களின் திருமணம்  
 e. விடை தெரியவில்லை
66. Which of the statement is/are true with regard to Tamil Nadu Slum Clearance Board?  
 i. Tamil Nadu Slum Clearance Board set up to improve the lives of the poor.  
 ii. It is now known as Tamil Nadu Urban Habitat Development Board.  
 iii. It provides housing for all in Urban areas.  
 a. (i) only b. (ii) only c. (i) and (ii) only  
 d. (ii) and (iii) only e. Answer not known  
 தமிழ்நாடு குடிசைப்பகுதி மாற்று வாரியம் தொடர்பாக பின்வரும் கூற்றுகளில் எது / எவை சரியானவை?  
 i. ஏழைகளின் வாழ்க்கையை மேம்படுத்த தமிழ்நாடு குடிசைப்பகுதி மாற்று வாரியம் அமைக்கப்பட்டது.  
 ii. இது தற்போது தமிழ்நாடு நகர்புற வாழ்விட மேம்பாட்டு வாரியம் என்று அழைக்கப்படுகிறது.  
 iii. நகர்புறங்களில் அனைவருக்கும் வீடு வழங்குகிறது.  
 a. (i) மட்டும் b. (ii) மட்டும் c. (i) மற்றும் (ii) மட்டும்  
 d. (ii) மற்றும் (iii) மட்டும் e. விடை தெரியவில்லை
67. \_\_\_\_\_ scheme for prevention of trafficking and Rescue, Rehabilitation and Reintegration of victims of trafficking and commercial sexual exploitation.  
 a. Vatsalya b. One stop centre c. Ujjawala  
 d. Kishori Shakti Yojana e. Answer not known  
 குழந்தைகளையும் பெண்களையும் கடத்துவதைத் தடுத்தல், கடத்தப்பட்டவர்களை மீட்டெடுத்தல், கடத்தப்பட்டுப் பாலியல் தொழில் ஈடுபடுத்தப்பட்ட பெண்களுக்குப் புனர்வாழ்வு கொடுத்தல், மீண்டும் சமுதாயத்தோடு வாழ்வதற்கான சூழலை உருவாக்குதல் ஆகியவற்றைச் செயல்படுத்துவதற்காக உருவாக்கப்பட்ட திட்டம் எது?

68. E.V. R. Maniammaiyyar Ninaivu Marriage Assistance Scheme is implemented to help,
- |                      |                               |
|----------------------|-------------------------------|
| a. Orphan girls      | b. Intercaste married couples |
| c. Widows to remarry | d. Daughters of poor widows   |
| e. Answer not known  |                               |

a. தாய், தந்தையற்ற பெண்கள்  
b. கலப்பு திருமண தம்பதிகள்  
c. விதவை மறுபணம் புரிவதற்கு  
d. ஏழை விதவைப் பெண்களின் மகள்களுக்கு  
e. விடை தெரியவில்லை

70. Assertion [A]: 1956, Midday Meal programme was introduced in schools.  
Reason [R]: To avoid drop-outs in schools.
- a. [A] is True but [R] is false
  - b. Both [A] and [R] are true; and [R] is the correct explanation of [A]
  - c. [A] is false [R] is true
  - d. Both [A] and [R] are true but [R] is not the correct explanation of [A]
  - e. Answer not known
- கூற்று (A): 1956ம் ஆண்டு பள்ளிகளில் மதிய உணவுத் திட்டம் அறிமுகப்படுத்தப்பட்டது.  
காரணம் (R): பள்ளிகளில் இடைநிற்றலைத் தவிர்க்க.
- a. (A) சரி (R) தவறு
  - b. (A) மற்றும் (R) சரி (R) என்பது, (A) விற்கான சரியான விளக்கமாகும்
  - c. (A) தவறு (R) சரி
  - d. (A), (R) சரி, (R) என்பது (A) விற்கான சரியான விளக்கம் இல்லை
  - e. விடை தெரியவில்லை

- 044-24339436, 42867555, 9840226187**

72. Consider the following
- Government of India proposed a special scheme named 'Sakhi' which is a one stop cure centre.
  - Objective is to provide assistance to women affected by violence.
- Which of the above statement is / are true?
- I only
  - II only
  - I and II
  - None of the above
  - Answer not known
- பின்வருவனவற்றை ஆய்க
- இந்திய அரசால் முன்மொழியப்பட்டுள்ள சிறப்பு திட்டமான 'சகி' என்பது ஒரே இட நெருக்கடி நிவாரண உதவி மையமாகும்
  - இதன் நோக்கமானது வன்முறையால் பாதிக்கப்பட்ட பெண்களுக்கு உதவி அளித்தல் ஆகும்.
- மேற்கண்டவற்றுள் எந்த கூற்று(கள்) சரி?
- I மட்டும்
  - II மட்டும்
  - I மற்றும் II
  - மேற்கண்ட எதுவுமில்லை
  - விடை தெரியவில்லை
73. The free supply of sewing machine scheme in Tamilnadu is implemented in the name of \_\_\_\_\_ Ammaiyar.
- Sathiyavanimuthu
  - Dharmambal
  - Moovalur Ramamirtham
  - Muthulakshmi Reddy
  - Answer not known
- தமிழகத்தில், இலவசமாகத் தையல் இயந்திரம் வழங்கும் திட்டம், \_\_\_\_\_ அம்மையார் பெயரில் வழங்கப்பட்டு வருகிறது.
- சத்தியவாணிமுத்து
  - தர்மம்பாள்
  - மூவலூர் ராமாமிர்தம்
  - முத்துலட்சுமி ரெட்டி
  - விடை தெரியவில்லை
74. Arrange the schemes chronologically:
- Cradle Baby scheme
  - Tamil Nadu Mid-day meal programme
  - Muthu Lakshmi (Reddy) Maternity Benefit scheme
  - Tamil Nadu Integrated Nutrition Programme
- 2, 4, 3, 1
  - 4, 2, 3, 1
  - 3, 4, 2, 1
  - 3, 4, 1, 2
  - Answer not known
- திட்டங்களைக் காலவரிசைப்படி அமைக்க.
- தொட்டில் குழந்தைத் திட்டம்
  - தமிழ்நாடு மதிய உணவுத் திட்டம்
  - முத்துலட்சுமி (ரெட்டி) மகப்பேறுத் திட்டம்
  - தமிழ்நாடு ஒருங்கிணைந்த ஊட்டச்சத்துத் திட்டம்
- 2, 4, 3, 1
  - 4, 2, 3, 1
  - 3, 4, 2, 1
  - 3, 4, 1, 2
  - விடை தெரியவில்லை
75. 'Dual Report system' denotes
- The Registration of Births and Deaths
  - Village survey
  - The sample Surveys
  - Vital Statistics
- i only
  - i and ii only
  - i and iii only
  - ii and iv only
  - Answer not known

இரட்டை அறிக்கை அமைப்பு பின்வருவனவற்றில் எதனைக் குறிக்கிறது?

i. பிறப்பு மற்றும் இறப்பு பதிவு

ii. கிராம ஆய்வு

iii. மாதிரி ஆய்வு

iv. முக்கிய புள்ளி விவரங்கள்

a. i மட்டும்

b. i மற்றும் ii மட்டும்

c. i மற்றும் iii மட்டும்

d. ii மற்றும் iv மட்டும்

e. விடை தெரியவில்லை

76. The DANIDA – TNAHCP initiative of Tamil Nadu is related to which among the following sectors.

a. Health

b. Infrastructure

c. Industry

c. Education

e. Answer not known

தமிழ்நாட்டின் DANIDA – TNAHCP முன்முயற்சிகள் பின்வரும் துறைகளில் எதனுடன் தொடர்புடையது?

a. சுகாதாரம்

b. உள்கட்டமைப்புத்துறை

c. தொழில் துறை

d. கல்வித்துறை

e. விடை தெரியவில்லை

77. Expansion for TNUHP

a. Tamil Nadu Urban Health Care Project

b. Tamil Nadu Urban Health Programme

c. Tamil Nadu Under Health Programme

d. Tamil Nadu Urban Health Proposal

e. Answer not known

TNUHP விரிவாக்கம்

a. Tamil Nadu Urban Health Care Project

b. Tamil Nadu Urban Health Programme

c. Tamil Nadu Under Health Programme

d. Tamil Nadu Urban Health Proposal

e. விடை தெரியவில்லை

78. Choose the right answer:

Total fertility rate measures

a. The number of live births occurring during the year per thousand population.

b. The total number of deaths per year per thousand population.

c. The number of women of reproductive age dying due to maternal causes per one lakh live births

d. The number of children born to women during her entire reproductive period

e. Answer not known

சரியான விடையைத் தேர்வு செய்க

மொத்தக் கருவுருதல் விகிதம் அளவிடும் முறைகள்.

a. 1000 மக்கள்தொகைக்கு ஒரு வருடத்தில் நிகழும் நேரடி பிறப்புகளின் எண்ணிக்கை

b. ஆயிரம் மக்கள் தொகைக்கு ஒரு வருடத்தில் நிகழும் மொத்த இறப்புகளின் எண்ணிக்கை

c. ஒரு லட்சம் பிறப்புகளில் தாய்வழி காரணங்களால் இறக்கும் இனப்பெருக்க வயதுடைய பெண்களின் எண்ணிக்கை

d. பெண்களின் முழு இனப்பெருக்க காலத்தில் பிறந்த குழந்தைகளின் எண்ணிக்கை

e. விடை தெரியவில்லை

79. Nehru Yuva Kendra Sangathan (NYKS) was launched in  
 a. 1970 b. 1971 c. 1972 d. 1973 e. Answer not known  
 நேரு யுவா கேந்திரா சங்கதன் (NYKS) துவக்கப்பட்ட ஆண்டு எது?  
 a. 1970 b. 1971 c. 1972 d. 1973 e. விடை தெரியவில்லை
80. Which is the health scheme, comprising of Indian medicines and Homeopathy which was implemented to control and prevent the Covid-19 pandemic in Tamil Nadu?  
 a. State health mission b. Arokkiam c. Novel Corona virus programme  
 d. Amma clinic e. Answer not known  
 கொரோனா தொற்று நோயைக் கட்டுப்படுத்தவும் தடுக்கவும் இந்திய மருத்துவம் மற்றும் ஹோமியோபதி ஆகியவற்றை உள்ளடக்கிய சுகாதாரத் திட்டம் எது?  
 a. மாநில சுகாதாரத் திட்டம் b. ஆரோக்கியம்  
 c. நோவல் கரோனா வைரஸ் திட்டம் d. அம்மா சுகாதார நிலையம்  
 e. விடை தெரியவில்லை
81. The Department of School Education has announced that the English language labs will be setup in 6029  
 a. Primary Schools b. Middle Schools  
 c. High and Higher Secondary Schools d. Colleges  
 e. Answer not known  
 பள்ளிக்கல்வித்துறை 6029 பள்ளிகளில் ஆங்கில மொழி ஆய்வகங்கள் பின்வரும் எந்த பள்ளிகளில் அமைக்கப்படும் என அறிவித்துள்ளது?  
 a. ஆரம்பப் பள்ளி b. நடுநிலைப் பள்ளி  
 c. உயர் மற்றும் மேல்நிலைப் பள்ளி d. கல்லூரிகள்  
 e. விடை தெரியவில்லை
82. In Tamil Nadu, one Primary Health Centre serves for every  
 a. 10,000 persons b. 30, 000 persons c. 50, 000 persons  
 d. 1 lakh persons e. Answer not known  
 தமிழ்நாட்டில், ஒரு ஆரம்ப சுகாதார நிலையம் \_\_\_\_\_ க்கு சேவை புரிகிறது.  
 a. 10,000 மக்கள் b. 30,000 மக்கள் c. 50,000 மக்கள்  
 d. 1 லட்சம் மக்கள் e. விடை தெரியவில்லை
83. Higher Education Commission of India (HECI) excludes  
 a. Medical Education only b. Legal Education only  
 c. Medical and Legal Education d. Technical Education  
 e. Answer not known  
 பின்வரும் கல்விகளில் இந்திய உயர் கல்வி ஆணையம் எந்த கல்வியை விளக்குகிறது?  
 a. மருத்துவ கல்வி மட்டும் b. சட்டக் கல்வி மட்டும்  
 c. மருத்துவம் மற்றும் சட்டக் கல்வி d. தொழில்நுட்பக் கல்வி  
 e. விடை தெரியவில்லை
84. Tamil Nadu Urban Health Care project is implemented with the support of  
 a. Japan b. China c. France  
 d. America e. Answer not known



- a. [A] சரி, ஆனால் [R] தவறு
- b. [A] மற்றும் [R] இரண்டும் சரி, [R] –என்பது [A]-வின் சரியான விளக்கம்
- c. [A] தவறு [R] சரி
- d. [A] மற்றும் [R] இரண்டும் சரி, ஆனால் [R]- என்பது [A]-வின் சரியான விளக்கம் இல்லை
- e. விடை தெரியவில்லை

88. Various welfare schemes to enhance the overall development of Adi Dravidar and Scheduled Tribe people, a sum of Rs. \_\_\_\_ crores has been allocated in the Budget Estimate for the year 2023-2024.

- a. Rs. 3012.85
- b. Rs. 3212.85
- c. Rs. 3512.85
- d. Rs. 3552.85
- e. Answer not known

ஆதிதிராவிடர் மற்றும் பழங்குடியின மக்களின் ஒட்டு மொத்த வளர்ச்சியை மேம்படுத்த பல்வேறு நலத்திட்டங்கள், 2023-2024ஆம் ஆண்டுக்கான வரவு செலவு மதிப்பீட்டில் ரூ. \_\_\_\_\_ கோடிகள் ஒதுக்கீடு செய்யப்பட்டுள்ளது.

- a. ரூ. 3012.85
- b. ரூ. 3212.85
- c. ரூ. 3512.85
- d. ரூ. 3552.85
- e. விடை தெரியவில்லை

89. Which of the following statements are true about Mandal Commission?

- i. The Mandal Commission or the third socially and educationally Backward Classes Commission was established in 1979
- ii. The Commission reported that 72% of the country's population was comprised of OBCs.
- iii. The commission also identified backward classes among Non-Hindus
- a. (i) and (iii) only
- b. (ii) and (iii) only
- c. (i) only
- d. (iii) only
- e. Answer not known

மண்டல் கமிஷன் பற்றிய பின்வரும் கூற்றுகளில் உண்மையானவை எவை?

- i. மண்டல் குழு அல்லது மூன்றாவது சமூக மற்றும் கல்வியில் பின்தங்கிய வகுப்பினர் குழு 1979 இல் நிறுவப்பட்டது.
- ii. நாட்டின் மக்கள்தொகையில் 72% இதர பிற்படுத்தப்பட்ட வகுப்பினரை உள்ளடக்கியதாக ஆணையம் தெரிவித்துள்ளது.
- iii. இந்த ஆணையம் இந்துக்கள் அல்லாத பிற்படுத்தப்பட்ட வகுப்பினரையும் அடையாளம் கண்டுள்ளது.
- a. (i) மற்றும் (iii) மட்டும்
- b. (ii) மற்றும் (iii) மட்டும்
- c. (i) மட்டும்
- d. (iii) மட்டும்
- e. விடைதெரியவில்லை

90. Samagra Shiksha Abhiyan Scheme aims to

- a. Integrate vocational education with General Academic Education.
- b. Integrate Technical Education with Higher Education.
- c. Integrate Teacher Education with General Education.
- d. Integrate Formal Education with Non-formal Education.
- e. Answer not known

சமக்ரா சிக்ஷா அபியான் திட்டத்தின் நோக்கம்

- a. பொதுக் கல்வியுடன் தொழிற்கல்வியை இணைப்பது
- b. தொழில் நுட்பக் கல்வியுடன் உயர் கல்வியை இணைப்பது
- c. பொதுக் கல்வியுடன் ஆசிரியர் கல்வியை இணைப்பது
- d. முறைசார்ந்த கல்வியுடன் முறைசாராக் கல்வியை இணைப்பது.
- e. விடை தெரியவில்லை

91. Anemia Mukht Bharat was implemented in Tamil Nadu in the year  
a. 2010      b. 2015      c. 2018      d. 2020      e. Answer not known  
தமிழ்நாட்டில் இரத்த சோகை முக்த் பாரத் திட்டம் எந்த ஆண்டு தொடங்கப்பட்டது?  
a. 2010      b. 2015      c. 2018      d. 2020      e. விடை தெரியவில்லை
92. Assertion and Reason type :  
Assertion (A): The Government of Tamilnadu as a welfare state supplies food – grains and essential commodities at affordable price to the general public under PDS.  
Reason (R): In order to alleviate poverty the essential commodities are supplied in the Indian context in Indian Food economy.  
a. (A) is true but (R) is false  
b. Both (A) and (R) are true and (R) is the correct explanation of (A)  
c. (A) is false and (R) is true  
d. Both (A) and (R) are true but (R) is not the correct explanation of (A)  
e. Answer not known  
கூற்று (A): பொது வழங்கல் முறையின் கீழ் தமிழ்நாடு அரசு அதன் ஒரு நலத்திட்டத்தின் அடிப்படையில் பொதுமக்களுக்கு அத்தியாவசிய உணவுப் பண்டங்களை மலிவு விலையில் வழங்குகிறது.  
காரணம் (R): இந்திய உணவு பொருளாதார கொள்கையின் அடிப்படையில், வறுமையை ஒழிக்கும் நோக்கோடு அத்தியாவசிய பண்டங்கள் வழங்கப்படுகிறது.  
a. (A) சரியானது ஆனால் (R) தவறானது  
b. (A) மற்றும் (R) இவை இரண்டும் சரி மேலும் R என்பது (A) விற்கு சரியான விளக்கம்  
c. (A) தவறு மற்றும் (R) சரி  
d. (A) மற்றும் (R) இவை இரண்டும் சரி மேலும் R என்பது (A) விற்கு சரியான விளக்கமல்ல  
e. விடை தெரியவில்லை
93. The commission for Scheduled Castes and Scheduled Tribes has been renamed as National Commission for scheduled caste and Scheduled Tribes in the year  
a. 1987      b. 1985      c. 1984      d. 1990      e. Answer not known  
எந்த ஆண்டில் தாழ்த்தப்பட்ட வகுப்புகள் மற்றும் பழங்குடியினருக்கான ஆணையம் பட்டியல் பழங்குடியினருக்கான தேசிய ஆணையமாக மறுபெயரிடப்பட்டது.  
a. 1987      b. 1985      c. 1984      d. 1990      e. விடை தெரியவில்லை
94. Match the following:  
A. World Day of Social Justice      1. 11<sup>th</sup> April  
B. Social Justice for a Fair Globalization      2. 2<sup>nd</sup> August  
C. Philadelphia Declaration      3. 20<sup>th</sup> February  
D. ILO      4. 10<sup>th</sup> June
- |    | A                | B | C | D |
|----|------------------|---|---|---|
| a. | 2                | 4 | 1 | 3 |
| b. | 3                | 2 | 4 | 1 |
| c. | 4                | 3 | 2 | 1 |
| d. | 3                | 4 | 2 | 1 |
| e. | Answer not known |   |   |   |

பின்வருவனவற்றைப் பொருத்துக:

- |   |                |
|---|----------------|
| A. உலக சமூக நீதி நாள்                   | 1. 11 ஏப்ரல்   |
| B. நியாயமான உலகமயமாக்கலுக்கான சமூக நீதி | 2. 2 ஆகஸ்ட்    |
| C. பிலடெல்பியா பிரகடனம்                 | 3. 20 பிப்ரவரி |
| D. சர்வதேச தொழிலாளர் அமைப்பு            | 4. 10 ஜூன்     |

	A	B	C	D
a.	2	4	1	3
b.	3	2	4	1
c.	4	3	2	1
d.	3	4	2	1

e. விடை தெரியவில்லை

95. The Central Social Welfare Board was registered under
- |                               |   |
|-------------------------------|---|
| a. Indian Trust Act           | b. Indian Companies Act                     |
| c. Societies Registration Act | d. Philanthropic Societies Registration Act |
| e. Answer not known           |   |

மத்திய சமூக நல வாரியம் பின்வரும் எதன் கீழ் பதிவு செய்யப்பட்டது?

- |                               |                                   |
|-------------------------------|-----------------------------------|
| a. இந்திய அறக்கட்டளைச் சட்டம் | b. இந்திய நிறுவன சட்டம்           |
| c. சங்கப் பதிவுச் சட்டம்      | d. பரோபகார சங்கங்கள் பதிவு சட்டம் |
| e. விடை தெரியவில்லை           |                                   |

96. The Tamil Nadu Government has announced that the smart class rooms would be built in all 23,000 Government \_\_\_\_\_ in the next four years.
- |                    |                      |                             |
|--------------------|----------------------|-----------------------------|
| a. Primary Schools | b. Secondary Schools | c. Higher Secondary Schools |
| d. Colleges        | e. Answer not known  |                             |

அடுத்த நான்கு ஆண்டுகளில் அனைத்து 23,000 அரசு \_\_\_\_\_ களும் தொழில் நுட்பத்தால் மேம்பட்ட வகுப்பறைகளாக மாற்றப்படும் என தமிழ்நாடு அரசு அறிவித்துள்ளது.

- |                |                     |                     |
|----------------|---------------------|---------------------|
| a. ஆரம்ப பள்ளி | b. மேல்நிலைப் பள்ளி | c. உயர்நிலைப் பள்ளி |
| d. கல்லூரி     | e. விடை தெரியவில்லை |                     |

97. Which of the following is incorrectly paired?

- |                 |   |                 |
|-----------------|---|-----------------|
| 1. DPEP         | - District primary educational programme                |                 |
| 2. CSIR         | - Council of scientific and industrial research         |                 |
| 3. NCAER        | - National council of applied environment research      |                 |
| 4. NCERT        | - National council of educational research and training |                 |
| a. 2 and 3 only | b. 2 and 4 only   | c. 1 and 3 only |
| d. 3 and 4 only | e. Answer not known                                     |                 |

பின்வருவனவற்றில் எது தவறாக இணைக்கப்பட்டுள்ளது?

- |                        |   |                        |
|------------------------|---|------------------------|
| 1. DPEP                | - மாவட்ட முதன்மைக் கல்வித் திட்டம்                  |                        |
| 2. CSIR                | - அறிவியல் மற்றும் தொழில்துறை ஆராய்ச்சி நிறுவனம்    |                        |
| 3. NCAER               | - தேசிய பயன்பாட்டு சுற்றுச்சூழல் ஆராய்ச்சி நிறுவனம் |                        |
| 4. NCERT               | - தேசிய கல்வி ஆராய்ச்சி மற்றும் பயிற்சி நிறுவனம்    |                        |
| a. 2 மற்றும் 3 மட்டும் | b. 2 மற்றும் 4 மட்டும்                              | c. 1 மற்றும் 3 மட்டும் |
| d. 3 மற்றும் 4 மட்டும் | e. விடை தெரியவில்லை                                 |                        |

98. Which year the Right of Children to Free and Compulsory Education Act was passed?

- a. 2001      b. 2009      c. 2011      d. 2020      e. Answer not known

எந்த ஆண்டு குழந்தைகளுக்கான இலவச மற்றும் கட்டாயக்கல்விக்கான உரிமைச் சட்டம் நிறைவேற்றப்பட்டது?

- a. 2001      b. 2009      c. 2011      d. 2020      e. விடைதெரியவில்லை

99. Match the following type:

- |   |         |
|---|---------|
| A. National malaria Eradication Programme | 1. 1963 |
| B. Applied Nutrition Programme            | 2. 1968 |
| C. National Family Planning programme     | 3. 1954 |
| D. National Leprosy Control Programme     | 4. 1953 |

- |    |   |   |   |   |
|----|---|---|---|---|
|    | A | B | C | D |
| a. | 2 | 1 | 4 | 3 |
| b. | 2 | 4 | 3 | 1 |
| c. | 3 | 1 | 2 | 4 |
| d. | 4 | 2 | 1 | 3 |

e. Answer not known

கீழ்க்கண்டவற்றை பொருத்துக:

- |  |         |
|--|---------|
| A. தேசிய மலேரியா ஒழிப்பு திட்டம்         | 1. 1963 |
| B. பயன்பாட்டு ஊட்டச்சத்து திட்டம்        | 2. 1968 |
| C. தேசிய குடும்ப கட்டுப்பாடு திட்டம்     | 3. 1954 |
| D. தேசிய தொழு நோய் கட்டுப்பாடுத் திட்டம் | 4. 1953 |

- |    |   |   |   |   |
|----|---|---|---|---|
|    | A | B | C | D |
| a. | 2 | 1 | 4 | 3 |
| b. | 2 | 4 | 3 | 1 |
| c. | 3 | 1 | 2 | 4 |
| d. | 4 | 2 | 1 | 3 |

e. விடைதெரியவில்லை

100. National Institutional Ranking frame work (NIRF) was launched in the month and year

- a. September 29, 2014      b. September 29, 2015      c. September 29, 2016  
c. September 29, 2017      e. Answer not known

தேசிய நிறுவன தரவரிசை கட்டமைப்பானது (NIRF) பின்வரும் எந்த மாதம் மற்றும் ஆண்டில் தொடங்கப்பட்டது.

- a. செப்டம்பர் 29, 2014      b. செப்டம்பர் 29, 2015      c. செப்டம்பர் 29, 2016  
d. செப்டம்பர் 29, 2017      e. விடைதெரியவில்லை

101. Match the following words and phrases given in Column A with their meanings in Column B.

- |                |                    |
|----------------|--------------------|
| Column A       | Column B           |
| A. Bring out   | 1. Make one agree  |
| B. Bring round | 2. Educate         |
| C. Bring about | 3. Publish         |
| D. Bring up    | 4. Cause to happen |

	A	B	C	D
a.	2	1	3	4
b.	4	3	1	2
c.	1	3	4	2
d.	3	1	4	2
e.	Answer not known			

102. Match the Following: Synonym

Column A	Column B
A. Panting	1. A cry made to show unhappiness
B. Exertions	2. Possessed
C. Snort	3. Breathing quickly
D. Haunted	4. Effort

	A	B	C	D
a.	2	4	1	3
b.	3	4	1	2
c.	3	4	3	2
d.	1	2	4	3
e.	Answer not known			

103. How did you \_\_\_\_\_ his purse?

- a. come about      b. come off      c. come out  
d. come by      e. answer not known

104. Food and water are the two basic necessities that citizens should have\_\_\_\_\_.

- a. access for      b. access at      c. access in  
d. access to      e. Answer not known

105. Match the Following: Synonym

Column A	Column B
A. Crumbling	1. Breaking apart into small pieces
B. Scuttling	2. Running with short quick steps
C. Straggling	3. Spreading out in different directions
D. Crouching	4. Bending down

	A	B	C	D
a.	2	4	3	1
b.	4	3	1	2
c.	3	1	2	3
d.	1	2	3	4
e.	Answer not known			

106. Match the Following:

Column A	Column B
A. Champ	1. Knock loudly
B. Smote	2. Listen attentively
C. Harkening	3. Lose one's balance
D. Stumble	4. Chew noisily

	A	B	C	D
a.	2	4	1	3
b.	4	1	2	3
c.	3	1	4	2
d.	1	2	3	4
e.	Answer not known			

107. Choose the correct Antonym of the underlined word from the options given below.  
Boost the morale in the country.  
a. Fear                      b. Attitude                      c. Spirit                      d. Confidence
108. Choose the correct Antonym of the underlined word from the options given below.  
I forgot all about Mr.Hamel's ruler and how cranky he was.  
a. Unusal                      b. Good-Natured                      c. Unfamiliar                      d. Strange
109. Choose the correct Antonym of the underlined word from the options given below.  
The discrepancy about the crests put me on my guard  
a. Disparity                      b. Similarity                      c. Difference  
d. Divergence
110. Choose the correct word for suffix '\_\_\_ism'  
a. Sympathy                      b. Plagiar                      c. Curator                      d. Province
111. The prefix for 'tie' is  
a. In                      b. Un                      c. Mis                      d. Over
112. Fill in the blank with suitable Article.  
1. He will return in \_\_\_\_\_ hour.  
2. \_\_\_\_\_ historians are a great assets to the field of academia.  
3. She is in \_\_\_\_\_ hurry to meet her brother.  
a. a, No article,a                      b. an,the,an                      c. an,a,an                      d. an,No article,a
113. Fill in the blank with suitable Article.  
There was an interesting article in the newspaper about the dangers to \_\_\_\_\_ environment.  
a. a                      b. the                      c. an                      d. No article
114. Fill in the blanks with suitable Article:  
\_\_\_\_\_ year ago, Arihant decided to join \_\_\_\_\_NCC.  
a. A; an                      b. The; No article                      c. The; a                      d. A; the
115. Fill in the blank with suitable Preposition:  
The train was delayed \_\_\_\_\_an accident.  
a. because                      b. in order to                      c. since  
d. owing to                      e. Answer not known

116. Fill in the blank with suitable Preposition:  
The old lady nearly\_\_\_\_\_.
- a. dead out of fright                      b. died of fright                      c. died with frightening  
d. dead from fright                      e. Answer not known
117. Select the sentence with the appropriate use of PREPOSITION.
- a. The lion and the unicorn fought between the crown.  
b. The lion and the unicorn fought for the crown.  
c. The lion and the unicorn fought by the crown.  
d. The lion and the unicorn fought up the crown.  
e. Answer not known
118. The children begun to cry, \_\_\_\_\_?
- a. don't they?                      b. didn't they?                      c. doesn't they?  
d. did they?
119. Students have nothing in their hands, \_\_\_\_\_?
- a. do they?                      b. have they?                      c. haven't they?  
d. don't they?
120. A barking dog seldom bites, \_\_\_\_\_?
- a. doesn't it?                      b. does he?                      c. don't it  
d. does it?
121. Choose the correct tense:  
After working so much in the fields yesterday did you \_\_\_\_\_a break?
- a. took                      b. take                      c. taken  
d. taked
122. Choose the correct tense:  
He \_\_\_\_\_pleasantly with her yesterday evening but not today.
- a. speaks                      b. speak                      c. spoke  
d. spoken
123. Choose the correct tense:  
My friend \_\_\_\_\_an expensive cell phone.
- a. owns                      b. is owning                      c. own  
d. was owned                      e. Answer not known
124. Choose the correct Active Voice for the given sentence:  
The agency had been robbed by two masked intruders
- a. Two masked intruders have robbed the agency  
b. Two masked intruders robbed the agency  
c. Two masked intruders had been robbed the agency  
d. Two masked intruders had robbed the agency  
e. Answer not known

125. Choose the correct Active Voice for the given sentence:  
Why is the rotten apple being eaten by you?  
a. Why were you eating the rotten apple?  
b. Why you are eating the rotten apple?  
c. Why have you eaten the rotten apple?  
d. Why are you eating the rotten apple?  
e. Answer not known
126. Choose the correct Active Voice for the given sentence:  
By whom were these letters written?  
a. Who have written these letters?                      b. Who writes these letters?  
c. Who had written this letters?                      d. Who wrote these letters?  
e. Answer not known
127. Identify the non-finite verb:  
Before taking this medicine you should consult a doctor.  
a. Gerund                      b. Infinitive                      c. Past Participle  
d. Present Participle                      e. Answer not known
128. Fill in the blank with correct non-finite verb.  
I enjoy \_\_\_\_\_ languages because I like them.  
a. to learning                      b. learn                      c. learning  
d. learnt                      e. Answer not known
129. Fill in the blank with correct non-finite verb:  
He would rather die than \_\_\_\_\_ a lie.  
a. tell                      b. to tell                      c. to telling  
d. telling                      e. Answer not known
130. Fill in the blank with correct non-finite verb:  
He had no choice but \_\_\_\_\_  
a. to obey                      b. obey                      c. obeying  
d. obeyed                      e. Answer not known
131. Identify the sentence pattern:  
We thought him a fool.  
a. SVIOD                      b. SVCA                      c. SVOCA  
d. SVOC                      e. Answer not known
132. Match the sentences given under Column A with the patterns given under Column B.
- | Column A                        | Column B       |
|---------------------------------|----------------|
| A. Kala bought a book from shop | 1. S V A       |
| B. He painted the gate brown    | 2. S V I O D O |
| C. My friend gifted me a book   | 3. S V O A     |
| D. She danced beautifully       | 4. S V O C     |

	A	B	C	D
a.	3	2	1	4
b.	2	1	4	3
c.	3	4	2	1
d.	4	3	1	2

e. Answer not known

133. Identify the sentence pattern

One of the boys had been singing well.

- a. S V C                                      b. S V O C                                      c. S V A  
d. S V IO DO                                      e. Answer not known

134. Sarah just gave \_\_\_\_\_ to a baby boy.

- a. berth                                      b. breath                                      c. broth  
d. birth                                      e. Answer not known

135. The princess firmly held the \_\_\_\_\_ in her hands to control the horse.

- a. rain                                      b. ran                                      c. reign  
d. rein                                      e. Answer not known

136. Find out the error:

They will not attend (A)/ the event (B)/ as they're going (C)/ away at end of April. (D)

- a. A                      b. B                      c. C                      d. D                      e. Answer not known

137. Find out the error:

You arrived two days ago. By the time you leave, you will have spent nine days here.

- a. You arrived two days ago                      b. you will have spent nine days here  
c. By the time you leave                      d. No error  
e. Answer not known

138. Find out the error:

This scripture/ has been/ translated to/ seventy languages.

- a. seventy languages                      b. This scripture                      c. has been  
d. translated to                      e. Answer not known

139. Select the grammatically correct sentence

- a. Today is sixth day of our workshop. All the participants are highly enthusiastic.  
b. Today is a sixth day of our workshop. All the participants are highly enthusiastic.  
c. Today is the sixth day of our workshop. All the participants are highly enthusiastic.  
d. Today is sixth day of our workshop. All participants are highly enthusiastic.  
e. Answer not known

140. Select the correct word:  
A misunderstanding has crept between \_\_\_\_\_ and his sister.  
a. he                      b. him                      c. she                      d. I                      e. Answer not known
141. Select the correct sentence:  
a. Either of these two roads lead to the post office.  
b. Either of these two road leads to the post office.  
c. Either of these two roads leads to the post office.  
d. Either of these two road lead to the post office.  
e. Answer not known.
142. Identify the parts of speech of the underlined words:  
I. It costs ten rupees.  
II. The cost of the pen is five rupees.  
a. I is noun and II is verb                      b. I is verb and II is noun  
c. I is adjective and II is noun                      d. I is verb and II is adverb  
e. Answer not known
143. Find out the odd word.  
a. swarm                      b. herd                      c. shoal  
d. puppies                      e. Answer not known
144. Identify the correct usage of collective noun.  
a. A hive of fish.                      b. A swarm of bees.                      c. A bale of players.  
d. A pile of ships.                      e. Answer not known
145. Identify the parts of speech of the underlined words.  
I. This is his book.  
II. This book is his.  
a. I is pronoun and II is adjective                      b. Both I and II are adjective  
c. I is adjective and II is pronoun                      d. I is verb and II is pronoun  
e. Answer not known
146. Choose the correct plural form from the options.  
a. daughters-in-law                      b. governor generals                      c. man servants  
d. ten-years-old                      e. Answer not known
147. Select the correct plural form for the word criterion.  
a. Criterions                      b. Criteria                      c. Criterias  
d. Criteriones                      e. Answer not known
148. Identify the sentence  
He followed what I suggested  
a. Simple                      b. Compound                      c. Complex  
d. Imperative                      e. Answer not known

149. Identify the sentence  
Since there was a bundh, the shops remained closed.  
a. Simple                      b. Compound                      c. Complex  
d. Imperative                      e. Answer not known
150. Pick out the complex sentence from the option  
1. The old man was weak therefore he could not walk properly  
2. She must work hard otherwise she will not be successful in the examination  
3. The thief fled away when he saw the police man  
4. You must not be late or you will not be allowed entry  
a. 1                      b. 2                      c. 4                      d. 3                      e. Answer not known
151. Select the correct superlative degree of comparison for the given sentence  
I told him my inner feelings  
a. I told him my feelings                      b. I told him my innermost feelings  
c. I told him my more inner feelings                      d. I told him my most inner feelings  
e. Answer not known
152. Identify the correct Degree:  
a. This film is one of the funny films of all time.  
b. I used a variety of sources to find the cheapest flight.  
c. Siddharth is more braver than intelligent.  
d. The performance of the musicians was rather more worst than expected by the audience.  
e. Answer not known
153. Complete the sentences with the correct degree of comparison:  
Kindness is the \_\_\_\_ of all virtues.  
a. as noble as                      b. nobler                      c. noblest  
d. none of these                      e. Answer not known
154. Match the following words given under Column A with the blended forms under Column B:
- |    | Column A                     |   |   |   | Column B      |
|----|------------------------------|---|---|---|---------------|
|    | A. medical + claim           |   |   |   | 1. Comsat     |
|    | B. transfer + resistor       |   |   |   | 2. mediclaim  |
|    | C. telephone + telegram      |   |   |   | 3. transistor |
|    | D. communication + satellite |   |   |   | 4. phonogram  |
|    | A                            | B | C | D |               |
| a. | 1                            | 2 | 3 | 4 |               |
| b. | 2                            | 3 | 4 | 1 |               |
| c. | 4                            | 2 | 3 | 1 |               |
| d. | 3                            | 2 | 1 | 4 |               |

155. Identify the words which blend to form the word "Bionic" and choose the correct answer from the codes given below :
- a. Biology + electronic      b. Bio + Electronic      c. Botany + electronic  
d. Biology + nic      e. Answer not known
156. Identify the compound word of "ADJECTIVE AND ADJECTIVE".
- a. star light      b. flash light      c. light sensitive  
d. light green      e. Answer not known
157. Which of the following is a compound word with a NOUN + NOUN combination?
- a. White washing      b. World famous      c. School boy  
d. Washing machine      e. Answer not known
158. Find out the American equivalent of the British English idiom.  
"a storm in a teacup"
- a. a whirlpool in a teapot      b. a hurricane in a teacup  
c. a tempest in a teacup      d. a strong wind in a teapot  
e. Answer not known
159. The American English equivalent of the word 'washbasin' is
- a. zee      b. wash room      c. wash tank  
d. sink      e. Answer not known

**Read the following passage carefully and answer the questions given below**

The earth is losing its forests. Trees cover about 30 per cent of the earth's surface, but they are being destroyed at an alarming rate especially in the tropics. Timber harvesting is a major reason for the destruction of the forests. Trees are used for building house, making furniture and providing pulp for paper products, such as newspapers and magazines. At least 40 hectares of rain forests are being felled every minute, mostly in order to extract the valuable timber.

160. What is the major reason for destruction of forests?
- a. Earthquake      b. Water harvesting      c. Agriculture  
d. Timber harvesting      e. Answer not known

In each of the (161, 162) following questions word is given how many pairs of letters are there in these words which have as many letters between them as in the English alphabet

கீழே கொடுக்கப்பட்டுள்ள (1, 2) ஒவ்வொரு வாக்கியத்திற்கும் ஆங்கில அகரவரிசையில் எழுத்துக்களில் உள்ளதைப் போல வார்த்தையில் உள்ள எழுத்துக்களுக்கு இடையில் எத்தனை இணை எழுத்துக்கள் உள்ளன.

161. STREAMING
- a. Nil      b. One      c. Two  
d. Three      e. Answer not known

162. TERMINATE

- a. None b. One c. Two  
d. Three e. Answer not known

163. Find the odd number pair

தொடர்பற்ற எண் இணையைக் கண்டறியவும்

- (a) (87, 522) b. (84, 672) c. (92, 552)  
(d) (64, 384) e. Answer not known

164. If PAINT is coded as 74128 and EXCEL is coded as 93596, then how would you encode ACCEPT?

PAINT என்பதனை 74128 என்றும் EXCEL என்பதனை 93596 என்ற எண்களால் எழுதினால் ACCEPT என்பதனை எவ்வாறு எழுதலாம்?

- a. 455978 b. 647978 c. 554978  
d. 535961 e. Answer not known

**Directions (Q.No.165-167 Read the following information carefully to answer the questions that follow.**

I. A, B, C, D, E and F are the 6 members of a family.

II. F is the granddaughter of E.

III. D is the grandmother of A.

IV. C is mother of F and wife of B.

V. B's mother is D.

VI. There are two married couples in the family.

I. . A, B, C, D, E மற்றும் F ஆகிய 6 உறுப்பினர்களும் ஒரு குடும்பத்தைச் சேர்ந்தவர்கள்.

II. F என்பவர் E இன் பேத்தி.

III. D என்பவர் A இன் பாட்டி.

IV. C என்பவர் F இன் தாய் மற்றும் B இன் மனைவி.

V. B என்பவரின் தாய் D

VI குடும்பத்தில் இரண்டு திருமணமான தம்பதிகள் உள்ளனர்.

165. How many males are there in the family?

- a. 4 b. 3 c. 2  
d. Cannot be determined e. Answer not known

குடும்பத்தில் எத்தனை ஆண்கள் உள்ளனர்

- a. 4 b. 3 c. 2  
d. தீர்மானிக்க இயலாது e. விடை தெரியவில்லை

166. What is C's relation with A?

- a. Mother b. Grandmother c. Daughter  
d. Cannot be determined e. Answer not known

A என்பவருக்கும் C என்பவருக்கும்

- a. தாய் b. பாட்டி d. மகள்  
d. தீர்மானிக்க இயலாது e. விடை தெரியவில்லை

167. Who among the following is one of the couples?  
 a. EB b. DE c. CD  
 d. Cannot be determined e. Answer not known  
 பின்வருவனவற்றுள் யார் தம்பதியர்?  
 a. EB b. DE c. CD  
 d. தீர்மானிக்க இயலாது e. விடை தெரியவில்லை
168. Arrange the following words according to English dictionary.  
 ஆங்கில அகராதியின் படி பின்வரும் சொற்களை வரிசைப்படுத்துங்கள்.  
 1. Hepatitis 2. Cholera 3. Peptidoglycan 4. Chitin  
 a. 2, 3, 1, 4 b. 4, 2, 1, 3 c. 4, 1, 3, 2  
 d. 3, 1, 4, 2 e. Answer not known
169. Rajeev consistently runs 325 meters everyday except on Sunday when he runs 500 meters. How many kilometers will he run in two weeks? (In this question, the week starts from Monday.)  
 ராஜீவ் 325 மீ தூரம் தினமும் (ஞாயிற்றுக்கிழமை தவிர்த்து) ஓடுகின்றார். ஞாயிற்றுக்கிழமை மட்டும் 500 மீ ஓடுகின்றார் எனில் அவர் இரண்டு வாரங்களில் மொத்தம் எவ்வளவு கிலோமீட்டர் தூரம் ஓடியிருப்பார். (இந்த வினாவில் வாரம் தொடங்கும் தினம் திங்கள்)  
 a. 5.7km b. 2.5km c. 3.2km  
 d. 4.9 km e. Answer not known
- Q.No.170-172**  
 P, Q, R, S, T and X are six persons who decided to start a partnership business in computer hardware. Q, R and T are ladies and the rest are men. P, Q, R and X are well versed in hardware but the other do not know much about the hardware. Q, X and S know marketing but others do not know anything about marketing.  
 பின்வரும் தகவலை கவனமாகப் படித்து, பின்வரும் கேள்விக்கு பதிலளிக்கவும்.
- P, Q, R, S, T மற்றும் X ஆகிய ஆறு நபர்கள் கணினி வன்பொருளில் ஒரு கூட்டாண்மை வணிகத்தைத் தொடங்க முடிவு செய்தனர். Q, R மற்றும் T பெண்கள் மற்றும் மற்றவர்கள் ஆண்கள். P, Q, R மற்றும் X ஆகியவை வன்பொருள் பற்றி நன்கு தெரிந்தவர்கள் ஆனால் மற்றவர்களுக்கு வன்பொருள் பற்றி அதிகம் தெரியாது. Q, X மற்றும் S மார்க்கெட்டிங் தெரியும், ஆனால் மற்றவர்களுக்கு மார்க்கெட்டிங் பற்றி எதுவும் தெரியாது.
170. The male partner who knows marketing but does not know computer hardware.  
 மார்க்கெட்டிங் தெரியும் ஆனால் கணினி வன்பொருள் தெரியாத ஆண் பங்குதாரர்:  
 a. S b. P c. X d. Q e. Answer not known
171. The female partner who is well versed in computer hardware but does not know marketing is  
 கணினி வன்பொருள் நன்கு அறிந்தவர் ஆனால் சந்தைப்படுத்தல் தெரியாத பெண் பங்குதாரர்  
 a. X b. Q c. T d. R e. விடை தெரியவில்லை
172. The female partner who neither knows hardware nor marketing is  
 வன்பொருள் அல்லது சந்தைப்படுத்தல் தெரியாத பெண் பங்குதாரர் ?  
 a. R b. Q c. T d. X e. Answer not known

**Directions (173-175)**

A, B, C, D, E, F, G and H want to have a dinner on a round table and they have worked out the following seating arrangements.

- I. A will sit beside C.
- II. H will sit beside A.
- III. C will sit beside E.
- IV. F will sit beside H.
- V. E will sit beside G.
- VI. D will sit beside F.
- VII. G will sit beside B.
- VIII. B will sit beside D.

A, B, C, D, E, F, G மற்றும் H ஒரு வட்ட மேசையில் இரவு உணவு சாப்பிட விரும்புகிறார்கள், மேலும் அவர்கள் பின்வரும் இருக்கை ஏற்பாடுகளை செய்துள்ளனர்.

- I. A என்பவர் C க்கு அருகில் அமர்ந்திருப்பார்.
- II. H என்பவர் A க்கு அருகில் அமர்ந்திருப்பார்.
- III. C என்பவர் E க்கு அருகில் அமர்ந்திருப்பார்.
- IV. F என்பவர் க்கு அருகில் அமர்ந்திருக்கும்.
- V E என்பவர் F க்கு அருகில் அமர்ந்திருப்பார்.
- VI D என்பவர் F க்கு அருகில் அமர்ந்திருக்கும்.
- VII. G என்பவர் B க்கு அருகில் அமர்ந்திருப்பார்.
- VIII B என்பவர் D க்கு அருகில் அமர்ந்திருப்பார்.

173. Which of the following is wrong?
- a. A will be to the immediate right of C
  - b. D will be to the immediate left of B
  - c. E will be to the immediate right of A
  - d. F will be to the immediate left of D
  - e. Answer not known
- பின்வருவனவற்றுள் எது தவறு?
- a. C என்பவர் உடனடி வலதுபுறத்தில் A இருக்கும்
  - b. D என்பவர் B இன் உடனடி இடதுபுறத்தில் இருக்கும்
  - c. E என்பவர் A இன் உடனடி வலதுபுறத்தில் இருக்கும்
  - d. F என்பவர் D இன் உடனடி இடதுபுறத்தில் இருக்கும்
  - e. விடை தெரியவில்லை
174. A and F will become neighbours, if
- a. B agrees to change her sitting position
  - b. C agrees to change her sitting position
  - c. G agrees to change her sitting position
  - d. H agrees to change her sitting position
  - e. Answer not known

A மற்றும் G எப்போது அருகில் இருப்பவர்களாக மாறுவார்கள்

- a. N தான் நிலையை மாற்ற ஒப்புக்கொள்ளும்போது
- b. C தான் நிலையை மாற்ற ஒப்புக்கொள்ளும்போது
- c. G தான் நிலையை மாற்ற ஒப்புக்கொள்ளும்போது
- d. H தான் நிலையை மாற்ற ஒப்புக்கொள்ளும்போது
- e. விடை தெரியவில்லை

175. H will be sitting between

- a. C and B
  - b. A and F
  - c. D and G
  - d. E and G
  - e. Answer not known
- H என்பவர் இடையில் அமர்ந்திருப்பவர்
- a. C மற்றும் B
  - b. A மற்றும் F
  - c. D மற்றும் G
  - d. E மற்றும் G
  - e. விடை தெரியவில்லை

176. After distributing the sweets equally among 25 children, 8 sweets remain. Had the number of children been 28, 22 sweets would have been left after equal distribution. What was the total number of sweets?

- a. 328
- b. 348
- c. 358
- d. data inadequate
- e. Answer not known

ஒரு இனிப்பை 25 குழந்தைகளுக்கு சமமாகப் பங்கிட்டுக் கொடுத்ததில், 8 இனிப்புகள் மீதமாக இருந்தன. அந்தக் குழந்தைகளின் எண்ணிக்கை 28 ஆக இருந்திருந்தால், சமமான பங்கிட்டுதற்குப் பிறகு 22 இனிப்புகள் மீதமாக இருந்திருக்கும். மொத்த இனிப்புகளின் எண்ணிக்கை என்ன?

- a. 328
- b. 348
- c. 358
- d. விவரங்கள் போதுமானதாக இல்லை.
- e. விடை தெரியவில்லை

177. Cattle : Herd :: Sheep : ?

- a. Flock
- b. Swarm
- c. Shoal
- d. Mob
- e. Answer not known

பசுக்கள் : மந்தை (herd) : : செம்மறியாடுகள் : ?

- a. மந்தை
- b. திரள்
- c. கூட்டம்
- d. கும்பல்
- e. விடை தெரியவில்லை

178. Select the number that can replace the question mark?

கொடுக்கப்பட்ட படத்தில் கேள்விக்குறி உள்ள இடத்தில் வரக்கூடிய எண் / எண் தேர்வு செய்க

64	25	144	9	324	16	36	64	576
	31			38		?		
	36			169		361		

- a. 115
- b. 82
- c. 135
- d. 57
- e. Answer not known

179. There are six teachers. Out of them two are primary teachers and two are secondary teachers. They are to stand in a row, so as the primary teachers, Middle teachers and secondary teachers are always in a set. The number of ways in which they can do so is,

ஆறு ஆசிரியர்கள் உள்ளனர். அவர்களில் இருவர் முதன்மை ஆசிரியர், இருவர் நடுநிலை ஆசிரியர்கள், இருவர் இடைநிலை ஆசிரியர்கள். முதன்மை ஆசிரியர்கள், நடுநிலை ஆசிரியர் மற்றும் இடைநிலை ஆசிரியர்கள் எப்போதும் ஒரு தொகுப்பில் இருப்பதால், அவர்கள் வரிசையில் நிற்க வேண்டும். அவர்கள் அவ்வாறு செய்யக்கூடிய வழிகளின் எண்ணிக்கையைக் கண்டறியவும்.?

- a. 52      b. 48      c. 34      d. 21      e. Answer not known

180. 3<sup>rd</sup> January 2018 was a Wednesday. which of the following years will also 3<sup>rd</sup> January on a Wednesday?

ஜனவரி 3, 2018 புதன்கிழமை. அடுத்த ஆண்டுகளில் எந்த ஆண்டு ஜனவரி 3 ஆம் தேதி புதன்கிழமை இருக்கும்?

- a. 2022      b. 2023      c. 2024      d. 2025      e. Answer not known

181. In a row of girls, Nithya and Suganya occupy the ninth place from the right end and tenth place from the left end, respectively. If they interchange their places, then Nithya and Suganya occupy seventeenth place from the right and eighteenth place from the left respectively. How many girls are there in the row?

ஒரு வரிசையில் நித்தியா என்ற நபர் வலதுபுறத்தில் இருந்து 9-வதாகவும், சுகன்யா என்ற நபர் இடது புறத்தில் இருந்து 10-வதாகவும் அமர்ந்துள்ளனர். பின்னர் இவ்விருவரும் ஒருவருக்கொருவர் இடம் மாற்றிக்கொண்டனர். இப்பொழுது நபர் நித்தியா வலது புறத்தில் இருந்து 17-வதாகவும் மற்றும் சுகன்யா இடது புறத்திலிருந்து 18-வதாகவும் அமர்ந்துள்ளார் எனில் அவ்வரிசையில் உள்ள மொத்த மாணவிகளின் எண்ணிக்கை?

- a. 22      b. 24      c. 26      d. 28      e. Answer not known

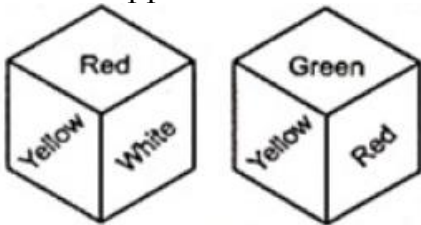
182. Madhu walks 15 metres towards north, then she turns left at 90° and walk 30 metres, then turns right at 90° and walks 25 metres. How far, she is from the starting point and in which direction?

- a. 55mt., north-east      b. 50mt., north-west      c. 60mt., north  
d. 50mt., west      e. Answer not known

மது என்பவர் வடக்குநோக்கி 15 மீ நடந்த பிறகு அவள் இடதுபுறம் திரும்பி 90° கோணத்தில் 30மீ தூரம் நடந்து சென்றாள். பின் வலதுபுறம் திரும்பி 90° கோணத்தில் 25மீ தூரம் நடந்து சென்றாள் எனில், அவள் தொடங்கிய இடத்தில் இருந்து எந்த திசையில் எவ்வளவு தூரத்தில் உள்ளார்.

- a. 55மீ, வடகிழக்கு      b. 50மீ, வடமேற்கு      c. 60மீ, வடக்கு  
d. 50மீ, மேற்கு      e. விடை தெரியவில்லை

183. Two different positions of the same dice are shown, the six faces of which are coloured Red, Green, Blue, Yellow, Black, white. Select the colour that will be on the face opposite to the one coloured white.



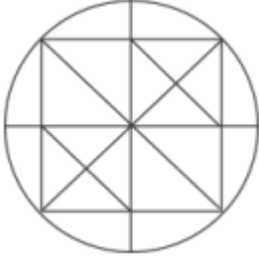
- a. Red      b. Green      c. Black      d. Blue      e. Answer not known

ஒரு பகடையின் இரு வெவ்வேறு நிலைகள் கொடுக்கப்பட்டுள்ளன. அதன் ஆறுமுகங்கள் சிவப்பு, பச்சை, நீலம், மஞ்சள், கருப்பு, வெள்ளை ஆகிய நிறங்களிடப்பட்டுள்ளது. வெள்ளை நிறத்தின் எதிர் முகத்தின் நிறத்தை காண்க.

- a. சிவப்பு      b. பச்சை      c. கருப்பு      d. நீலம்      e. விடை தெரியவில்லை

184. Find the number of triangles in the given figure?

கொடுக்கப்பட்ட படத்தில் முக்கோணங்களின் எண்ணிக்கையைக் கண்டறியவும்



- a. 28      b. 26      c. 30      d. 24      e. Answer not known

185. Study the given pattern carefully and select the number that can replace the question mark (?) in it.

கொடுக்கப்பட்ட படத்தில் விடுபட்ட எண்ணை காண்க?

50	48	30
56	32	40
350	192	?

- a. 140      b. 150      c. 145      d. 180      e. Answer not known

186. Which two numbers and two signs should be interchanged to make the given equation correct?

கொடுக்கப்பட்ட சமன்பாட்டை சரியாக செய்ய எந்த இரண்டு எண்களையும் எந்த இரண்டு குறியீடுகளையும் ஒன்றுக்கொன்று இடமாற்றம் செய்ய வேண்டும்?

$$8 + 15 - 20 \times 10 \div 5 = 47$$

- a. + and -, 8 and 15      b.  $\times$  and +, 15 and 20      c. + and  $\div$ , 8 and 10  
d.  $\times$  and -, 15 and 10      e. Answer not known

187. Statements : I. Some chairs are doors.

II. All doors are tables.

Conclusion :

I. Some Chairs are tables.

II. No doors are chairs.

III. Some tables are doors.

- a. All conclusions I, II and III follows.  
b. Only conclusion I and II follows.  
c. Only conclusion I and III follows.  
d. Only conclusion II follows  
e. Answer not known

கூற்று: I சில நாற்காலிகள் கதவுகள்

II. அனைத்து கதவுகளும் மேசைகள்

முடிவு I சில நாற்கலிகள் மேசைகள்

II. எந்த கதவுகளும் நாற்கலிகள் அல்ல

III. சில மேசைகள் கதவுகள்

- a. முடிவுகள் I II III பின்பற்றபடுகின்றன
- b. முடிவுகள் I மற்றும் II பின்பற்றபடுகின்றன
- c. முடிவுகள் I மற்றும் III பின்பற்றபடுகின்றன
- d. முடிவுகள் II மற்றும் பின்பற்றபடுகின்றன
- e. விடை தெரியவில்லை

188. Statement : If people are intelligent they should be creative  
Assumptions

I. Creativity and intelligence are related

II. Creative people are intelligent

- a. Both Assumptions I and II are invalid
- b. Only Assumption I is valid
- c. Only Assumption II is valid
- d. Both Assumptions I and II valid
- e. Answer not known

அறிக்கை

மக்கள் அறிவார்த்தவர்களாக இருந்தால் அவர்கள் படைப்பாற்றல் மிக்கவர்களாக இருக்க வேண்டும்.

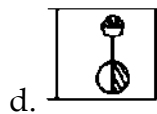
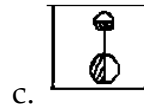
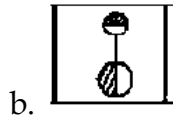

அனுமானங்கள்

I. படைப்பாற்றல் மற்றும் நுண்ணறிவு தொடர்புடையது.

II. படைப்பாளிகள் புத்திசாலிகள்

- a. அனுமானங்கள் I மற்றும் II இரண்டும் தவறானவை
- b. I அனுமானம் மட்டுமே சரியாகும்
- c. அனுமானம் II மட்டுமே சரியாகும்
- d. அனுமானங்கள் I மற்றும் II இரண்டும் சரியாகும்
- e. விடை தெரியவில்லை

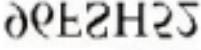
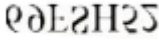
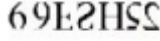
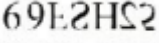
189. Choose the correct Mirror image of the problem figure  
சரியான கண்ணாடி படத்தை தேர்வு செய்க?



e. Answer not known

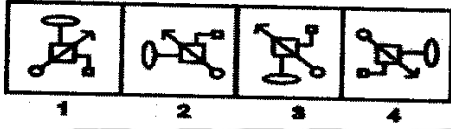
190. Choose the correct water image of the following figure  
சரியான நீர்படத்தை தேர்வு செய்க

96FSH52

- a.  b.  c.   
d.  e. Answer not known

191. Which one of the following is always found in 'Bravery'?  
a. Experience b. Power c. Courage  
d. Knowledge e. Answer not known  
பின்வருவனவற்றில் எது எப்போதும் “வீரத்தில்” காணப்படும்?  
a. அனுபவம் b. சக்தி c. தைரியம்  
d. அறிவு e. விடை தெரியவில்லை

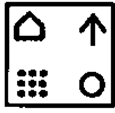



192. Three of the given four figures are similar in a certain manner while one is different. Pick the odd one out.  
கொடுக்கப்பட்ட நான்கு படங்களில் மூன்று ஒரு குறிப்பிட்ட முறையில் ஒத்திருக்கும் அதே வேளையில் ஒன்று வேறுபட்டது வேறுபட்ட ஒன்றை தேர்ந்தெடுக்கவும்.



- a. 2 b. 1 c. 3 d. 4 e. Answer not known

193. Arrow in each figure moves 90° anti-clockwise. So, figure 3 is odd one. select the figure that will replace the question mark (?) or will come next in the following figure series.  
கேள்விக் குறியீட்டை (?) மாற்றும் உருவத்தைத் தேர்ந்தெடுக்கவும் அல்லது பின்வரும் படத் தொடரில் அடுத்ததாக வரும்.



- a.  b.  c.   
d.  e. Answer not known

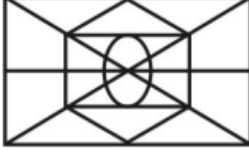
194. In how many different ways can the letters of the word JUDGE be arranged in such a way that the vowels always come together?





- a. 48                      b. 120                      c. 124                      d. 160                      e. Answer not known

உயிர் எழுத்துகள் ஒன்றாக அமையுமாறு 'JUDGE' என்ற சொல்லிலுள்ள எழுத்துகளை எத்தனை வகைகளில் மாற்றி அமைக்கலாம்

- a. 48                      b. 120                      c. 124                      d. 160                      e. விடை தெரியவில்லை

195. Select the option that is embedded in the given figure. (Rotation is NOT allowed)  
கொடுக்கப்பட்டுள்ள நான்கு படங்களில்முதல் படம் உள்ளதை தேர்ந்தெடு (சுழற்சிக்கு அனுமதி இல்லை)



- a.                       b.                       c.                       d.                       e. Answer not known

196. Select the option that is related to the third word in the same way as the second word is related to the first word. (The words must be considered as meaningful English words and must not be related to each other based on the consonants / vowels in the word.)

Uproar : Peace :: Gloom : ?

- a. Delight                      b. Obscurity                      c. Shade  
d. Murk                      e. Answer not known

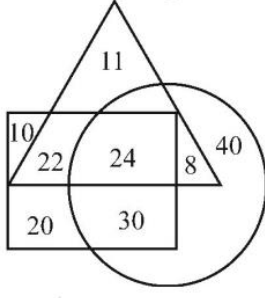
இரண்டாம் சொல் முதல் சொல்லுடன் கொண்டுள்ள உறவுக்கு இணையாக மூன்றாம் சொல்லுடன் தொடர்புடைய சொல்லைக் காண்க. (சொல்லானது அர்த்தமுள்ள சொல்லாக கருதப்பட வேண்டும். மேலும் எழுத்துகளின் எண்ணிக்கை மெய் எழுத்துகளின் எண்ணிக்கை / உயிர் எழுத்துகளின் எண்ணிக்கை தொடர்பை சார்ந்தது அல்ல.)

கலகம் : அமைதி :: வாட்டம் : ?

- a. மகிழ்ச்சி                      b. தெளிவின்மை                      c. நிழல்  
d. இருள்                      e. விடை தெரியவில்லை

**Q.NO.197** In the Venn diagram shown here triangle represents 'students', the circle represents 'diploma holders' and the quadrilateral represents 'graduates'. The numbers given in the diagram represents number of persons of that particular category

கொடுக்கப்பட்டுள்ள வென் வரைபடத்தில் முக்கோணம் "மாணவர்களை" குறிக்கிறது, வட்டம் "டிப்ளோமா வைத்திருப்பவர்களை" குறிக்கிறது மற்றும் நாற்கரமானது "பட்டதாரிகளை" குறிக்கிறது. வரைபடத்தில் கொடுக்கப்பட்டுள்ள எண்கள் அந்த குறிப்பிட்ட வகையைச் சேர்ந்த நபர்களின் எண்ணிக்கையைக் குறிக்கின்றன.



197. How many students are diploma holders but NOT graduates?  
எத்தனை மாணவர்கள் டிப்ளோமா பெற்றவர்கள் ஆனால் பட்டதாரிகள் அல்ல?  
a. 11      b. 30      c. 8      d. 40      e. Answer not known
198. The sum of ages of a man and his son is 47 yrs. After 4 yrs, the age of man will four times the age of his son. Age of son is  
a. 6 years      b. 9 years      c. 8 years  
d. 7 years      e. Answer not known  
ஒரு நபர் மற்றும் அவருடைய மகன் வயதின் கூடுதல் 47 ஆகும். 4 ஆண்டுகளுக்கு பிறகு அந்த நபரை காட்டிலும் அவருடைய மகனின் வயது நான்கு மடங்கு எனில், மகனின் வயது யாது?  
a. 6 ஆண்டுகள்      b. 9 ஆண்டுகள்      c. 8 ஆண்டுகள்  
d. 7 ஆண்டுகள்      e. விடை தெரியவில்லை
199. Statement :  $Z = E \geq R > G < Y > Q = F$   
Conclusions : I.  $R < F$       II.  $R \geq Z$   
a. Both conclusions I and II are true  
b. Only conclusion II is true  
c. Only conclusion I is true  
d. Neither conclusion I nor II is true  
e. Answer not known  
கூற்று:  $Z = E \geq R > G < Y > Q = F$   
முடிவுகள் : I.  $R < F$       II.  $R \geq Z$   
ய. முடிவுகள் I மற்றும் II இரண்டும் சரி.  
டி. முடிவு II மட்டும் சரி.  
உ. முடிவு I மட்டும் சரி.  
ன. முடிவு I மற்றும் II இரண்டும் தவறு  
ந. விடை தெரியவில்லை
200. Select the odd letter-cluster.  
a. LNSV      b. FHMP      c. BDIL  
d. JLPT      e. Answer not known  
கீழே கொடுக்கப்பட்டவற்றுள் கூட்டு எழுத்தை தேர்வு செய்க.  
a. LNSV      b. FHMP      c. BDIL  
d. JLPT      e. விடை தெரியவில்லை



அறிவுக்கு ஏற்றது, மக்களுக்கு நன்மை பயப்பது,  
மக்களின் அறிவை வளர்ச்சியடையச் செய்வது எதுவோ  
அதைப் பற்றியே பேசு.

-தந்தை பெரியார்